

Fit 하는 순간, 오답도 실력이 된다!

고3 2019년 06월 국어  
오답률 랭킹 5위

이지오답핏



## ■ 문항별 분석

번호	대분류	중분류	소분류	배점	결과
01	화법	화법	의사소통 전략	2	O
02	화법	화법	내용 이해	3	O
03	화법	화법	의사소통 전략	2	O
04	작문	작문	글쓰기 계획	2	O
05	작문	작문	글쓰기 전략	2	O
06	화법	화법	의사소통 전략	2	O
07	화법	화법	의사소통 전략	2	O
08	작문	작문	작문의 특성	2	O
09	작문	작문	조건 활용	2	O
10	작문	작문	자료 활용	3	O
11	문법	단어	단어의 의미	2	O
12	문법	단어	단어의 의미	2	O
13	문법	국어사	국어사	2	O
14	문법	음운	음운	2	O
15	문법	문장	사동, 피동	3	O
16	문학	산문 문학	서술상 특징	2	O
17	문학	산문 문학	인물의 성격과 태도	2	O
18	문학	산문 문학	외적 준거에 의한 감상	3	O
19	독서	독서	전체 중심내용 파악	2	O
20	독서	독서	부분 내용 추론	2	O
21	독서	독서	부분 내용 추론	2	O
22	독서	독서	다른 상황과의 비교	3	O
23	문학	산문 문학	작품 내용의 이해	2	O
24	문학	산문 문학	서술상 특징	2	O
25	문학	산문 문학	소재 및 배경	2	X
26	문학	산문 문학	외적 준거에 의한 감상	3	O
27	독서	독서	내용 일치	2	O
28	독서	독서	부분 중심내용 파악	2	O
29	독서	독서	부분 내용 추론	2	O
30	독서	독서	다른 상황과의 비교	3	X
31	독서	독서	어휘	2	O
32	문학	운문 문학	표현상 특징	2	O
33	문학	운문 문학	외적 준거에 의한 감상	3	X
34	문학	운문 문학	시어와 시구의 의미	2	O
35	문학	운문 문학	화자의 정서와 태도	2	O
36	문학	산문 문학	외적 준거에 의한 감상	2	O
37	독서	독서	내용 전개 방식	2	O
38	독서	독서	부분 중심내용 파악	2	O
39	독서	독서	부분 내용 추론	2	O
40	독서	독서	부분 내용 추론	2	X
41	독서	독서	구체적 사례에 적용	3	X
42	독서	독서	어휘	2	O
43	문학	운문 문학	표현상 특징	2	O
44	문학	운문 문학	시어와 시구의 의미	3	O
45	문학	운문 문학	시어와 시구의 의미	2	O

## 나의 오답 문항

고3 2019년 06월 평가원 국어 25번

이게 바로 핵심이야!

왜 틀렸지?

이것만은 기억하자!

## 문제

§ 세부단원정보 : 문학 | 산문 문학 | 소재 및 배경

다음 글을 읽고 물음에 답하시오.

[앞부분 줄거리] 조웅은 송나라 회복을 위해 태자를 구해 함께 위국으로 가던 중 서번국 병사가 매복한 함곡을 향한다.

이적에 원수가 여러 날 만에 연주에 도달하여 군마를 다 쉬게 하고 원수도 노곤하여 사관에서 쉬고 있었는데,

한 나비가 침상에 날아들거늘 원수도 자연스럽게 날개를 얻어 그 나비를 따라 공중에 날아 한 곳에 이르니, 첩첩한 산중에 수목이 뻗뻗한 곳을 깊이 들어가니 그 가운데 광활하여 완전한 별세계라. 또 한 곳을 들어가니 아름다운 궁궐이 하늘에 닿았거늘, 나아가 보니 문에 현판을 붙였으되, [A] ‘만고총렬문’이라 뚜렷이 쓰여 있었다.

궁궐 위를 바라보니 한 노인이 앉았으되 얼굴은 관옥 같고 머리에 황금관을 쓰고 몸에 용포를 입고 뒷자리에 높이 앉았는데, 무수한 사람들이 열좌하여 [큰 잔치]를 배설하고 술과 음식이 가득한 중에 절대 가인이 차례로 앉았으니, 그 아름다움이 측량없더라. 좌석에 가득 앉은 사람들이 여러 왕의 흥망성쇠와 만고역대를 역력히 이르는지라. 맨 뒷자리에 앉은 제왕은 어찌 된 줄을 모르매 분부 왈,

“그대 등은 각각 공을 밝히어 올리라.”

하니 좌석에 가득 앉은 사람들이 각각 공을 밝히는 글을 올리니 그 공적에 왈,

“저는 본래 한나라 신하로 깊은 뜻이 많지 아니하리로다. 옛 일을 살펴보니 복이 복두칠성과 일월에 찬란하리로다.”

또 한 공적에 왈,

“칼을 잡아 흉적을 소멸하니 제후 될 만하도다. 천하를 성처럼 막았으니 문호 세상에 진동하는도다.” 하였더라.

그 남은 공적은 어찌 다 기록하리오. 좌중의 여러 사람들이 각각 소회를 다하고, 혹 노기 등천하며, 혹 칼을 빼들고 매우 성을 내고, 어떤 자는 땅에 섰고, 어떤 자는 깡충깡충 뛰며, 어떤 자는 노래하고, 어떤 자는 춤추기도 하는지라. 이러한 좋은 장면을 세밀히 구경할새, 한 사람이 좌중에 나와 앉으며 왈, “우리 각각 소회는 옛일이라. 한하여도 미치지 못하려니와 알지 못하겠노라. 대송이 역적에 망하니 인하여 멸송이 되었으면 언제 회복되오리까?”

하니 한 사람이

“송나라의 복은 아직 길고 멀었는지라. 어찌 회복이 없사오리까?”

한데, 또 한 사람이,

“그대 등은 알지 못하는도다. 하늘이 송나라 왕실을 회복하고자 조웅을 명하였더니, 불쌍하도다 조웅이여! 일시가 극난하여 명일 미명에 서번 적의 간계에 걸려들어 죽을 듯하니 불쌍하도다. 조웅의 일도 우리와 같을지라. 정해진 나이를 못마치고 전쟁의 패한 혼이 될 듯하니 불쌍코 가련하다.”

이러할 제 문 지키는 군사 급히 고하기를,

“송나라 문제 들어오시나이다.”

하니, 여러 사람이 일시에 뜰로 내려와 영접하여 상좌한 후에 여러 사람이 아뢰기를,

“오늘날 만날 약속을 정하옵고 어찌 늦게 도착하시나이까?”

문제 알,

“송나라 왕실을 회복할 신하는 조웅이라. 오다가 한 곳을 보니 불측한 서번이 조웅을 잡으려고 이러저러하였거늘, 행여 그러할까 하여 시운일수를 통치 못하여 죽을 듯함에, 도사를 찾아가 구하라 하고 부탁하고 오노라.”

하시니, 좌중이 외쳐 알,

“우리는 분명 조웅이 죽으리라 하고 불쌍한 공론을 하였더니, 대운이 막히지 아니하였사오니 천수를 어찌 하오리까?”

원수가 깨달으니 남가일몽이라.

(중략)

원수 꿈속의 일을 생각하니 저절로 마음이 비참하여 슬픔을 머금고 종일 행군할 동안에 염려가 끊이지 않았다.

이날 함곡에 도달하니 해는 서쪽 산 위로 떨어지고 달은 동쪽 고개 위로 떠올랐는데, 무심한 잔나비는 달빛 아래에서 슬피 울고, 그윽한 두견성은 불여귀를 일삼았다. 갈 길은 험악한데 동쪽은 [B] 험한 산이고 서쪽은 깊은 골짜기여서 층층이 험한 산봉우리는 가슴을 찌르는 듯하고 야광은 희미하기만 했다.

선봉을 재촉하여 함곡으로 들어가는데 문득 바라보니 동편 작은 골짜기에 갈포로 만든 두건과 베옷을 입은 한 노옹이 있어 푸른 나귀를 재촉하며 백우선으로 원수를 만류하거늘 원수가 그 노옹을 바라보니 정신이 황홀하였다. 원수가 말을 머물게 하고 잠깐 기다리니 그 노옹이 묻기를,

“연주로부터 오십니까?”

원수가 답 알,

“그러하오이다.”

노옹이 알,

“위국으로 가는 조 원수를 혹 보셨습니까? 보시면 바빠 알려주소서.”

하였다. 원수는 마음속으로 의심하고 한편으로 이상하게 여겨 알,

“내가 바로 조웅이거니와 무슨 일로 긴히 찾습니까?”

하니, 노옹이 크게 기뻐하며 알,

“나는 떠돌아다니는 나그네라. 성품이 남과 달라 빼어난 산천과 명승지지를 즐겨 구경하고 두루 다녔는데, 오로봉에 들어갔다가 천명 도사를 만나 수삼 일을 머물렀더니 출발할 때 한 서찰을 주며 알, ‘그대에게 오늘 오시에 전하라’ 하여 나귀를 바삐 몰아 진시에 도착하려고 했으나 피곤한 나귀 탓으로 시간을 넘겨 버렸기에 행여 못 만날까 염려하였더니 이곳에서 만나니 어찌 즐겁지 아니하겠습니까?”

하며, 소매 속에서 한 통 편지를 내어 주고는 팔을 들어 하직 하거늘 원수 다시 노옹을 바라보니 행색이 아득하였다. 마음속으로 신기하게 여겨 그 편지를 급히 떼어 보니 다른 말은 없고 ‘함곡에 들어가지 말고 성중으로 먼저 들어가서 포를 한 번 쏘라’고만 쓰여 있었다. 원수가 편지를 다 보고는 대경실색하여 좌장군 위홍창을 불러 알,

“장졸을 함곡에 들어가지 못하게 하라.”

하니, 홍창이 급히 아뢰길,

“선봉이 이미 함곡에 들어갔습니다.”

하거늘 원수가 크게 놀라며 왈,

“너는 급히 들어가 선봉을 데려오라. 데려올 때 조금도 어수선하게 하지 말고 그곳에 진을 치고 있는 것처럼 하면서 한둘씩 숨어 나오되 빨리 데리고 나오너라.”

홍창이 원수의 말을 듣고는 급히 함곡에 들어가서 전하니 선봉이 군사를 물려 돌아왔다. 원수가 편지를 얻어 기뻐하며 진을 쳤다.

- 작자 미상, 「조웅전」-

### AH1906-25C

001 [큰 잔치]에 대한 설명으로 적절하지 않은 것은?

- ① 참석자들은 서로의 공적을 평가하며 소회를 드러내고 있다.
- ② 참석자들은 특정 인물에 대한 염려와 기대를 드러내고 있다.
- ③ 참석자들은 대화를 통해 국가의 흥망성쇠에 대한 관심을 드러내고 있다.
- ④ 참석자들은 소회를 다한 후 여러 행위를 통해 각자의 심정을 드러내고 있다.
- ⑤ 많은 참석자와 가득한 음식 차림을 통해 풍성한 잔치 분위기를 드러내고 있다.

다음 글을 읽고 물음에 답하시오.

자점이 심복을 보내 거짓 조서를 전하고 옥에 가두니, 경업이 옥에 갇혀 생각하되,  
 ‘세자와 대군이 어찌 내 일을 모르고 구치 아니시는고?’  
 하며 주야번민하여 목이 말라 물을 찾는데, 옥졸이 자점의 부촉(咐囑)\*을 들은 고로 물도 주지 아니하여  
 경업이 더욱 한하더니, 전옥(典獄) 관원은 강직한지라 경업의 애매함을 불쌍히 여겨 경업더러 알,  
 “장군을 역적으로 잡음이 다 자점의 흥계니, 잘 주선하여 누명을 벗으라.”  
 경업이 그제야 자점의 흥계로 알고 통분을 이기지 못하여 바로 몸을 날려 옥문(獄門)을 깨치고 궐내  
 에 들어가 상을 뵈고 청죄한데, 상이 경업을 보시고 반겨 가로되,  
 “경이 만리타국에 갔다가 이제 돌아오매 반가움이 끝이 없거늘 무삼 일로 청죄하느뇨?”  
 경업이 돈수사죄 알,  
 “신이 무인년에 북경에 잡혀가다가 중간에 도망한 죄는 만사무석시오나, 대명(大明)과 함께 호왕을 베어  
 병자년 원수를 갚고 세자와 대군을 모셔오고자 하였더니, 간인에게 속아 북경에 잡혀갔다가 천행으로  
 살아 돌아옵더니, 의주(義州)에서 잡혀 아무 연고인 줄 알지 못하옵고 오늘을 당하와 천안(天顏)을 뵈오  
 니 이제 죽어도 한이 없사옵니다.”  
 상이 들으시고 대경하사 신하더러 알,  
 “경업을 무슨 죄로 잡아온고?”  
 하시고 자점을 패초(牌招)\*하사 실사를 물으시니, 자점이 속이지 못하여 주왈,  
 “경업이 역적이옵기로 잡아 가두고 계달코자 하였나이다.”  
 경업이 대로하여 고성대매 알,  
 “이 몫쓸 역적아! 들으라. 벼슬이 높고 국록이 족하거늘 무엇이 부족하여 모반할 마음을 두어 나를 해  
 코자 하느뇨?”  
 자점이 듣고 무언이거늘, 상이 노하여 알,  
 “경업은 삼국의 유명한 장수요, 또한 만고충신이거늘 네 무슨 일로 죽이려 하느뇨?”  
 하시고,  
 “자점과 함께한 자를 금부에 가두고 경업은 물러가 쉬게 하라.” 하시다.  
 ㄱ 경업이 사은하고 퇴궐할새, 자점은 궐문 밖에 나와 심복 수십 명을 매복하였다가, 경업이 나옴  
 [A] 을 보고 불시에 달려들어 난타하니, 경업이 아무리 용맹한들 손에 촌철이 없는지라. 여러 번 맞아  
 ㄴ 중상하매 자점이 용사들을 분부하여 경업을 옥에 가두고 금부로 가니라.  
 이때 대군이 시자(侍者)더러 문알,  
 “임 장군이 입성하였으나 지금 어디 있느뇨?”  
 시자가 대알,  
 “소인 등은 모르나이다.”  
 대군이 의심하여 바빠 입궐하여 경업의 거처를 묻되, 상이 수말을 이르시니 대군이 주왈,  
 “자점이 이런 만고충신을 해하려 하오니 이는 역적이라. 엄치하소서.”  
 하고, 명일을 기다려 친히 경업을 가 보려 하시더라.  
 ㄱ 차시, 경업이 자점에게 매를 많이 받아 천명이 진하게 되매 분기대발하여 신음하다 죽으니, 시  
 [B] 년 사십팔 세요, 기축(己丑) 9월 26일이라.

(중략)

자점이 반심을 품은 지 오래다가 절도(絶島)에 안치되매 더욱 앙양(愴愴)하여\* 불측지심이 나타나거  
 늘, 우의정 이시백이 자점의 일을 아뢰니, 상이 놀라 금부도사를 보내 엄형 국문하신 후 옥에 가두었더  
 니, 이날 밤 한 꿈을 얻으시니, 경업이 나아와 주왈,  
 “흥적 자점이 소신을 죽이고 반심을 품어 거의 일이 되었사오니 바빠 국문하옵소서.”  
 하고 울며 가거늘, 상이 놀라 깨달으시니 경업이 앞에 있는 듯 한지라. 상이 슬픔을 이기지 못하시고  
 날이 밝으매 자점을 올려 국문하시니, 자점이 자복하여 역심을 품은 일과 경업을 모해한 일을 승복하거

늘, 상이 노하여 자점의 삼죽을 다 내어,

“저자 거리에서 죽이라.”

하시고,

“그 동류를 다 문죄하라.”

하시며, 경업의 자식들을 불러 하교 왈,

“너희 아버가 자결한 줄로 알았더니, 꿈에 와 ‘자점의 모해로 죽었다.’ 하기로 내어 주나니 원수를 갚으라.”

하시다.

- 작자 미상, 「임장군전」-

\*부촉 : 부탁하여 말김.

\*패초 : 임금이 승지를 시켜 신하를 부름.

\*양양하여 : 매우 마음에 차지 아니하거나 야속하여.

§ 출전 : 고3 2018년 수능 국어 37번

002 윗글에 대한 이해로 가장 적절한 것은?

- ① 경업은 옥에 갇히기 전부터 거짓 조서 때문에 자점의 흉계를 알고 있었다.
- ② 옥졸은 자점의 부탁을 받고 경업의 죄를 상에게 밀고했다.
- ③ 대군은 자점을 의심하며 경업에게 옥에 갇힌 경위를 물었다.
- ④ 우의정 이시백은 경업이 옥에 갇힐 만한 정보를 상에게 제공했다.
- ⑤ 상은 꿈에 나타난 경업의 발언 이후 자점의 자복을 받아 내었다.

다음 글을 읽고 물음에 답하시오.

막 씨 졸연 복통이 있어 마치 태중에 아이 놀 듯하여 점점 불러 오거늘 심히 괴이히 여겨 행여 남이 알까 근심하더니, 십 삭에 미처는 산점\*이 있어 ㉠ 초막(草幕)에 엮드렸더니, 해산하고 돌아보니 아이는 아니요, 금방울 같은 것이 금광이 찬란하거늘, 막 씨 대경하여 괴이히 여기며 손으로 누르되 터지지 아니하고 돌로 깨쳐도 깨어지지 아니하거늘, 이에 집어다가 멀리 버리고 돌아보니 금방울이 굴러 따라오는지라. 더욱 의심하여 집어다가 깊은 물에 들이치고 돌아오니 금방울이 물 위에 가볍게 떠다니다가 막 씨의 가는 양을 보고 여전히 굴러 따라오는지라.

막 씨 헤아리되,

‘나의 팔자 기구하여 이 같은 괴물을 만나 타일에 이로 인하여 반드시 큰 화근이 되리로다.’

하고 불 떨어 때에 아궁이에 들이쳤더니, 닷새 후에 헤쳐 본즉 금방울이 뛰어나오되 상하기는커녕 새로이 금빛이 더욱 짙고 ㉡ 향내 진동하거늘, 막 씨 하릴없어 두고 보니 밤이면 품속에 들어 자고 낮이면 굴러다니며 혹 칩떠 나는 새도 잡고 나무에 올라 과실도 따 가지고 와 앞에 놓으니, 막 씨 자세히 본즉 속에서 실 같은 것이 온갖 것을 문혀 오되 그 털이 출입이 있어 평시에는 반반하고 뵈지 아니하거늘, 추위를 당하여도 방울이 굴러 품에 들면 조금도 춥지 아니하여 엄동설한에 한데서 남의 방아를 짚어 주고 저녁에 초막으로 돌아오니 방울이 굴러 막에서 내달아 반기는 듯 뉘늘거늘 막 씨 추위를 견디지 못하여 막 속으로 들어가니 그 속이 놀랍게 더우며 방울이 빛을 내어 밝기 낮 같거늘, 막 씨 기이히 여겨 남이 알까 저어하여 낮이면 막 속에 두고 밤이면 품속에 품고 자더니, 방울이 점점 자라매 산에 오르기를 평지같이 다니며 진 데와 마른 데 없이 굴러다니되 몸에 흠이 묻지 아니하더라.

[중략 줄거리] 금방울을 탐내다 뜻을 이루지 못한 자가 금방울이 요괴롭다고 비방한다. 이에 고을 수령인 장 공은 막 씨를 잡아서 금방울을 제압하고자 하나, 오히려 금방울이神通력을 발휘하여 장 공은 먹고 자는 것조차 여의치 않게 된다.

부인이 막 씨 놓음을 권하니 장 공이 깨닫고 즉시 막 씨를 놓으니 그날부터 침식이 여전한지라. 장 공이 막 씨의 효행을 듣고 크게 뉘우쳐 초막을 헐고 그 터에 크게 집을 지으며 ㉠ 정문(旌門)\*을 세워 잡인을 금하고 달마다 월음\*을 주어 일생을 편안케 하니라.

차설. 장 공이 뇌양에 온 후로 몸이 평안하나 주야 해룡을 생각하고 부인으로 더불어 슬퍼하더니, 부인이 이로 인하여 침석에 위독하여 백약이 무효하매 공이 주야 병측을 떠나지 아니하더니, 일일은 부인이 공의 손을 잡고 눈물을 흘려 왈,

“첩의 팔자 기박하여 한 날 자식을 난중(亂中)에 잃고 지금 보전함은 요행 생전에 만나 볼까 하였더니 십여 년 존망을 모르매 병입골수하여 명이 오늘뿐이라. ㉡ 구천에 돌아간들 어찌 눈을 감으리오? 바라건대 공은 길이 보중 하소서.”

[A] 하고 인하여 명이 진하니, 장 공이 낮을 대고 애통하여 자로 기절하매 좌우가 붙들어 구호하더니, 밖에서 방울이 굴러 부인 시신 앞으로 들어가거늘, 모두 보니 풀잎 같은 것을 물어다 놓고 가는지라. 급히 집어 보니 나뭇잎 같은 것이로되 가늘게 찢으되 ‘보은초(報恩草)’라 하였거늘, 공이 대희 왈,

“이는 막 씨가 보은한 것이로다.”

하고, 그 풀을 부인 입에 넣으니, 식경 후에 부인이 몸을 운동하여 돌아눕거늘, 좌우가 울음을 그치고 수족을 주무르니 그제야 부인이 숨을 길게 쉬는지라. 공이 병을 물은대, 부인이 자고 나매 정신이 씩씩하다고 대답하니, 공이 대열하여 방울의 수말\*을 다하고 못내 기뻐하더라.

그 후로 부인의 병세 과연 평복되니 부인이 친히 막 씨의 ㉢ 집에 가 재생지은(再生之恩)을 만만사례하고 맺어 형제 되매, 그 후로는 방울이 굴러 부인 앞에 오거늘 장 공 부부 사랑하여 손에 놓지 아니하니, 방울이 아는 듯 이리 안기며 저리 품기어 영민함이 사람 뜻대로 하는지라, 이름을 ㉣ ‘금령(金鈴)’이라 했다.

- 작자 미상, 「금방울전」-

\* 산점 : 해산의 기미.

\* 정문 : 충신·효자·열녀 등을 표창하기 위해 집 앞에 세우던 붉은 문.

\* 월음 : 매달 주는 돈이나 물품.

\* 수말 : 일의 처음부터 끝.

§ 출전 : 고3 2012년 수능 국어 13번

003 [A]에 대한 이해로 가장 적절한 것은?

- ① 서술자가 주인공으로 등장하여 자신의 체험을 사실적으로 서술하고 있다.
- ② 요약적 서술과 등장인물의 말을 통해 사건의 경과를 드러내고 있다.
- ③ 인물 간의 갈등 양상을 통해 불신의 감정을 표현하고 있다.
- ④ 배경 묘사를 통해 인물의 내면 심리를 표출하고 있다.
- ⑤ 부정적 인물에 대한 비판 의식을 표현하고 있다.

§ 출전 : 고3 2012년 수능 국어 14번

004 ㉠~㉣에 대한 설명으로 적절하지 않은 것은?

- ① ㉠ : 막 씨의 당시 처지를 보여 주는 공간이다.
- ② ㉡ : 금방울의 신이한 면모를 보여 준다.
- ③ ㉢ : 막 씨의 효행에 대한 사회적 보상을 상징한다.
- ④ ㉣ : 막 씨와 장 공 부인의 갈등이 심화되는 공간이다.
- ⑤ ㉣ : 금방울이 존재 가치를 인정받았음을 보여 준다.



§ 출전 : 고3 2012년 수능 국어 15번

005 <보기>를 참고하여 윗글을 감상한 내용으로 적절하지 않은 것은?

<보기>

「금방울전」은 비정상적인 모습으로 태어난 주인공이 온갖 고난과 시련을 극복한 후, 방울을 깨고 사람으로 변신하는 과정을 그리고 있다. 금방울은 태어나자마자 어머니로부터 시련을 겪지만, 방울의 모습을 한 채로 자신의 의지를 지니고 다양한 능력을 발휘한다. 또 주인공이면서도 타인을 돕는 조력자로서의 모습을 강하게 지닌다.

- ① 막 씨가 금방울을 ‘손으로 누르’고 ‘돌로 깨’는 것은 금방울의 변신을 돕기 위한 행동이다.
- ② 막 씨가 금방울을 ‘깊은 물’과 ‘아궁이’에 들이치는 행위는 어머니에 의한 금방울의 시련을 형상화한 것이다.
- ③ 막 씨가 금방울을 거둬 버려도 ‘여전히 굴러 따라오는’ 것은 금방울의 의지를 드러낸 것이다.
- ④ 금방울이 ‘나는 새도 잡고’ ‘산에 오르기를 평지같이 다니’는 것 등은 금방울의 다양한 능력을 보여 준 것이다.
- ⑤ 금방울이 ‘보은초’를 구해 와 장 공의 부인을 살려 내는 것은 조력자로서의 성격을 보여 주는 것이다.

고3 2019년 06월 평가원 국어 30번

이게 바로 핵심이야!

왜 틀렸지?

이것만은 기억하자!

문제

§ 세부단원정보 : 독서 | 독서 | 다른 상황과의 비교

다음 글을 읽고 물음에 답하시오.

전통적인 통화 정책은 정책 금리를 활용하여 물가를 안정시키고 경제 안정을 도모하는 것을 목표로 한다. 중앙은행은 경기가 과열되었을 때 정책 금리 인상을 통해 경기를 진정시키고자 한다. 정책 금리 인상으로 시장 금리도 높아지면 가게 및 기업에 대한 대출 감소로 신용 공급이 축소된다. 신용 공급의 축소는 경제 내 수요를 줄여 물가를 안정시키고 경기를 진정시킨다. 반면 경기가 침체되었을 때는 반대의 과정을 통해 경기를 부양시키고자 한다.

금융을 통화 정책의 전달 경로로만 보는 전통적인 경제학에서는 금융감독 정책이 개별 금융 회사의 건전성 확보를 통해 금융 안정을 달성하고자 하는 ㉠ 미시 건전성 정책에 집중해야 한다고 보았다. 이러한 관점은 금융이 직접적인 생산 수단이 아니므로 단기적일 때와는 달리 장기적으로는 경제 성장에 영향을 미치지 못한다는 인식과, 자산 시장에서는 가격이 본질적 가치를 초과하여 폭등하는 버블이 존재하지 않는다는 효율적 시장 가설에 기인한다. 미시 건전성 정책은 개별 금융 회사의 건전성에 대한 예방적 규제 성격을 가진 정책 수단을 활용하는데, 그 예로는 향후 손실에 대비하여 금융 회사의 자기 자본 하한을 설정하는 최저 자기자본 규제를 들 수 있다.

이처럼 전통적인 경제학에서는 금융감독 정책을 통해 금융 안정을, 통화 정책을 통해 물가 안정을 달성할 수 있다고 보는 이원적인 접근 방식이 지배적인 견해였다. 그러나 글로벌 금융 위기 이후 금융 시스템이 와해되어 경제 불안이 확산되면서 기존의 접근 방식에 대한 자성이 일어났다. 이 당시 경기 부양을 목적으로 한 중앙은행의 저금리 정책이 자산 가격 버블에 따른 금융 불안을 야기하여 경제 안정이 훼손될 수 있다는 데 공감대가 형성되었다. 또한 금융 회사가 대형화되면서 개별 금융 회사의 부실이 금융 시스템의 붕괴를 야기할 수 있게 됨에 따라 금융 회사 규모가 금융 안정의 새로운 위험 요인으로 등장하였다. 이에 기존의 정책으로는 금융 안정을 확보할 수 없고, 경제 안정을 위해서는 물가 안정뿐만 아니라 금융 안정도 필수적인 요건임이 밝혀졌다. 그 결과 미시 건전성 정책에 ㉡ 거시 건전성 정책이 추가된 금융감독 정책과 물가 안정을 위한 통화 정책 간의 상호 보완을 통해 경제 안정을 달성해야 한다는 견해가 주류를 형성하게 되었다.

거시 건전성이란 개별 금융 회사 차원이 아니라 금융 시스템 차원의 위기 가능성이 낮아 건전한 상태를 말하고, 거시 건전성 정책은 금융 시스템의 건전성을 추구하는 규제 및 감독 등을 포괄하는 활동을 의미한다. 이때, 거시 건전성 정책은 미시 건전성이 거시 건전성을 담보할 수 있는 충분조건이 되지 못한다는 ‘구성의 오류’에 논리적 기반을 두고 있다. 거시 건전성 정책은 금융 시스템 위험 요인에 대

한 예방적 규제를 통해 금융 시스템의 건전성을 추구한다는 점에서, 미시 건전성 정책과는 차별화된다.

거시 건전성 정책의 목표를 효과적으로 달성하기 위해서는 경기 변동과 금융 시스템 위험 요인 간의 상관관계를 감안한 정책 수단의 도입이 필요하다. 금융 시스템 위험 요인은 경기 순응성을 가진다. 즉 경기가 호황일 때는 금융 회사들이 대출을 늘려 신용 공급을 팽창시킴에 따라 자산 가격이 급등하고, 이는 다시 경기를 더 과열시키는 반면 불황일 때는 그 반대의 상황이 일어난다. 이를 완화할 수 있는 정책 수단으로는 경기 대응 완충자본 제도를 ㉠ 들 수 있다. 이 제도는 정책 당국이 경기 과열기에 금융 회사로 하여금 최저 자기자본에 추가적인 자기 자본, 즉 완충자본을 쌓도록 하여 과도한 신용 팽창을 억제시킨다. 한편 적립된 완충자본은 경기 침체에 대출 재원으로 쓰도록 함으로써 신용이 충분히 공급되도록 한다.

### AH1906-30D

#### 006 윗글과 <보기>에 대한 이해로 적절하지 않은 것은? [3점]

##### <보 기>

현실에서의 통화 정책 효과는 경기에 대해 비대칭적인 것으로 알려져 있다. 통화 정책은 경기 과열을 억제하는 데는 효과적이지만 경기 침체를 벗어나는 데는 효과가 미미하기 때문이다. 경기 침체를 극복하기 위해 중앙은행의 정책 금리 인하로 은행이 대출을 늘려 신용 공급을 확대하려 해도, 가계의 소비 심리가 위축되었거나 기업이 투자할 대상이 마땅치 않을 경우 전통적인 통화 정책에서 기대되는 효과는 나타나지 않게 된다. 오히려 확대된 신용 공급이 주식이나 부동산 등 자산 시장으로 과도하게 유입되어 의도치 않은 문제를 일으킬 수 있다.

경제학자들은 경제 주체들이 경기 상황에 대해 비대칭적으로 반응하기 때문에 나타나는 이러한 현상을 ‘끈 밀어올리기(pushing on a string)’라고 부른다. 이는 끈을 당겨서 아래로 내리는 것은 쉽지만, 밀어서 위로 올리는 것은 어렵다는 것에 빗댄 것이다.

- ① ‘끈 밀어올리기’를 통해 경기 침체에 자산 가격 버블이 발생하는 경우를 설명할 수 있겠군.
- ② 현실에서 경기가 침체되었을 경우 정책 금리 인하에 따른 경기 부양 효과는 경제 주체의 심리에 따라 달라질 수 있겠군.
- ③ ‘끈 밀어올리기’가 있을 경우 경기 침체에 금융 안정을 달성하려면 경기 대응 완충자본 제도의 도입이 필요하겠군.
- ④ 통화 정책 효과가 경기에 대해 비대칭적이라면 경기 침체기에는 정책 금리 조정 이외의 방안을 도입할 필요가 있겠군.
- ⑤ 통화 정책 효과가 경기에 대해 비대칭적이라면 정책 금리 인상은 신용 공급을 축소시킴으로써 경기를 진정시킬 수 있겠군.

다음 글을 읽고 물음에 답하시오.

권리와 의무의 주체가 될 수 있는 자격을 권리 능력이라 한다. 사람은 태어나면서 저절로 권리 능력을 갖게 되고 생존하는 내내 보유한다. 그리하여 사람은 재산에 대한 소유권의 주체가 되며, 다른 사람에 대하여 채권을 누리기도 하고 채무를 지기도 한다. 사람들의 결합체인 단체도 일정한 요건을 ㉠ 갖추면 법으로써 부여되는 권리 능력인 법인격을 취득할 수 있다. 단체 중에는 사람들이 일정한 목적을 갖고 결합한 조직체로서 구성원과 구별되어 독자적 실체로서 존재하며, 운영 기구를 두어, 구성원의 가입과 탈퇴에 관계없이 존속하는 단체가 있다. 이를 사단(社團)이라 하며, 사단이 갖춘 이러한 성질을 사단성이라 한다. 사단의 구성원은 사원이라 한다. 사단은 법인(法人)으로登記되어야 법인격이 생기는데, 법인격을 가진 사단을 사단 법인이라 부른다. 반면에 사단성을 갖추고도 법인으로登記하지 않은 사단은 ‘법인이 아닌 사단’이라 한다. 사람과 법인만이 권리 능력을 가지며, 사람의 권리 능력과 법인격은 엄격히구별된다. 그리하여 사단 법인이 자기 이름으로 진 빛은 사단이 가진 재산으로 갚아야 하는 것이지 ㉡ 사원 개인에게까지 ㉢ 책임이 미치지 않는다.

회사도 사단의 성격을 갖는 법인이다. 회사의 대표적인 유형이라 할 수 있는 주식회사는 주주들로 구성되어 주주들은 보유한 주식의 비율만큼 회사에 대한 지분을 갖는다. 그런데 2001년에 개정된 상법은 한 사람이 전액을 출자하여 일인 주주로 회사를 설립할 수 있도록 하였다. ㉣ 사단성을 갖추지 못했다고 할 만한 형태의 법인을 인정한 것이다. 또 여러 주주가 있던 회사가 주식의 상속, 매매, 양도 등으로 말미암아 모든 주식이 한 사람의 소유로 되는 경우가 있다. 이런 ‘일인 주식 회사’에서는 일인 주주가 회사의 대표 이사가 되는 사례가 많다. 이처럼 일인 주주가 회사를 대표하는 기관이 되면 경영의 주체가 개인인지 회사인지 모호해진다. 법인인 회사의 운영이 독립된 주체로서의 경영이 아니라 마치 ㉤ 개인 사업자의 영업처럼 보이는 것이다.

구성원인 사람의 인격과 법인으로서의 법인격이 잘 분간되지 않는 듯이 보이는 경우에는 간혹 문제가 일어난다. 상법상 회사는 이사들로 이루어진 이사회만을 업무 집행의 의결 기관으로 둔다. 또한 대표 이사는 이사 중 한 명으로, 이사회에서 선출되는 기관이다. 그리고 이사의 선임과 이사의 보수는 주주 총회에서 결정하도록 되어 있다. 그런데 주주가 한 사람뿐이면 사실상 그의 뜻대로 될 뿐, 이사회나 주주 총회의 기능은 퇴색하기 쉽다. 심한 경우에는 회사에서 발생한 이익이 대표 이사인 주주에게 귀속되고 회사 자체는 ㉥ 허울만 남는 일도 일어난다. 이처럼 회사의 운영이 주주 한 사람의 개인 사업과 다름없이 이루어지고, 회사라는 이름과 형식은 장식에 지나지 않는 경우에는, 회사와 거래 관계에 있는 사람들이 재산상 피해를 입는 문제가 발생하기도 한다. 이때 그 특정한 거래 관계에 관련하여서만 예외적으로 회사의 법인격을 일시적으로 부인하고 회사와 주주를 동일시해야 한다는 ㉦ ‘법인격 부인론’이 제기된다. 법률은 이에 대하여 명시적으로 규정하고 있지 않지만, 법원은 권리 남용의 조항을 끌어들이어 이를 받아들인다. 회사가 일인 주주에게 완전히 지배되어 회사의 회계, 주주 총회나 이사회 운영이 적법하게 작동하지 못하는데도 회사에만 책임을 묻는 것은 법인 제도가 남용되는 사례라고 보는 것이다.

출전 : 고3 2016년 09월 평가원 국어 35번

007 윗글을 통해 알 수 있는 내용으로 적절하지 않은 것은?

- ① 사단성을 갖춘 단체는 그 단체를 운영하기 위한 기구를 둔다.
- ② 주주가 여러 명인 주식회사의 주주는 사단의 사원에 해당한다.
- ③ 법인격을 얻은 사단은 재산에 대한 소유권의 주체가 될 수 있다.
- ④ 사단 법인의 법인격은 구성원의 가입과 탈퇴에 관계없이 존속한다.
- ⑤ 사람들이 결합한 단체에 권리와 의무를 누릴 수 있는 자격을 주는 제도가 사단이다.

§ 출전 : 고3 2016년 09월 평가원 국어 36번

008 윗글에서 설명한 주식회사에 대한 이해로 가장 적절한 것은?

- ① 대표 이사는 주식회사를 대표하는 기관이다.
- ② 일인 주식회사는 대표 이사가 법인격을 갖는다.
- ③ 주식회사의 이사회에서 이사의 보수를 결정한다.
- ④ 주식회사에서는 주주 총회가 업무 집행의 의결 기관이다.
- ⑤ 여러 주주들이 모여 설립된 주식회사가 일인 주식회사로 바뀔 수 없다.

§ 출전 : 고3 2016년 09월 평가원 국어 38번

009 ㉠에 관한 설명으로 가장 적절한 것은? [3점]

- ① 회사의 경영이 이사회에 장악되어 있는 경우에만 예외적으로 법인격 부인론을 적용할 수 있다.
- ② 법인격 부인론은 주식회사 제도의 허점을 악용하지 못하도록 법률의 개정을 통해 도입된 제도이다.
- ③ 회사가 채권자에게 손해를 입혔다는 것이 확정되면 법원은 법인격 부인론을 받아들여 그 회사의 법인격을 영구히 박탈한다.
- ④ 법원이 대표 이사 개인의 권리 능력을 부인함으로써 대표 이사가 회사에 대한 책임을 면하지 못하도록 하는 것이 법인격 부인론의 의의이다.
- ⑤ 특정한 거래 관계에 법인격 부인론을 적용하여 회사의 법인격을 부인하려는 목적은 그 거래와 관련하여 회사가 진 책임을 주주에게 부담시키기 위함이다.

§ 출전 : 고3 2016년 09월 평가원 국어 37번

010 ㉠~㉤의 문맥상 의미에 대한 이해로 적절하지 않은 것은?

- ① ㉠ : 법인에 속해 있지만 법인격과는 구별되는 존재
- ② ㉡ : 사단이 진 빚을 갚아야 할 의무
- ③ ㉢ : 여러 사람이 결합한 조직체로서의 성격
- ④ ㉣ : 회사라는 법인격을 가진 독자적인 실체로서 운영되지 않는 경영
- ⑤ ㉤ : 회사의 자산이 감소하여 권리 능력을 누릴 수 없게 된 상태

다음 글을 읽고 물음에 답하시오.

기술이 급속하게 발달함에 따라 인간의 삶은 더욱 여유롭고 의미 있는 것으로 될 것인가, 아니면 더욱 바쁘고 의미 없는 것으로 전락할 것인가? ‘사색적 삶’과 ‘활동적 삶’을 대비하여 사회 변화를 이해하는 방식은 이런 물음의 답을 구하는 데 도움이 된다.

최초로 인간의 삶을 사색적 삶과 활동적 삶으로 구분한 사람은 아리스토텔레스이다. 그는 진리, 즐거움, 고귀함을 ㉠추구하는 사색적 삶의 영역이 생계를 위한 활동적 삶의 영역보다 상위에 있다고 보았다. 이러한 인식은 근대 이전의 오랜 역사 속에서 사회 질서의 기본 원리로 자리 잡아 왔다.

근대에 접어들어 과학 혁명과 청교도 윤리의 등장으로 활동적 삶과 사색적 삶에 대한 인식은 달라지기 시작했다. 16, 17세기 과학 혁명으로 실험 정신과 경험적 지식이 중시되면서 사색적 삶의 영역에 속한 과학적 탐구와 활동적 삶의 영역에 속한 기술 사이의 거리가 좁혀졌다. 또한 직업을 신의 소명으로 이해하고, 근면과 ㉡검약에 의한 개인의 성공을 구원의 징표로 본 청교도 윤리는 생산 활동과 부의 축

적에 대한 부정적 인식을 불식하는 계기가 되었다. 이로써 활동적 삶과 사색적 삶이 대등한 위상을 갖게 된 것이다.

18, 19세기 산업 혁명을 계기로 활동적 삶은 사색적 삶보다 중요성이 더 커지게 되었다. 생산 기술에 과학적 지식이 ㉠응용되고 기계의 사용이 본격화되면서 기계의 속도에 기초하여 노동 규율이 확립되었고, 인간의 삶은 시간적 규칙성을 따르도록 재조직되었다. 나아가 시간이 관리의 대상으로 부각되면서 시간-동작 연구를 통해 가장 효율적인 작업 동선(動線)을 ㉡모색했던 테일러의 과학적 관리론은 20세기 초부터 생산 활동을 합리적으로 조직하는 중요한 원리로 자리 잡았다. 이로써 두뇌에 의한 노동과 근육에 의한 노동이 분리되어 인간의 육체노동이 기계화되는 결과가 초래되었다. 또한 과학을 기술 개발에 활용하기 위한 시스템이 요구되어 공학, 경영학 등의 실용 학문과 산업체 연구소들이 출현하였다. 이는 전통적으로 사색적 삶의 영역에 속했던 진리 탐구마저 활동적 삶의 영역에 속하는 생산 활동의 논리에 ㉢포섭되었음을 단적으로 보여 준다.

이처럼 산업 혁명 이후 기계 문명이 발달하고 그에 힘입어 자본주의 시장 메커니즘이 사회를 전면적으로 지배하게 됨에 따라 근면과 속도가 강조되었다. 활동적 삶이 지나치게 강조된데 대한 반작용으로, ‘의미 없는 부지런함’이 만연해진 세태에 대한 ㉣비판의 목소리가 나타나 성찰에 의한 사색적 삶의 중요성을 역설하기도 하였다.

§ 출전 : 고3 2015년 09월 평가원 국어B형 23번

011 <보기>를 바탕으로 밑줄을 이해한 내용으로 적절하지 않은 것은?

<보 기>

20세기 후반 이후의 ‘후근대 사회’를 ‘피로 사회’로 규정하는 견해가 있다. 이에 따르면 근대 사회가 ‘규율 사회’였음에 비해 후근대 사회는 ‘성과 사회’이다. 규율 사회가 외적 강제에 따라 인간이 수동적으로 움직이는 사회라면, 성과 사회는 성공을 향한 내적 유혹에 따라 인간이 자발적으로 움직이는 사회이다. 과학 기술의 발달에 따라 결핍이 해소되고 규율 사회의 강제가 약화된다고 해서 인간이 삶의 온전한 주체가 되는 사회가 도래하는 것은 아니다. ‘더욱 생산적으로 되어야 한다.’는 자본주의 시스템의 근본적인 요구가 규율 사회에서 외적 강제에 의한 타자 착취를 통해 관철되었다면, 성과 사회에서 그 요구는 내적 유혹에 의한 자기 착취를 통해 관철된다. 그 결과 피로는 현대인의 만성 질환이 되었다는 것이다.

- ① 근대 사회에서 기계의 속도에 기초하여 확립된 노동 규율은 타자 착취를 위한 규율 사회의 외적 강제로 볼 수 있겠군.
- ② 자신의 능력을 극한으로 끌어올려야 한다는 현대인의 강박증은 피로 사회에서 일어나는 자기 착취의 한 단면으로 볼 수 있겠군.
- ③ 정보화, 세계화에 따라 세계가 동시적 경험이 가능한 공간이 되면서 성과 사회에서는 자본주의 시스템의 근본적인 요구가 달라지는군.
- ④ 기술의 발달에 따라 삶이 더 여유롭고 의미 있는 것이 될 것이라는 견해는 현대 사회를 피로 사회로 포착하는 견해에 반하는 것이군.
- ⑤ 다양해진 욕구와 성취 욕망을 충족하기 위해 자신을 소진하는 현대인의 행동은 성공적인 인간이 되기 위한 내적 유혹에 기인한 것으로 볼 수 있겠군.

## 나의 오답 문항

고3 2019년 06월 평가원 국어 33번

이게 바로 핵심이야!

왜 틀렸지?

이것만은 기억하자!

## 문제

§ 세부단원정보 : 문학 | 운문 문학 | 외적 준거에 의한 감상

다음 글을 읽고 물음에 답하시오.

(가)

문장(文章)을 헛자 헛니 인생식자(人生識字) 우환시(憂患始)\*오  
 공맹(孔孟)을 비호려 헛니 도약등천(道若登天) 불가급(不可及)\*이로다  
 이 내 몸 쓸 디 업스니 성대농포(聖代農圃)\* 되오리라

&lt;제1장&gt;

홍진(紅塵)에 절교(絶交)하고 백운(白雲)으로 위우(爲友)하야  
 녹수(綠水) 청산(靑山)에 시름 업시 늘거 가니  
 이 등의 무한지락(無限至樂)을 헌스홀가 두려워라

&lt;제3장&gt;

인간(人間)의 벗 잇단 말가 나눈 알기 슬희여라  
 물외(物外)에 벗 업단 말가 나눈 알기 즐거워라  
 슬커나 즐겁거나 내 분인가 호노라

&lt;제6장&gt;

유정(有情)코 무심(無心)홀 손 아마도 풍진(風塵) 봉우(朋友)  
 무심(無心)코 유정(有情)홀 손 아마도 강호(江湖) 구로(鷗鷺)  
 ㉠ 이제야 작비금시(昨非今是)\*을 씨드룬가 호노라

&lt;제8장&gt;

도팽택(陶彭澤) 기관거(棄官去)\*홀 제와 태부(太傅) 걸해귀(乞骸歸)\*홀 제  
 호연(浩然) 행색(行色)을 닐 아니 부러호리  
 알고도 부지지(不知止)\*호니 나도 몰나 호노라

&lt;제9장&gt;

인간(人間)의 풍우(風雨) 다(多)호니 므스 일 머므노  
 물외(物外)에 연하(煙霞) 족(足)호니 므스 일 아니 가리  
 이제논 가려 정(定)호니 일흥(逸興) 계워 호노라

&lt;제11장&gt;

- 안서우, 「유원십이곡」-  
 나만의 오답노트 15

- \*인생식자 우환시 : 사람은 글자를 알게 되면서부터 근심이 시작됨.
- \*도약등천 불가급 : 도는 하늘로 오르는 것과 같아 미치기 어려움.
- \*성대농포 : 태평성대에 농사를 지음.
- \*작비금지 : 어제는 그르고 지금은 옳음.
- \*도팽택 기관거 : 도연명이 벼슬을 버리고 떠남.
- \*태부 걸해귀 : 한나라 태부 소광이 사직을 간청함.
- \*부지지 : 그만두어야 할 때를 알지 못함.

(나)

어느 날 나는 잠이 들었는데 비몽사몽간이었다. 정신이 산란하고 병이 아닌데 병이 든 듯하여 그 원기가 상했다. 가슴이 돌에 눌린 것처럼 답답한 게 게으름의 귀신이 든 것이 틀림없었다. 무당을 불러 귀신에게 말하게 했다.

“네가 내 속에 숨어들어서 큰 병이 났다. …(중략)… 게을러서 집을 수리할 생각도 못하며, 솔밭이 부러져도 게을러서 고치지 않고, 의복이 해져도 게을러서 깎지 않으며, 종들이 죄를 지어도 게을러서 묻지 않고, 사람들이 시비를 걸어도 게을러서 화를 내지 않아서, 마침내 날로 행동은 굼떠 가고, 마음은 바보가 되며, 용모는 날로 여위어 갈 뿐만 아니라 말수조차 줄어들고 있다. 이 모든 **허물**은 네가 내게 들어와 **멋대로** 함이라. 어째서 다른 이에게는 가지 않고 나만 따르며 귀찮게 구는가? 너는 어서 나를 떠나져 낙토(樂土)로 가거라. 그러면 나에게서는 너의 피해가 없고, 너도 너의 살 곳을 얻으리라.”

이에 귀신이 말했다.

“그렇지 않습니다. 내가 어떻게 당신에게 화를 입히겠습니까? 운명은 하늘에 있으니 나의 허물로 여기지 마십시오. **굳센 쇠**는 부서지고 **강한 나무**는 부러지며, **깨끗한 것은** 더러워지기 쉽고, **우뚝한 것은** 꺾이기 쉽습니다. 굳은 돌은 **고요함**으로 이지러지지 않고, 높은 산은 **고요함**으로 영원한 것입니다. 움직이는 것은 쉽게 **요절**하고 **고요한 것은** 장수합니다. 지금 당신은 저 산처럼 오래 살 것입니다. 경우에 따라서는 세상의 근면은 화근이, 당신의 게으름은 복의 근원이 될 수도 있지요. 세상 사람들은 세력을 좇다 **우왕좌왕**하여 그때마다 **시비의 소리**가 분분하지만, 지금 당신은 물러나 앉았으니 당신에 대한 시비의 소리가 전혀 없지 않습니까? 또 세상 사람들은 **물욕**에 휘둘러서 이익을 얻기 위해 날뛰지만, 지금 당신은 걱정이 없어 **제정신**을 잘 보존하니, 당신에게 어느 것이 **흉**하고 어느 것이 **길**한 것이겠습니까? 당신이 이제부터 **유지(有知)**를 버리고 **무지(無知)**를 이루며, **유위(有爲)**를 버리고 **무위(無爲)**에 이르며, **유정(有情)**을 버리고 **무정(無情)**을 지키며, **유생(有生)**을 버리고 **무생(無生)**을 즐기면, 그 도는 죽지 않고 하늘과 함께 아득하여 **태초와 하나가** 될 것입니다. 내가 앞으로도 당신을 도울 것인데, 도리어 나를 나무라시니 자신의 처지를 아십시오. 그래서야 어디 되겠습니까?”

이에 나는 그만 말문이 막혔다. 그래서 ㉠ 앞으로 나의 잘못을 고칠 터이니 그대와 함께 살기를 바란다고 했더니, 게으름은 그제야 떠나지 않고 나와 함께 있기로 했다.

- 성현, 「조용(嘲慵)」-



AH1906-33B

012 &lt;보기&gt;를 참고하여 (가)를 이해한 내용으로 적절하지 않은 것은? [3점]

&lt;보 기&gt;

「유원십이곡」은 강호에서의 삶을 추구하는 노래지만, 화자는 강호에 머문 뒤에도 강호와 속세 사이에서 갈등을 반복한다. 이는 강호에서의 만족한 삶이라는 이상에 도달하는 것이 쉽지 않음을 보여 주는 것이다. 그뿐 아니라 화자가 갈등을 반복하면서도 항상 강호를 선택하는 모습은, 결국 자신의 결정이 가치 있는 것임을 드러내기 위한 것으로 이해할 수 있다.

- ① <제1장>의 초장에는 화자가 강호를 선택하게 되는 동기가 드러난다.
- ② <제3장>의 중장에는 강호를 선택한 삶의 모습이 긍정적으로 드러난다.
- ③ <제6장>의 종장에는 화자 자신이 분수에 맞는 선택을 했음이 드러난다.
- ④ <제9장>의 중장에는 속세에 미련을 갖게 하는 가치를 언급함으로써 화자의 갈등이 드러난다.
- ⑤ <제9장>의 종장에는 갈등하는 화자의 모습이, <제11장>의 종장에는 자신의 선택에 만족하는 화자의 모습이 드러난다.

다음 글을 읽고 물음에 답하시오.

(가) 흥진(紅塵)에 묻힌 분네 이 내 생애 어떠한고

옛사람 풍류를 미칠까 못 미칠까.

천지간 남자 몸이 나만한 이 많건마는

㉠산림에 묻혀 있어 지락(至樂)을 모를 것인가.

수간모옥(數間茅屋)\*을 벽계수(碧溪水) 앞에 두고

송죽(松竹) 울울리(鬱鬱裏)\*에 풍월주인(風月主人) 되었어라.

옛그제 겨울 지나 새 봄이 돌아오니

도화행화(桃花杏花)는 석양리(夕陽裏)에 피어 있고

녹양방초(綠楊芳草)는 세우(細雨) 중에 푸르도다.

칼로 말라냈나 붓으로 그려냈나

조화신공(造化神功)이 물물(物物)마다 험스럽다.

수풀에 우는 새는 춘기(春氣)를 못내 겨워

소리마다 교태로다.

㉡물아일체(物我一體)어니 흥이야 다름쏘냐.

[A]

- 정극인, 「상춘곡(賞春曲)」-

\* 수간모옥 : 몇 칸 초가집.

\* 울울리 : 우거진 속.

(나) 뒷집의 술쌀을 꾸니 거친 보리 한 말 못 찻다

주는 것 마구 찢어 쥐어 빚어 괴어 내니

여러 날 주렸던 입이니 다나 쓰나 어이리.

[B]

어와 저 백구(白鷗)야 무슨 수고 하느냐

㉢갈 숲으로 서성이며 고기 옛보기 하는구나

나같이 군마음 없이 잠만 들면 어찌리.

삼공(三公)이 귀하다 한들 강산과 바꿀쏘냐

조각배에 달을 싣고 낚싯대를 흘던질 제

㉣이 몸이 이 청흥(淸興) 가지고 만호후(萬戶侯)\*인들 부러우랴.

헛글고 싯근\* 문서 다 주어 내던지고

필마(匹馬) 추풍에 채찍을 쳐 돌아오니

㉤아무리 매인 새 놓인다 한들 이토록 시원하랴.

동풍이 건듯 불어 적설(積雪)을 다 녹이니

사면(四面) 청산이 옛 모습 나노매라

귀밀의 해묵은 서리는 녹을 줄을 모른다.

[C]

- 김광옥, 「율리유곡(栗里遺曲)」-

\* 만호후 : 재력과 권력을 겸비한 제후 또는 세도가.

\* 헛글고 싯근 : 흐트러지고 시끄러운.

(다) ㉥군이 내가 소유하지 않아도 즐기는 데 방해를 받지 않는다는 것이 오로지 원림(園林)이나 누정(樓亭)뿐이겠는가? 천하의 사물 가운데 그렇지 않은 것은 아무것도 없다. 다만 원림이나 누정의 경우가

특별히 더 그런 것뿐이다.

서울에서 수십 리 이내의 가까운 지역에는 사람들이 조성한 별장과 농장이 많다. 어떤 것은 강가를 따라 있고, 어떤 것은 시내를 내려다보고 있으며, 어떤 것은 산을 등지고 계곡에 걸쳐 있기도 하다. 제각기 멋진 풍경 하나쯤은 갖추고 있다. 그러나 산수(山水)를 평가하고 논하는 사람들이 걸핏하면 저쪽 경치를 들어다 이쪽 경치와 비교하면서 앞다툼 제가 본 풍경을 자랑하는 것을 많이 보았다. 정말 웃을 노릇이다.

빼어난 경관과 아름다운 풍경을 뽐내는 천하의 명소가 어디 한두 군데에 불과하랴? 또한 그 고정된 견해와 평가가 있겠는가? 발걸음을 옮길 때마다 보이는 풍경이 바뀌고, 지경(地境)의 변화에 따라 느낌이 달라진다. 또 같은 장소라 해도 경관이 차이가 나고, 같은 풍경이라도 때에 따라 변모한다. 그럼에도 불구하고 어느 것이 낫고 어느 것이 모자라다며 제각기 자랑하고, 어느 것이 뛰어나고 어느 것이 뒤진 다며 제각기 평을 내린다면, 이것은 맛 좋은 술에게 소금처럼 짜지 않고 왜 맛이 좋으냐고 혼내는 격이요, 양고기와 돼지고기에게 채소와 과일처럼 담박한 맛을 내지 않고 왜 그렇게 기름진 맛을 내느냐고 화를 내는 격이다. ㉔이러한 생각에 사로잡힌 사람은 천하의 이름난 산과 빼어난 승경(勝景)을 모조리 자기가 소유한 뒤에야 비로소 흡족해 할 것이다. 그러면 작은 볼거리에 구속되어 큰 볼거리를 놓치는 사람이 되지나 않을까?

- 박규수, 「범희문회서도원림(范希文懷西都園林)」-

§ 출전 : 고3 2010년 수능 국어 27번

013 (가)~(다)에 대한 설명으로 적절한 것은?

- ① (가)와 (나)는 설의적 표현을 통해 화자의 자족감을 표출하고 있다.
- ② (가)와 (다)는 색채의 대비를 통해 표현 효과를 높이고 있다.
- ③ (나)와 (다)는 감각적 이미지를 활용하여 계절감을 드러내고 있다.
- ④ (가)~(다)는 풍자적 표현을 활용하여 주제를 드러내고 있다.
- ⑤ (가)~(다)는 시간의 흐름을 통해 사물의 속성을 드러내고 있다.

§ 출전 : 고3 2010년 수능 국어 28번

014 <보기>를 참고할 때, ㉠~㉣ 중 ㉡의 관점과 거리가 먼 것은?

<보 기>

(다)는 범희문이라는 사람이 화려한 저택을 거부하고 겸허한 삶을 살고자 했던 사연을 바탕으로 창작되었다. 작가는 세속적 소유를 거부한 범희문의 태도에 기대어 당대 사대부들의 삶에 드러난 속물적 태도를 비판한다. 나아가 대상과 인간의 관계에 대한 통찰을 이끌어 내고 있다.

- ① ㉠ : 산림에 묻혀서 지락을 아는 것
- ② ㉡ : 물아일체 속에서 흥을 느끼는 것
- ③ ㉢ : 갈대숲을 서성이며 고기를 엿보는 것
- ④ ㉣ : 만호후를 부러워하지 않고 청흥을 느끼는 것
- ⑤ ㉣ : 구속에서 벗어나 시원함을 느끼는 것

§ 출전 : 고3 2010년 수능 국어 29번

015 [A]와 [C]를 비교한 내용으로 가장 적절한 것은?

- ① [A]와 [C]에서 봄은 모두 인간의 유한성을 상징한다.
- ② [A]는 [C]와 달리 봄을 겨울과 대조하여 표현하고 있다.
- ③ [C]는 [A]와 달리 의인화를 통해 봄의 속성을 강조하고 있다.
- ④ [A]의 봄은 흥겨움을, [C]의 봄은 서글픔을 불러일으킨다.
- ⑤ [A]는 근경에서 원경으로, [C]는 원경에서 근경으로 봄을 묘사하고 있다.

§ 출전 : 고3 2010년 수능 국어 30번

016 [B]를 이해한 내용으로 가장 적절한 것은?

- ① 조출하고 소박한 삶의 모습이 나타나 있다.
- ② 사회적 규범을 따르는 자세가 드러나 있다.
- ③ 농가와 자연을 분리하려는 의지가 보인다.
- ④ 공동체를 위한 헌신적 삶이 드러나 있다.
- ⑤ 숭고한 삶에 대한 지향이 드러나 있다.

§ 출전 : 고3 2010년 수능 국어 31번

017 ㉞와 같은 사람의 태도로 보기 어려운 것은?

- ① 휴양림을 늘 내 곁에 두고 보고 싶으니 집에 작은 정원을 만들어야겠어.
- ② 주말에 지리산에 갔는데 갈 때마다 모습도 다르고 느낌도 달라서 참 좋았어.
- ③ 가족 여행 때 다녀온 강릉 경포대의 진면목을 알려면 「관동별곡」을 읽어야 해.
- ④ 단풍은 설악산이 최고라 하니 단풍을 구경하려면 당연히 설악산으로 가야 해.
- ⑤ 내가 한라산을 가 보고 싶은 이유는 유명한 산악인들이 추천하는 명산이기 때문이야.

## 나의 오답 문항

고3 2019년 06월 평가원 국어 40번, 41번

이게 바로 핵심이야!

왜 틀렸지?

이것만은 기억하자!

## ☰ 문제

§ 세부단원정보 : 독서 | 독서 | 부분 내용 추론

다음 글을 읽고 물음에 답하시오.

우리는 한 대의 자동차는 개체라고 하지만 바닷물을 개체라고 하지는 않는다. 어떤 부분들이 모여 하나의 개체를 ① 이룬다고 할 때 이를 개체라고 부를 수 있는 조건은 무엇일까? 일단 부분들 사이의 유사성은 개체성의 조건이 될 수 없다. 가령 일란성 쌍둥이인 두 사람은 DNA 염기 서열과 외모도 같지만 동일한 개체는 아니다. 그래서 부분들의 강한 유기적 상호작용이 그 조건으로 흔히 제시된다. 하나의 개체를 구성하는 부분들은 외부 존재가 개체에 영향을 주는 것과는 비교할 수 없이 강한 방식으로 서로 영향을 주고받는다.

상이한 시기에 존재하는 두 대상을 동일한 개체로 판단하는 조건도 물을 수 있다. 그것은 두 대상 사이의 인과성이다. 과거의 ‘나’와 현재의 ‘나’를 동일하다고 볼 수 있는 것은 강한 인과성이 존재하기 때문이다. 과거의 ‘나’와 현재의 ‘나’는 세포 분열로 세포가 교체되는 과정을 통해 인과적으로 연결되어 있다. 또 ‘나’가 세포 분열을 통해 새로운 개체를 생성할 때도 ‘나’와 ‘나의 후손’은 인과적으로 연결되어 있다. 비록 ‘나’와 ‘나의 후손’은 동일한 개체는 아니지만 ‘나’와 다른 개체들 사이에 비해 더 강한 인과성으로 연결되어 있다.

개체성에 대한 이러한 철학적 질문은 생물학에서도 중요한 연구 주제가 된다. 생명체를 구성하는 단위는 세포이다. 세포는 생명체의 고유한 유전 정보가 담긴 DNA를 가지며 이를 복제하여 증식하고 번식하는 과정을 통해 자신의 DNA를 후세에 전달한다. 세포는 사람과 같은 진핵생물의 진핵세포와, 박테리아나 고세균과 같은 원핵생물의 원핵세포로 구분된다. 진핵세포는 세포질에 막으로 둘러싸인 핵이 ② 있고 그 안에 DNA가 있지만, 원핵세포는 핵이 없다. 또한 진핵세포의 세포질에는 막으로 둘러싸인 여러 종류의 세포 소기관이 있으며, 그중 미토콘드리아는 세포 활동에 필요한 생체 에너지를 생산하는 기관이다. 대부분의 진핵세포는 미토콘드리아를 필수적으로 ③ 가지고 있다.

이러한 미토콘드리아가 원래 박테리아의 한 종류인 원생미토콘드리아였다는 이론이 20세기 초에 제기되었다. 공생발생설 또는 세포 내 공생설이라고 불리는 이 이론에서는 두 원핵생물간의 공생 관계가 지속되면서 진핵세포를 가진 진핵생물이 탄생했다고 설명한다. 공생은 서로 다른 생명체가 함께 살아가는 것을 말하며, 서로 다른 생명체를 가정하는 것은 어느 생명체의 세포 안에서 다른 생명체가 공생하는 ‘내부 공생’에서도 마찬가지이다. ④ 공생발생설은 한동안 생물학계로부터 인정받지 못했다. 미토콘드리아의 기능과 대략적인 구조, 그리고 생명체 간 내부 공생의 사례는 이미 알려졌지만 미토콘드리아가 과거에 독립된 생명체였다는 것을 쉽게 믿을 수 없었기 때문이었다. 그리고 한 생명체가 세대를 이

어 가는 과정 중에 돌연변이와 자연선택이 일어나고, 이로 인해 종이 진화하고 분화한다고 보는 전통적인 유전학에서 두 원핵생물의 결합은 주목받지 못했다. 그러다가 전자 현미경의 등장으로 미토콘드리아의 내부까지 세밀히 관찰하게 되고, 미토콘드리아 안에는 세포핵의 DNA와는 다른 DNA가 있으며 단백질을 합성하는 자신만의 리보솜을 가지고 있다는 사실이 ㉔ 밝혀지면서 공생발생설이 새롭게 부각되었다.

공생발생설에 따르면 진핵생물은 원생미토콘드리아가 고세균의 세포 안에서 내부 공생을 하다가 탄생했다고 본다. 고세균의 핵의 형성과 내부 공생의 시작 중 어느 것이 먼저인지에 대해서는 논란이 있지만, 고세균은 세포질에 핵이 생겨 진핵세포가 되고 원생미토콘드리아는 세포 소기관인 미토콘드리아가 되어 진핵 생물이 탄생했다는 것이다. 미토콘드리아가 원래 박테리아의 한 종류였다는 근거는 여러 가지가 있다. 박테리아와 마찬가지로 새로운 미토콘드리아는 이미 존재하는 미토콘드리아의 ‘이분 분열’을 통해서만 ㉔ 만들어진다. 미토콘드리아의 막에는 진핵 세포막의 수송 단백질과는 다른 종류의 수송 단백질인 포린이 존재하고 박테리아의 세포막에 있는 카디오리핀이 존재한다. 또 미토콘드리아의 리보솜은 진핵세포의 리보솜보다 박테리아의 리보솜과 더 유사하다.

미토콘드리아는 여전히 고유한 DNA를 가진 채 복제와 증식이 이루어지는데도, 미토콘드리아와 진핵 세포 사이의 관계를 공생 관계로 보지 않는 이유는 무엇일까? 두 생명체가 서로 떨어져서 살 수 없더라도 각자의 개체성을 잃을 정도로 유기적 상호작용이 강하지 않다면 그 둘은 공생 관계에 있다고 보는데, 미토콘드리아와 진핵세포 간의 유기적 상호작용은 둘을 다른 개체로 볼 수 없을 만큼 매우 강하기 때문이다. 미토콘드리아가 개체성을 잃고 세포 소기관이 되었다고 보는 근거는, 진핵세포가 미토콘드리아의 증식을 조절하고, 자신을 복제하여 증식할 때 미토콘드리아도 함께 복제하여 증식시킨다는 것이다. 또한 미토콘드리아의 유전자의 많은 부분이 세포핵의 DNA로 옮겨 가 미토콘드리아의 DNA 길이가 현저히 짧아졌다는 것이다. 미토콘드리아에서 일어나는 대사 과정에 필요한 단백질은 세포핵의 DNA로부터 합성되고, 미토콘드리아의 DNA에 남은 유전자 대부분은 생체 에너지를 생산하는 역할을 한다. 예컨대 사람의 미토콘드리아는 37개의 유전자만 있을 정도로 DNA 길이가 짧다.

AH1906-40D

018 <보기>는 진핵세포의 세포 소기관을 연구한 결과들이다. 뒷글을 바탕으로 할 때, 각각의 세포 소기관이 박테리아로부터 비롯되었다고 판단할 수 있는 것만을 <보기>에서 고른 것은?

- <보 기>
- ㄱ. 세포 소기관이 자신의 DNA를 가지고 있다는 것과 이분 분열을 한다는 것을 확인하였다.
  - ㄴ. 세포 소기관이 자신의 DNA를 가지고 있다는 것과 진핵 세포의 리보솜을 가지고 있다는 것을 확인하였다.
  - ㄷ. 세포 소기관이 막으로 둘러싸여 있다는 것과 막에는 수송 단백질이 있는 것을 확인하였다.
  - ㄹ. 세포 소기관이 막으로 둘러싸여 있다는 것과 막에는 다량의 카디오리핀이 있는 것을 확인하였다.

- ① ㄱ, ㄷ      ② ㄱ, ㄹ      ③ ㄴ, ㄷ      ④ ㄴ, ㄹ      ⑤ ㄷ, ㄹ

§ 세부단원정보 : 독서 | 독서 | 구체적 사례에 적용

AH1906-41E

019 읽글을 바탕으로 <보기>를 이해한 내용으로 적절하지 않은 것은? [3점]

<보 기>

- 복어는 테트로도톡신이라는 신경 독소를 가지고 있지만 테트로도톡신을 스스로 만들지 못하고 체내에서 서식하는 미생물이 이를 생산한다. 복어는 독소를 생산하는 미생물에게 서식처를 제공하는 대신 포식자로부터 자신을 방어할 수 있는 무기를 갖게 되었다. 만약 복어의 체내에 있는 미생물을 제거하면 복어는 독소를 가지지 못하나 생존에는 지장이 없었다.
- 실험실의 아메바가 병원성 박테리아에 감염되어 대부분의 아메바가 죽고 일부 아메바는 생존하였다. 생존한 아메바의 세포질에서 서식하는 박테리아는 스스로 복제하여 증식할 수 있었고 더 이상 병원성을 지니지는 않았다. 아메바에게는 무해하지만 박테리아에게는 치명적인 항생제를 아메바에게 투여하면 박테리아와 함께 아메바도 죽었다.

- ① 병원성을 잃은 '아메바의 세포질에서 서식하는 박테리아'는 세포 소기관으로 변한 것이겠군.
- ② 복어의 '체내에서 서식하는 미생물'은 '복어'와의 유기적 상호작용이 강해진다면 개체성을 잃을 수 있겠군.
- ③ 복어의 세포가 증식할 때 복어의 체내에서 '독소를 생산하는 미생물'의 DNA도 함께 증식하는 것은 아니겠군.
- ④ '아메바의 세포질에서 서식하는 박테리아'가 개체성을 잃었다면 '아메바의 세포질에서 서식하는 박테리아'의 DNA 길이는 짧아 졌겠군.
- ⑤ '아메바의 세포질에서 서식하는 박테리아'와 '아메바' 사이의 관계와 '복어'와 '독소를 생산하는 미생물' 사이의 관계는 모두 공생 관계이겠군.

NOTEPLY™

# 정답과 해설

응답하라. 나의 수능 - 나를 알아주는 최적의 학습 시스템

[www.noteply.co.kr](http://www.noteply.co.kr)



1 정답 ①

작품 배경의 의미, 역할 파악

정답해설 : ‘큰 잔치’에 참석한 사람들은 ‘각각 공을 밝히어 올리라’는 제왕의 분부에 따라 저마다 자신의 공적을 밝히는 글을 올린다. 참석한 사람들이 서로의 공적을 평가하지는 않는다.

[오답피하기] ② ‘큰 잔치’에 참석한 사람들은 조웅이 서번 적의 간계에 걸려들어 죽을 듯하다며 안타까워하며 염려하기도 하고, 송 문제의 말을 듣고 대운이 막히지 않았다며 조웅에 대한 기대를 표현하기도 한다. ③ ‘큰 잔치’에 참석한 사람들은 ‘대송이 역적에 망하니 인하여 멸송이 되면 언제 회복되오리까?’라고 하며 나라를 걱정하기도 하고, ‘어찌 회복이 없사오리까?’라고 하며 희망을 드러내기도 한다. 이러한 말들은 모두 국가의 흥망 성쇠에 대한 관심을 반영한 것이다. ④ ‘큰 잔치’에 참석한 사람들은 각각 소회를 다하고 ‘갈을 빼들’기도 하고 ‘춤추기도 하는’ 등 여러 행위를 통해 자신의 심정을 드러내고 있다. ⑤ ‘큰 잔치’에는 좌석에 사람이 가득 앉았으며 술과 음식이 가득하였다고 하였으므로 풍성한 분위기를 드러내고 있다고 할 수 있다.

2 정답 ⑤

작품의 내용 파악

정답해설 : 경업은 상의 꿈에 나타나 ‘흉적 자점이 소신을 죽이고 반심을 품어 거의 일이 되었’다고 아뢴다. 이에 상은 놀라 자점을 국문하고 자복을 받은 뒤, 경업의 자식을 불러 ‘너희 아버가 자결한 줄’ 알았더니 ‘자점의 모해로 죽었다’고 말하며 원수를 갚으라고 하고한다. 이를 볼 때 상은 꿈에 나타난 경업의 말을 듣고 자점을 다시 국문하여 자복을 받아내 역심을 품은 일과 경업을 모해한 일을 밝혀내었다고 할 수 있다.

[오답피하기] ① 경업은 자점이 꾸며낸 거짓 조서로 인해 옥에 갇히는데 강직한 전옥(典獄) 관원이 경업을 불쌍히 여겨 이 사실을 경업에게 말한다. 이를 통해 경업이 자점의 흉계를 알게 되므로 옥에 갇히기 전부터 경업이 자점이 거짓 조서를 꾸민 흉계를 알고 있었다는 내용은 적절하지 않다. ② 옥졸은 옥에 갇힌 경업이 목이 말라 물을 찾는데도 자점의 부탁으로 물도 주지 않는다. 하지만 옥졸이 자점의 부탁으로 경업의 죄를 상에게 밀고하는 내용은 나타나지 않는다. ③ 대군은 경업이 궐내로 들어왔다는 소식을 듣고 시자(侍者)에게 경업의 거처를 묻는다. 이에 시자가 모른다고 하자 의심하여 바빠 입궐을 하게 된다. 대군이 자점의 흉계를 의심한 것은 적절하다고 볼 수 있으나 경업의 거처까지는 알고 있지 못하다는 점에서 경업을 만나 옥에 갇힌 경위를 물었다는 내용은 적절하지 않다. ④ 우의정 이시백은 절도(絶島)에 안치된 자점이 반심을 품는 등 불측지심이 나타나자 이를 상에게 아뢴다. 우의정 이시백이 경업이 옥에 갇힐 만한 정보를 상에게 제공했다는 내용은 나타나지 않는다.

3 [정답] ② 정답률 94%

작자 미상, 「금방울전」

■ 줄거리

명나라 초, 선비인 장원이 아들을 낳아 해룡이라는 이름을 지어주었다. 그 후 장원부부는 난리로 피난하던 중 자식인 해룡을 버리게 된다. 그러자 도적인 장삼이 해룡을 데리고 강남 고군으로 달아나 아들처럼 키운다. 또 김삼랑의 처 막 씨는 지극한 효행을 실천하는데, 꿈에서 옥황상제로부터 아이를 점지 받고, 죽은 남편의 혼과 동침해 금방울을 낳는다. 금방울은 신출귀몰하는 재주로 어머니를 도와 온갖 어려움을 극복한다. 금방울은 장원의 부인이 병을 얻었을 때 부인의 생명을 구해 준 일이 있었는데 이를 계기로 장원부부와 막 씨는 형제의 연을 맺는다.

그 후 금방울은 두 집안을 오가며 총애를 받는다. 황제는 난을 평정한 뒤 늙어서 금선공주를 얻었다. 어느 날 화후와 공주가 시비와 함께 달구경을 하던 중, 요귀가 금선공주를 납치해 간다. 황제는 공주를 찾아 주면 천하의 반을 주겠다고 공언한다. 한편, 해룡은 장삼의 아내 변 씨의 학대로 고통을 겪지만, 그때마다 금방울의 도움으로 어려움을 이겨 낸다. 변 씨의 구박을 견디다 못해 해룡은 변 씨의 집을 나와 산중으로 들어갔는데, 머리 아홉 개 달린 요귀를 만나 위험에 처하자 금방울이 나타나 요귀에게 먹힌다. 이에 해룡은 금방울을 구하려 굴속을 기어 들어가 금선수부라 하는 곳에 이르렀다. 그 앞에서 피 묻은 옷을 빠는 시녀를 만나 그녀가 준 보검으로 요귀를 찔러 죽이고, 금방울을 구하고 공주와 시녀들을 무사히 데려온다.

그 후 전쟁에서 금방울의 도움으로 큰 공을 세우고 해룡은 황제의 부마가 된다. 금방울의 상실로 실의에 빠졌던 막 씨와 장부인은 금방울이 생환하자 몹시 기뻐한다. 그 후 막 씨와 장부인은 꿈을 통해 딸과 아들을 각각 만나게 될 것임을 계시 받는다. 꿈을 깨어보니 금방울은 껍질을 벗고 한 아름다운 미녀가 되어 있었다. 해룡은 나라의 번방이 다시 어지러워지자 순무어사가 되어 전국을 돌던 중, 장원이 다스리는 고을에서 목계 되고, 꿈속의 백발노인의 도움으로 부자가 드디어 상봉한다. 이에 황제는 금방울을 황후의 양녀로 삼아서 해룡과 결혼시킨다. 해룡은 두 부인을 거느리고 부귀공명을 누리다가 금선공주가 죽은 후에 금방울과 함께 승천한다.

■ 핵심정리

○ 인물 분석

- 금방울(금령) : 남해의 용녀. 막 씨에게서 태어나 신이한 능력을 가지고 해룡이 고난에 처할 때마다 도와줌. 후에 액운이 다하여 절세미인이 됨

- 장해룡 : 동해의 용자. 계모인 변 씨에게 기아와 학대를 당하나, 금방울의 도움을 받아 영웅으로 성장함

○ 구성

- 발단 : 해룡과 금방울의 탄생  
- 전개 : 해룡과 금방울의 시련  
- 위기 : 해룡이 금방울의 도움으로 지하 요괴를 퇴치함

- 절정 : 해룡이 금선 공주 및 탈을 벗은 금방울(금령)과 결혼하여 부귀영화를 누리

- 결말 : 공주는 수명이 다하여 죽고 해룡과 금방울은 신선이 되어 하늘로 올라감

○ 특징

① 다양한 설화(난생 설화, 지하국 대적 퇴치 설화, 변신 모티프 등)가 융합되어 있음

② 두 등장인물(해룡+금방울)의 성격과 역할이 상호 보완적임

○ 의의 : 남성 영웅(해룡)을 돕는 보조적 영웅이기는 하나, 여성 영웅이 등장함

○ 주제 : 금방울이 고난을 극복하고 사랑을 이루는 과정

● 해제 : 이 작품은 금방울의 탈을 쓴 금령이 남자 주인공을 도와 괴수를 퇴치하고, 액운을 다한 뒤에 탈을 벗고 둘이 부부가 된다는 설화적인 요소가 짙은 전기소설로 조선 후기의 작품으로 보이는 작자·연대 미상의 전기소설로 ‘금령전(金鈴傳)’이라고도 한다. 1917년 세창서관(世昌書館) 간행본을 보면 제목이 ‘능견난사(能見難思)’로 되어 있다. 중국을 무대로 하였으며, 줄거리가 복잡하면서도 비교적 짜임새가 있는 낭만적인 소설이다. 이 작품은 중국을 배경으로 설정하고 여주인공 금령이 금방울 모양으로 태어나서 벌이는 신기담을 흥미 있게 전개해놓은 전기소설이다. 이 작품의 가치관은 해룡과 금령의 ‘남녀결합’과 ‘부귀획득’으로 나타난다. 이것은 이 작품을 쓴 작가의 가치관인 동시에 독자층인 여성 독자와 권력에서 소외된 피지배계층의 행복의식을 반영한 것이다. 따라서 금령의 초월적인 힘은 미천하게 태어나 고달픈 삶을 사는 많은 독자에게 정신적 위안을 주고 고통을 덜어줄 수 있었던 것이다. 그리고 이 작품의 주인공 해룡과 <김원전>의 김원은 똑같이 요괴를 죽이고 공주를 구출한다는 구성을 하고 있고, 또한 김원의 장자가 해룡으로 되어 있는 점에서 보면 이 작품의 작가가 <김원전>을 모방한 것으로 여겨진다.

이 글은 여러 배경 사상을 포함하고 있는데, 전생애 부부였던 용녀와 용자가 이승에서 금방울과 장해룡으로 태어나 다시 부부의 연을 맺고 선계로 돌아간다는 구조는 불교의 윤회 사상을 담고 있으며, 막 씨가 지극한 효행으로 인하여 금방울을 점지 받는다는 것은 유교의 효 사상이고, 옥황상제·학발 노옹 등 선계의 인물들이 등장하는 부분은 도교적인 요소라고 할 수

있다. 금방울이 독자적인 영웅이 아니라 남성 영웅인 장해룡을 돕는 보조적 역할에 그친다는 것이 아쉬운 점이기도 하나, ‘여성 영웅의 출현’이라는 점에서 의의를 찾을 수 있는 소설이다.

**어디 있지? 정답의 근거**

② [A]는 ‘요약적 서술-부인의 말-요약적 서술-장공의 말-요약적 서술’로 구성되어 있다. 요약적 서술에서는 장공이 뇌양에 온 후 부인이 병을 얻어 위독했으나 금령이 보은초를 가져다주자 살아나게 된 경과가 설명된다. 또한 부인의 말은 과거 난리 중에 아이를 잃고 한을 품은 채 오늘까지 살아왔음이 나온다. 즉, 요약적 서술과 등장인물의 말을 통해 사건의 경과를 드러내고 있는 것이다.

**오답이 오답인 근거**

① 제시문은 전지적 작가 시점으로 쓰였다. 서술자가 주인공으로 등장하는 것은 1인칭 주인공 시점이다. 1인칭 주인공 시점이 되려면 ‘나’가 등장해야 한다.

③ 인물 간의 갈등 양상과 불신의 감정 모두 나타나지 않는다.

④ 배경 묘사는 나타나지 않는다. 부인과 장공의 심리만이 표출되어 있다.

⑤ 부정적인 인물은 등장하지 않는다.

**4 [정답] ④ 정답률 97%**

**어디 있지? 정답의 근거**

④ ‘집’은 부인이 막 씨에게 보은하는 공간이지, 갈등이 심화되는 공간이 아니다. 부인과 막 씨는 형제가 되었다.

**오답이 오답인 근거**

① 막 씨는 엄동설한에 한데서 남의 방아를 찧어주는 일을 했다. 사는 집 또한 풀로 만든 오두막이므로, 궁색한 살림살이였음을 짐작할 수 있다.

② 막 씨가 금방울을 아궁이에 넣었으나, 손상되지 않고 오히려 향내가 진동했다고 했다. 이는 현실적으로 불가능한 일이므로, 신이한 면모라 할 수 있다.

③ ‘정문’은 충신, 효자, 열녀를 위해 나라에서 표창해 주는 수단이었다. 이는 막 씨의 효행을 칭송하는 사회적 보상이다.

⑤ 금령은 부인을 살려냄으로써, 장공 부부에게 이름까지 받았다. 이름이 생겼다는 것은 존재를 인정받았다는 것이다.

**5 [정답] ① 정답률 96%**

**어디 있지? 정답의 근거**

① 보기에서 금방울은 태어나자마자 어머니로부터 시련을 받는다고 했다. ‘손으로 누르’고, ‘돌로 깨’는 것은 이러한 시련을 의미한다.

**오답이 오답인 근거**

② 막 씨는 금방울을 괴물로 여기고 화근이 될까 두려워한다. 그로 인해 깊은 물과 아궁이에 던져 제거하려고 한 것이다. 이는 금방울에게는 시련에 해당한다.

③ 어머니로부터 시련을 겪음에도 불구하고 어머니 곁에

있겠다는 금방울의 의지를 드러낸다.

④ 금방울은 신이한 능력을 발휘하고 있다.

⑤ 작품 전체적으로 봤을 때, 금방울은 해룡을 도와주는 조력자의 역할을 한다. 제시문에서는 해룡의 가족을 돕는 모습을 제시하고 있다.

## 6 정답 ③

다른 상황에 적용하기

정답해설 : <보기>에 따르면 현실에서의 통화 정책은 경기 과열을 억제하는 데에는 효과적이지만 경기 침체를 벗어나는 데에는 효과가 미미한데, 이러한 현상을 ‘끈 밀어올리기’라고 부른다고 설명하고 있다. 특히 경기 침체에 확대된 신용 공급은 자산 시장으로 과도하게 유입되어 문제를 일으킬 수 있다고 지적하고 있다. 따라서 ‘끈 밀어올리기’가 있을 경우에는 경기 침체에 경기 대응 완충자본 제도를 통해 신용 공급을 확대하더라도 자산 시장의 버블이 발생해 금융 안정을 달성하지 못할 것이라고 판단할 수 있다.

[오답피하기] ① <보기>에서 통화 정책으로 인해 확대된 신용 공급은 자산 시장으로 유입되어 문제를 일으킬 수 있다고 설명하고 있다. 따라서 ‘끈 밀어올리기’를 통해 통화 정책이 신용 공급의 확대를 가져오는 것이 아니라, 자산 가격 버블과 같은 자산 시장에서의 문제를 일으킬 수 있다고 할 수 있다. ② <보기>에서 중앙은행이 통화 정책을 통해 경기에 대응하려 하더라도 가계나 기업과 같은 경기 주체의 반응에 따라 그 효과가 달라질 수 있음을 설명하고 있다. ④ <보기>는 통화 정책의 효과가 경기 과열을 억제하는 데는 효과적이거나, 경기 침체에서 벗어나게 하는 데는 효과가 미미하다고 설명하고 있다. 따라서 경기 침체에 대응하기 위해서는 중앙은행의 정책 금리 인하와 같은 정책 수단 외의 방안이 필요하다고 할 수 있다. ⑤ <보기>에서 통화 정책은 경기 과열을 억제하는 데는 효과적이라고 설명하고 있다. 따라서 경기 과열에 대응하기 위한 정책 수단으로서 정책 금리를 인상하는 것은 경기 진정에 효과적이라고 할 수 있다.

## 7 [정답] ⑤

사회, ‘사단 법인의 법인격과 법인격 부인론’

지문해설 : 이 글은 법인격의 의미를 중심으로 사단 법인의 개념과 성격을 소개한 다음 법인격 부인론을 부연 설명하고 있다. 사단은 법인으로 등기된 사단과 법인으로 등기하지 않은 사단으로 나눌 수 있는데, 법인이 되어야 법인격을 취득할 수 있다. 회사도 사단 성격의 법인이며 대표적인 회사 형태로는 주식회사가 있다. 일인 주식회사에서 사단 구성원인 사람의 인격과 법인으로서의 법인격이 잘 분간되지 않는 것이

보이는 경우, 예외적으로 법인격 부인론이 제기될 수 있음을 설명하고 있다.

[주제] 사단 법인의 법인격과 법인격 부인론

세부 내용 추론

정답해설 : 1문단에서 사단에 대한 정의를 소개하며 사단은 법인으로 등기되어야 법인격이 생기며, 사단성을 갖추고도 법인으로 등기하지 않은 사단은 법인이 아닌 사단이라고 설명하고 있다. 또 사람과 법인만이 권리 능력을 가진다고 진술되어 있으므로 사단이라는 제도 자체가 사람들이 결합한 단체에 권리와 의무를 누릴 수 있는 자격을 부여하는 것이 아님을 알 수 있다. 즉 일정한 요건을 갖추지 않은 사단은 법으로써 부여되는 권리 능력인 법인격을 취득할 수 없다.

[오답피하기] ① 1문단 중간 부분에서 사단이 갖춘 성질을 사단성이라고 하며, 사단은 운영 기구를 둔다는 것을 알 수 있다. ② 1문단 중간 부분에서 사단의 구성원을 사원이라고 설명하고, 2문단 둘째 문장에서 주식회사는 주주들로 구성된다고 설명하고 있으므로 그 구성 측면에서 주주가 여러 명인 주식회사의 주주는 사단의 사원에 해당함을 알 수 있다. ③ 1문단에서 권리 능력을 갖는다는 것은 소유권의 주체가 될 수 있는

것을 의미한다는 것을 알 수 있다. 그리고 법인격을 가진 사단을 사단 법인이라 하는데, 사람과 법인만이 권리 능력을 가진다고 설명하고 있다. ④ 1문단에서 사단은 구성원의 가입과 탈퇴에 관계없이 존속하는 단체라고 정의되고, 사단 법인의 법인격은 구성원의 가입, 탈퇴에 관계없이 존속한다는 것을 추론할 수 있다.

## 8 [정답] ①

핵심 내용 파악

정답해설 : 3문단에서 대표 이사는 이사 중 한 명으로, 이사회에서 선출되는 기관이라고 진술되어 있다.

[오답피하기] ② 1문단을 참고할 때, 회사는 사단의 성격을 갖는 법인으로서 법인격을 갖는다. 2문단을 참고할 때, 일인 주식회사도 회사의 일종이므로 법인격을 갖는 것은 일인 주식회사이다. ③ 3문단에서 이사의 보수는 주주 총회에서 결정하도록 되어 있다고 진술되어 있다. ④ 3문단에서 상법상 회사는 이사들로 이루어진 이사회만을 의결 기관으로 둔다고 진술되어 있다. ⑤ 2문단에서 여러 주주가 있던 회사가 주식의 상속, 매매, 양도 등으로 말미암아 모든 주식이 한 사람의 소유로 되는 경우가 있다는 것을 설명하고 있다.

## 9 [정답] ⑤

세부 내용 파악

정답해설 : ㉠을 포함하고 있는 부분에서 ‘이때 그 특정한 거래 관계에 관련하여서만 예외적으로 회사의 법인격을 일시적으로 부인하고 회사와 주주를 동일시해야 한다는 법인격 부인론이 제기된다.’라고 설명되어 있고, 또 ‘회사가 일인 주주에게 완전히 지배되어 회사의 회계, 주주 총회나 이사회 운영이 적법하게 작동하지 못하는 데도

회사에만 책임을 묻는 것은 법인 제도가 남용되는 사례'라고 설명되어 있으므로 특정한 경우 ㉠에 입각하여 회사가 아니라 일인 주주에게 책임을 물을 수 있음을 알 수 있다.

[오답피하기] ① 법인격 부인론은 회사의 운영이 주주 한 사람의 개인 사업과 다름없이 이루어져 회사와 거래 관계에 있는 사람들이 재산상 피해를 입는 문제가 발생할 때 예외적으로 적용될 수 있다. ② 법인격 부인론은 법률에 명시적으로 규정되어 있지 않다. ③ 법인격 부인론은 특정 거래 관계와 관련하여서만 예외적으로, 일시적으로 회사의 법인격을 부인하는 것이다. ④ 법인격 부인론은 회사의 법인격을 일시적으로 부인하는 것이지 대표 이사 개인의 권리 능력을 부인하는 것이 아니다.

10 [정답] ⑤

어휘의 문맥적 의미 파악

정답해설 : ㉠인 '허울'이 포함된 문장은 '심한 경우에는 회사에서 발생한 이익이 대표 이사인 주주에게 귀속되고 회사 자체는 허울만 남는 일도 일어난다.'이다. 이로 보아 '허울'의 문맥적 의미는 회사에서 발생한 이익이 회사에 돌아가야 하지만 그렇지 않게 되어 회사 자체는 이익을 남기지 못하는 상태라고 볼 수 있다. 따라서 회사의 자산이 감소할 수는 있으나 회사의 자산이 감소한다 할지라도 권리 능력을 누릴 수 없게 되는 것은 아니다.

[오답피하기] ①, ② ㉡와 ㉢는 문맥적으로 사단 법인과 사원 개인이 구별되어야 한다는 의미로 사용되고 있다. 즉 사원 개인은 법인의 법인격과는 구별되므로 사단이진 빚을 갚을 의무는 사단에게 있는 것이지 사원 개인에게 있지 않다는 것이다. ③ 1문단에서 사단은 사람들의 결합체로서의 성격을 갖는다는 것이 설명되어 있는데, 일인 주주로 회사를 설립하는 경우 이러한 성격에 부합하지 않지만 법인으로 인정한 것이므로 ㉢의 문맥적 의미는 '여러 사람이 결합한 조직체로서의 성격'이다. ④ ㉣는 '법인인 회사의 운영이 독립된 주체로서의 경영'과 대비되는 개념으로 사용되고 있다.

11 정답 ③

어디 있지? 정답의 근거

③ <보기>에 따르면 자본주의 시스템의 근본적인 요구는 '더욱 생산적으로 되어야 한다.'로 변하지 않았다. 이러한 요구는 '규율 사회'에서는 외적 강제에 의해 타자 착취를 통해 관철되었고, '성과 사회'에서는 내적 유혹에 의한 자기 착취를 통해 관철된다.

오답이 오답인 근거

① 4문단 '기계의 속도에 기초하여 노동 규율이 확립'되었다는 것은 외적 강제에 의한 착취라고 할 수 있다. ② 6문단 '다양해진 욕구와 성취 욕망을 충족하기 위해 스스로를 소진'한다는 것은 내적 유혹에 의한 자기 착취라

고 할 수 있다. ④ 현대 사회를 피로사회로 보는 견해는 현대 사회를 기술의 발달에 따라 더 많은 욕구와 성취 욕망이 발생하는 부정적인 입장을 나타내고, 기술의 발달이 인간의 삶을 여유롭게 만들어 줄 것이라는 견해는 현대 사회에 대한 긍정적인 입장을 나타낸다. ⑤ 6문단 '자신의 능력을 극한으로 끌어올리기 위해 스스로를 끝없이 몰아세울 수밖에 없는 내면화된 강박증'은 '내적 유혹'에서 나타났다고 할 수 있다.

12 정답 ④

외적 준거에 따른 작품 감상

정답해설 : <제9장>의 종장은 벼슬을 버리고 떠난 도연명과 소광의 처신을 누구나 부러워하는 당당한 태도('호연행색')로 여기고 있다. 속세에 미련을 갖게 하는 가치는 언급되지 않았다.

[오답피하기] ① <제1장>의 초장은 '문장을 짓고자 하니, 사람은 글자를 알게 되면서부터 근심이 시작되시오.'라는 의미로, 화자가 강호를 선택해 은거하게 된 계기로 볼 수 있다. ② <제3장>의 종장 '시름 업시 늘거 가니'에서 강호를 선택하였을 때의 긍정적인 모습을 확인할 수 있다. ③ <제6장>의 종장은 '싫거나 즐겁거나 내 분수인가 하노라'라는 의미로 화자 자신이 분수에 맞는 선택을 했다는 것으로 볼 수 있다. ⑤ <제9장>의 종장은 '(도연명과 소광의 태도가 부럽다는 것을) 알고도 그만두어야 할 때를 알지 못하니'라는 의미로 강호와 속세 사이에서 갈등하는 화자의 모습이 드러난다. 그리고 <제11장>의 종장은 '이제는 가려서 정하니 일흥(세속을 벗어난 흥취)을 참기 어려워하노라.'의 의미로 자신의 선택에 만족하는 화자의 모습이 드러난다.

13 ① 정답률 85%

<갈래복합>

(가) 상춘곡, 정극인

■ 핵심정리

\*갈래 : 서정 가사. 정격 가사. 양반 가사

\*연대 : 성종 때

\*율격 : 3.4조 4음보

\*문체 : 운문체. 가사체

\*구성 : 서사, 본사(춘경·상춘), 결사의 3단 구성

\*성격 : 주정적, 서정적

\*표현상의 특징

- 설의법, 의인법, 대구법, 직유법 등의 여러 표현 기교를 사용

- 고사를 많이 인용하면서 작품 전체를 유려하게 이끌고 있음.

\*시상의 전개방식 : 화자는 좁은 공간(집 주변)에서 점점 넓은 공간(들판, 산 위)으로 나아가는 공간 확장에 의한 전개 방식을 사용하고 있다.

■ 작품해설

화자는 산중에 거처하며 봄날의 흥취에 한껏 젖어 온갖 풍류의 즐거움을 느낀다. 높은 산에 올라 수많은 마을을 바라보니 더욱 아름답다. 이러한 자연의 품 안에서 부귀와 공명을 욕심내지 않고 청풍과 명월을 벗하는 안빈낙도의 생활 자세를 지니며 살아가겠다는 내용의 '상춘곡'은 가사 문학의 첫 작품으로 평가되고 있다.

(나) 율리유곡, 김광육

■ 핵심정리

- \* 갈래: 연시조
- \* 성격: 전원적, 탈속적
- \* 주제: 세속적 가치를 초월한 유유자적한 삶

■ 작품해설

인조 때 정이품 문관 우참찬을 지냈던 글쓴이가 만년에 도연명의 '귀거래'를 본받아 '율리'라는 경치가 빼어난 곳에 은거하면서 지은 14수의 연시조이다. 벼슬을 떠나 전원과 자연 속에 살아가는 자신의 자유로운 삶을 노래했다. 작가는 당대의 정치 현실에도 무심하지 않아 나라를 위해 사람들이 참여하는 것을 칭송하고 있지만 자신은 강산풍월을 두고 갈 수 없다고 하면서 정치 현실보다는 자연에 높은 비중을 두는 면모를 보이고 있다. 세속적 삶을 초월하여 자연 속에서 유유자적한 삶을 누리고 있는 화자의 만족감이 잘 드러난 작품이다. 동시에 부귀와 공명, 세상의 번우한 일에서 벗어나 자연에서 느끼는 자유로움과 운치를 노래하며, 세속의 관직을 탐하고 있는 엽관배들의 행태를 비판하고 있다.

(다) 범희문화서도원림, 박규수

■ 핵심정리

- \* 갈래: 고전수필
- \* 성격: 비판적, 비유적
- \* 주제: 자연경관을 소유물로 여기는 세태 비판

■ 작품해설

박규수가 중국 북송의 명신 범중엄이 늙어서 저택을 새로 짓지 않겠다고 말한 사연을 바탕으로 삼아 자신의 생각을 펼친 글로, 직접 소유하지 않고도 많은 것을 즐길 수 있다는 취지로 쓴 글이다. 사대부들이 서울 주변 경관이 좋은 곳에 경쟁적으로 정원을 꾸미고, 서로를 비교하여 평가하려는 풍조가 유행이었던 조선 시대의 현실을 반영되어 있다.

빼어난 경관과 아름다운 풍경을 자랑하는 명소는 그 수를 헤아릴 수 없으며, 한 곳의 풍광이라 하더라도 발걸음에 따라, 때와 날씨 변화에 따라 그 운치와 풍경은 변모한다. 이러한 자연의 진정한 아름다움을 있는 그대로 즐길 줄 모르고 자신의 소유물로 삼아 서로 자랑하고 견주며 평가하는 사람들을 어리석음을 비판적인 시선으로 바라보고 있는 작품이다.

어디 있지? 정답의 근거

① (가)에서는 '산림에 묻혀 있어 지락을 모를 것인가, 물아일체(物我一體)어니 흥이야 다를 쏘냐.'에서 설의법을 활용하여 자연에 묻혀 지내는 화자의 만족감을 드러내고 있다. 또한 (나)에서는 '삼공이 귀하다 한들 강산과 바꿀소냐, 이 몸이 청흥(淸興) 가지고 만호후(萬戶侯)인들 부러우랴, 아무리 매인 새 놓인다 한들 이토록 시원하랴'에서 설의법을 활용하여 자연 속에서 살아가면서 만족하는 화자의 삶을 표현하고 있다.

오답이 오답인 근거

- ② (가)에서는 '도화행화'의 붉은색과 '녹양방초'의 녹색의 색채 대비가 나타나지만, (다)에서는 나타나지 않는다.
- ③ (나)에서는 '동풍이 건 듯 불어 적설(積雪)을 녹이니'와 같이 감각적 이미지(시각적 이미지)를 활용하여 계절감(겨울에서 봄으로 바뀌는 시기)을 나타내고 있으나, (다)에서는 계절감이 나타난 표현은 찾을 수 없다.
- ④ (가)에서는 풍자적 표현이 없지만 (나)에서는 2연에서 고기를 엿보는 백구를 통해 재물을 탐내는 속세의 사람들과 자신의 모습을 대비하며 재물(권력)을 탐하는 인물들을 풍자하며 주제를 드러내고 있으며, (다)에서는 마지막 문단에서 '이러한 생각에 사로잡힌 사람'은 만족하지 못하는 사람이라며 풍자하여 주제를 드러내고 있다.
- ⑤ (가)에서는 시간의 흐름을 통해 봄의 자연물들의 속성이 드러나지만, (나), (다)에서는 그러한 특징이 드러나지 않는다.

14 ③ 정답률 85%

어디 있지? 정답의 근거

③ <보기>는 세속적인 소유를 거부한 '범희문'이라는 인물의 삶의 태도가 (다)를 창작하는 계기가 되었음을 설명하고 있다. 이를 참고로 하여 ㉔의 관점을 이해해 보면 '굳이 자연을 소유하지 않아도 즐기는데 방해받지 않는다.'는 의미가 된다. 이러한 ㉔의 삶의 태도는 세속의 구속에서 벗어나 산림에 묻혀 부기영화를 부러워하지 않고 청흥을 느끼며 사는 것으로 ㉑, ㉒, ㉓, ㉔과 그 의미가 상통한다. 그러나 ㉕의 백구가 갈 숲으로 서성이며 고기를 엿보는 모습은 세속적 소유를 바라며 기회를 엿보는 속물적인 당대 사대부들의 삶의 모습을 비유적으로 나타낸 것이므로 ㉔의 관점과는 거리가 멀다.

오답이 오답인 근거

- ① 자연에 묻혀 살며 풍류를 아는 삶의 모습이 나타나 있다.
- ② 자연과 일체된 삶 속에서 느끼는 흥취를 말한다.
- ④ 세도가가 부럽지 않을 자연 속에서의 흥취를 나타내고 있다.
- ⑤ 세속의 헛되고 시끄러운 문서를 다 내던지고 자연으로 돌아 온 뒤의 시원함을 나타내고 있다.

15 ④ 정답률 43%

어디 있지? 정답의 근거

④ [A]에는 봄의 아름다운 경치를 제시한 뒤, 봄기운을 이기지 못하고 있는 새의 모습을 통해 봄을 완상하는 화자의 흥겨움이 나타나 있다. [C]에서는 동풍이 불어 눈을 녹이는 상황 속에서 화자는 청산의 변함없는 모습과 대조적으로 화자의 흰 머리(귀밑의 해묵은 서리)는 변하지 않음(녹을 줄을 모른다)을 안타까워하는 모습 나타나 있다. 즉, [A]에서 봄은 흥겨움을 일으키고 [C]에서 봄은 서글픔을 불러일으키는 것이다.

**오답이 오답인 근거**

- ① [A]에서 봄은 흥겨움을 주는 계절일 뿐 인간의 유한성을 상징한다고 보기 어렵다. [C]에서 봄은 화자가 늙음(유한함)을 느끼게 되는 계기가 되지만 봄이 인간의 유한성을 나타낸다고 보기는 어렵다.
- ② [A]와 [C] 모두 봄과 겨울의 대조는 나타나 있지 않다.
- ③ [A]의 ‘수풀에 우는 새는 춘기를 못내 겨워 소리마다 교태로다’에서 의인화를 통해 봄의 속성을 강조하고 있지만, [C]에서는 의인화가 나타나 있지 않다.
- ⑤ [A]와 [C] 모두 봄을 묘사하고 있지만 근경에서 원경, 원경에서 근경으로의 묘사는 나타나 있지 않다.

**16 ① 정답률 91%**

**어디 있지? 정답의 근거**

① [B]에서 화자는 뒷집에서 거치 보리 한 말 정도도 되지 않는 술쌀을 꾸어 와서 짚고 꺾어서 술을 빚었다. 그리고 여러 날 주린 뒤 마신 술이기에 달거나 쓰거나 어떻게 좋다고 말하고 있다. 즉, 화자의 조촐하고 소박한 삶의 모습이 나타나 있는 것이다.

**오답이 오답인 근거**

- ② 사회적 규범이나 이를 따르려는 자세는 나타나 있지 않다.
- ③ 농가와 자연을 분리하려는 의지와는 관련이 없다.
- ④ 공동체를 위한 헌신적인 삶의 태도는 나타나 있지 않다.
- ⑤ 송고한 삶에 대한 지향과는 관련이 없다.

**17 ② 정답률 86%**

**어디 있지? 정답의 근거**

② ⑤의 ‘이러한 생각에 사로잡힌 사람’은 앞의 문맥에서 살펴보면, 산과 빼어난 경치를 자신의 소유로 하려고 하며, 어느 것이 낫고 모자란다면 제각기 자랑하고, 고정된 견해와 평가를 따르며, 작은 불거리에 구속되어 큰 불거리를 놓치는 사람이다. 선택지 2번에 제시된 사람은 같은 풍경이라도 때에 따라 변모함을 아는 사람이다. 즉, ②는 (다)의 글쓴이가 추구하는 인간상으로 ⑤와 같은 사람의 태도로 보기 어려운 모습이다.

**오답이 오답인 근거**

① 휴양림을 집에 두어 빼어난 경치를 소유하고 싶어 하는 태도가 나타나 있다.

③ 강릉 경포대에 대한 고정된 견해인 「관동별곡」을 따르는 태도가 나타나 있다.

④ 단풍은 설악산이 최고라는 고정된 평가를 따르는 태도가 나타나 있다.

⑤ 한라산을 가보고 싶은 이유를 유명한 산악인들이 추천하였기 때문이라고 고정된 평가를 따르는 태도가 나타나 있다.

**★ 어휘 plus!**

- 지경01(地境)「명사」「1」나라나 지역 따위의 구간을 가르는 경계. 「2」일정한 테두리 안의 땅.
- 승경(勝景)「명사」뛰어난 경치.

**18 정답 ②**

내용들 간의 의미 관계 파악

정답해설 : ㄱ, ㄴ. 2문단에 제시된 세포의 조건과 5문단에 제시된 미토콘드리아가 원래 박테리아의 한 종류였다는 근거들을 통해 <보기>에 제시된 각각의 연구 결과가 세포 소기관이 박테리아로부터 비롯되었는지 여부를 판단하는 기준이 될 수 있는지를 확인할 수 있다. 세포 소기관이 자신의 고유한 DNA를 가지고 있다는 결과와 관련된 내용은 2문단에서, 세포 소기관이 이분 분열을 하고, 카디오리핀을 포함한 막으로 둘러싸여 있다는 결과와 관련된 내용은 5문단에서 확인할 수 있다. 따라서 ㄱ과 ㄴ의 세포 소기관은 박테리아로부터 비롯되었다고 판단할 수 있다.

[오답피하기] ㄷ. 3문단에 따르면 박테리아는 원핵생물이므로 세포 소기관이 진핵세포의 리보솜을 가지고 있다는 것으로 ㄴ의 세포 소기관이 박테리아로부터 비롯했다고 판단하기는 어렵다.

ㄷ. 5문단에 따르면 진핵세포막에도 수송 단백질이 존재하므로 막에 수송 단백질이 있다는 것만으로 ㄷ의 세포 소기관이 박테리아로부터 비롯했다고 판단하기는 어렵다. 막에 존재하는 수송 단백질이 진핵세포막의 수송 단백질과는 다른 수송 단백질인 포린이라는 점이 확인되어야 한다.

**19 정답 ①**

구체적 상황에 적용하기

정답해설 : 두 대상이 각자의 개체성을 잃고 둘을 다른 존재로 볼 수 없을 만큼 유기적 상호작용이 강하다면 둘 사이의 관계를 별개의 개체 간 공생 관계가 아니라 하나의 개체를 이루는 부분들 간의 관계로 볼 수 있다는 것을 미토콘드리아와 진핵세포 사이의 관계를 통해 확인할 수 있다. 6문단에 제시된 미토콘드리아가 개체성을 잃고 세포 소기관이 되었다고 보는 근거 중 첫 번째는 진핵세포가 미토콘드리아의 증식에 관여한다는 것이다. 그러나 <보기>의 병원성을 잃은 ‘아메바의 세포질에서 서식하는 박테리아’는 미토콘드리아와 달리 아메바의 관여 없이도 스스로 복제하여 증식할 수 있다. 따라서 ‘아메바의 세포

질에서 서식하는 박테리아'가 미토콘드리아와 같이 세포 소기관으로 변한 것으로 보기는 어렵다. 또한 6문단의 '두 생명체가 서로 떨어져서 살 수 없더라도 각자의 개체성을 잃을 정도로 유기적 상호작용이 강하지 않다면 그 둘은 공생 관계에 있다'를 통해 두 생명체가 서로의 생존에 관여하는 것은 두 생명체가 공생 관계에 있음을 부정하는 근거가 되지 못함을 알 수 있다. 따라서 박테리아의 생존이 아메바의 생존에 관여하는 것은 박테리아와 아메바의 공생 관계를 부정하는 근거가 되지 못한다.

[오답피하기] ② 복어의 '체내에서 서식하는 미생물'과 '복어' 사이의 유기적 상호작용이 강해져 둘을 다른 개체로 볼 수 없다면 복어의 '체내에서 서식하는 미생물'은 개체성을 잃을 수 있다. ③ 복어는 독소를 생산하는 미생물에게 서식처를 제공하는 대신 포식자로부터 자신을 방어할 수 있는 무기를 받을 뿐 복어와 복어의 '체내에서 서식하는 미생물' 간에 DNA의 증식과 관련된 유기적 상호작용은 나타나지 않는다. ④ 6문단에서 진핵세포의 미토콘드리아가 개체성을 잃고 세포 소기관이 되었다는 근거 중 하나로 미토콘드리아의 유전자의 많은 부분이 세포핵의 DNA로 옮겨 가 미토콘드리아의 DNA 길이가 현저히 짧아졌다는 내용을 확인할 수 있다. 따라서 '아메바의 세포질에서 서식하는 박테리아'가 개체성을 잃었다면 박테리아의 유전자의 많은 부분이 아메바의 세포핵의 DNA로 옮겨 가 박테리아의 DNA 길이가 짧아졌을 것이라고 추론할 수 있다. ⑤ <보기>의 복어와 복어 체내에 서식하며 테트로도톡신을 생산하는 미생물 사이의 관계는 복어 체내의 미생물을 제거해도 복어의 생존에는 지장이 없다는 점, 복어가 개체성을 잃지 않았다는 점을 통해 공생 관계로 볼 수 있다. 한편 <보기>의 생존한 아메바와 이 아메바의 세포질에서 서식하는 박테리아 사이의 관계도 공생 관계로 볼 수 있다. 박테리아가 죽을 경우 아메바도 죽었으나 6문단에서 '두 생명체가 서로 떨어져서 살 수 없더라도 각자의 개체성을 잃을 정도로 유기적 상호작용이 강하지 않다면'이라는 언급을 통해 각자가 개체성을 잃을 만큼 둘 사이의 유기적 상호작용이 강하지 않다면 한쪽을 제거했을 때 다른 쪽이 생존하지 못하더라도 공생 관계로 볼 수 있다는 것을 알 수 있다.

Fit 하는 순간, 오답도 실력이 된다!

---

## 고3 2019년 06월 수학나형 오답률 랭킹 5위

---

# 이지오답핏







나의 오답 문항

고3 2019년 06월 평가원 수학나형 21번

이게 바로 핵심이야!

왜 틀렸지?

이것만은 기억하자!

문제

§ 세부단원정보 : 함수 | 함수 | 합성함수

001 실수 전체의 집합에서 정의된 함수  $f(x)$ 가 다음 조건을 만족시킨다.

$$(가) f(x) = \begin{cases} 2 & (0 \leq x < 2) \\ -2x + 6 & (2 \leq x < 3) \\ 0 & (3 \leq x \leq 4) \end{cases}$$

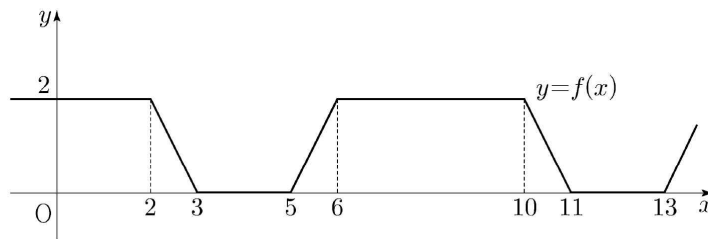
(나) 모든 실수  $x$ 에 대하여  $f(-x) = f(x)$ 이고  $f(x) = f(x-8)$ 이다.

실수 전체의 집합에서 정의된 함수

$$g(x) = \begin{cases} \frac{|x|}{x} + n & (x \neq 0) \\ n & (x = 0) \end{cases}$$

에 대하여 함수  $(f \circ g)(x)$ 가 상수함수가 되도록 하는 60 이하의 자연수  $n$ 의 개수는? [4점]

- ① 30                      ② 32                      ③ 34                      ④ 36                      ⑤ 38



§ 출전 : 고2 2017년 03월 학력평가 수학나형 20번

002 집합  $X = \{1, 2, 3, 4, 5\}$ 에 대하여 함수  $f: X \rightarrow X$ 가 있다. 함수  $f$ 가 일대일 대응일 때, <보기>에서 옳은 것만을 있는 대로 고른 것은? [4점]

< 보 기 >

ㄱ.  $f(1) \times f(2) = 6$ 이면  $f(3) + f(4) + f(5) = 10$ 이다.

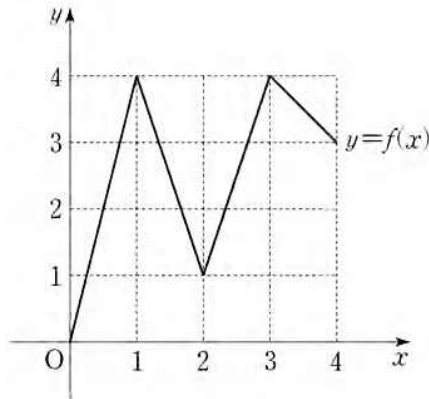
ㄴ. 집합  $X$ 의 모든 원소  $x$ 에 대하여  $(f \circ f)(x) = x$ 이면  $f(a) = a$ 인 집합  $X$ 의 원소  $a$ 가 존재한다.

ㄷ. 집합  $X$ 의 어떤 원소  $x$ 에 대하여  $(f \circ f \circ f)(x) = x$ 이면  $f(b) = b$ 인 집합  $X$ 의 원소  $b$ 가 존재한다.

- ① ㄱ                      ② ㄷ                      ③ ㄱ, ㄴ  
 ④ ㄴ, ㄷ                ⑤ ㄱ, ㄴ, ㄷ

§ 출전 : 고3 2017년 수능 수학나형 21번

003 그림과 같이 닫힌 구간  $[0, 4]$ 에서 정의된 함수  $f(x)$ 의 그래프는 점  $(0, 0)$ ,  $(1, 4)$ ,  $(2, 1)$ ,  $(3, 4)$ ,  $(4, 3)$ 을 이 순서대로 선분으로 연결한 것과 같다.



다음 조건을 만족시키는 집합  $X = \{a, b\}$ 의 개수는? (단,  $0 \leq a < b \leq 4$ ) [4점]

$X$ 에서  $X$ 로의 함수  $g(x) = f(f(x))$ 가 존재하고  $g(a) = f(a)$ ,  $g(b) = f(b)$ 를 만족시킨다.

- ① 11                      ② 13                      ③ 15                      ④ 17                      ⑤ 19

## 나의 오답 문항

고3 2019년 06월 평가원 수학나형 27번

이게 바로 핵심이야!

왜 틀렸지?

이것만은 기억하자!

## 문제

§ 세부단원정보 : 다항함수의 미분법 | 도함수의 활용 | 부등식의 활용

004 두 함수

$$f(x) = x^3 + 3x^2 - k, \quad g(x) = 2x^2 + 3x - 10$$

에 대하여 부등식

$$f(x) \geq 3g(x)$$

가 달린 구간  $[-1, 4]$ 에서 항상 성립하도록 하는 실수  $k$ 의 최댓값을 구하시오. [4점]

§ 출전 : 2014년 E변형특강 수학B형 139번

005  $0 \leq x \leq 2$ 에서 두 함수  $f(x) = x^3 - x^2 - 2x - 10$ ,  $g(x) = -x^2 + x - a + 10$ 에 대하여 부등식  $f(x) \geq g(x)$ 가 항상 성립하도록 하는 실수  $a$ 의 최솟값을 구하시오.

§ 출전 : 2014년 E변형특강 수학A형 131번

006 두 함수  $f(x) = x^3 + 3x^2 + 2kx + 4$ ,  $g(x) = -kx^2 + 2$ 가 있다.  $x > 1$ 인 실수  $x$ 에 대하여  $f(x) - g(x) > 0$ 이 성립하도록 하는 실수  $k$ 의 최솟값은?

- ① -1   ② -2   ③ -3   ④ -4   ⑤ -5

## 나의 오답 문항

고3 2019년 06월 평가원 수학나형 28번

이게 바로 핵심이야!

왜 틀렸지?

이것만은 기억하자!

## 문제

§ 세부단원정보 : 수열 | 등차수열과 등비수열 | 등비수열의 합

007 첫째항이 2이고 공비가 정수인 등비수열  $\{a_n\}$ 과 자연수  $m$ 이 다음 조건을 만족시킬 때,  $a_m$ 의 값을 구하시오. [4점]

$$(가) 4 < a_2 + a_3 \leq 12$$

$$(나) \sum_{k=1}^m a_k = 122$$

§ 출전 : 고2 2018년 11월 학력평가 수학나형 27번

008 모든 항이 양수인 등비수열  $\{a_n\}$ 이 다음 조건을 만족시킬 때,  $a_3$ 의 값을 구하시오. [4점]

(가)  $a_1 \times a_2 = 2a_3$   
 (나)  $\sum_{k=1}^{20} a_k = \frac{a_{21} - a_1}{3}$

§ 출전 : 고3 2018년 06월 평가원 수학나형 15번

009 등비수열  $\{a_n\}$ 에 대하여

$$a_3 = 4(a_2 - a_1), \quad \sum_{k=1}^6 a_k = 15$$

일 때,  $a_1 + a_3 + a_5$ 의 값은? [4점]

- ① 3                      ② 4                      ③ 5                      ④ 6                      ⑤ 7

## 나의 오답 문항

고3 2019년 06월 평가원 수학나형 29번

이게 바로 핵심이야!

왜 틀렸지?

이것만은 기억하자!

☰ 문제

§ 세부단원정보 : 순열과 조합 | 순열과 조합 | 중복조합

010 다음 조건을 만족시키는 음이 아닌 정수  $x_1, x_2, x_3$ 의 모든 순서쌍  $(x_1, x_2, x_3)$ 의 개수를 구하시오. [4점]

(가)  $n = 1, 2$ 일 때,  $x_{n+1} - x_n \geq 2$ 이다.

(나)  $x_3 \leq 10$



§ 출전 : 고3 2014년 수능 수학B형 26번

011 다음 조건을 만족시키는 자연수  $a, b, c$ 의 모든 순서쌍  $(a, b, c)$ 의 개수를 구하시오. [4점]

- (가)  $a \times b \times c$ 는 홀수이다.  
 (나)  $a \leq b \leq c \leq 20$

§ 출전 : 고3 2015년 09월 평가원 수학B형 27번

012 다음 조건을 만족시키는 2 이상의 자연수  $a, b, c, d$ 의 모든 순서쌍  $(a, b, c, d)$ 의 개수를 구하시오. [4점]

- (가)  $a + b + c + d = 20$   
 (나)  $a, b, c$ 는 모두  $d$ 의 배수이다.

## 나의 오답 문항

고3 2019년 06월 평가원 수학나형 30번

이게 바로 핵심이야!

왜 틀렸지?

이것만은 기억하자!

## 문제

§ 세부단원정보 : 함수 | 유리함수와 무리함수 | 유리함수

013 최고차항의 계수가 1이고  $f(2) = 3$ 인 삼차함수  $f(x)$ 에 대하여 함수

$$g(x) = \begin{cases} \frac{ax-9}{x-1} & (x < 1) \\ f(x) & (x \geq 1) \end{cases}$$

이 다음 조건을 만족시킨다.

함수  $y = g(x)$ 의 그래프와 직선  $y = t$ 가 서로 다른 두 점에서만 만나도록 하는 모든 실수  $t$ 의 값의 집합은  $\{t \mid t = -1 \text{ 또는 } t \geq 3\}$ 이다.

 $(g \circ g)(-1)$ 의 값을 구하시오. (단,  $a$ 는 상수이다.) [4점]

§ 출전 : 고3 2017년 06월 평가원 수학나형 21번

014 함수

$$f(x) = \frac{k}{x-11} + 6 \quad (k \geq 36)$$

에 대하여 다음 조건을 만족시키는 모든 자연수  $k$ 의 개수는? [4점]

$|f(x)| \leq y \leq -x + 5$ 인 두 자연수  $x, y$ 의 모든 순서쌍  $(x, y)$ 의 개수는 2 이상 4 이하이다.

- ① 18
- ② 21
- ③ 24
- ④ 27
- ⑤ 30

§ 출전 : 고2 2014년 03월 학력평가 수학A형 21번

015 함수  $f(x)$ 는 다음 조건을 만족시킨다.

(가)  $-2 \leq x \leq 2$ 에서  $f(x) = x^2 + 2$ 이다.  
 (나) 모든 실수  $x$ 에 대하여  $f(x) = f(x+4)$ 이다.

두 함수  $y = f(x), y = \frac{ax}{x+2}$ 의 그래프가 무수히 많은 점에서 만나도록 하는 정수  $a$ 의 값의 합은? [4점]

- ① 14
- ② 16
- ③ 18
- ④ 20
- ⑤ 22

NOTEPLY™

# 정답과 해설

응답하라. 나의 수능 - 나를 알아주는 최적의 학습 시스템

[www.noteply.co.kr](http://www.noteply.co.kr)

1 정답 ①

출제의도 : 조건을 만족시키는 함수  $g(x)$ 를 추론하여 문제를 해결할 수 있는가?

정답풀이 :

조건 (나)에서 모든 실수  $x$ 에 대하여  $f(-x) = f(x)$ 이므로

$-4 \leq x \leq 0$ 에서의 함수  $y = f(x)$ 의 그래프는  $0 \leq x \leq 4$ 에서의 함수  $y = f(x)$ 의 그래프를  $y$ 축에 대하여 대칭 이동시킨 그래프와 같다. 또한 모든 실수  $x$ 에 대하여  $f(x) = f(x-8)$ 이므로  $4 \leq x \leq 12$ 에서의 함수  $y = f(x)$ 의 그래프는  $-4 \leq x \leq 4$ 에서의 함수  $y = f(x)$ 의 그래프를  $x$ 축의 방향으로 8만큼 평행이동시킨 그래프와 같다. 이와 마찬가지로 정수  $k$ 에 대하여

$-4 + 8k \leq x \leq 4 + 8k$ 에서의

함수  $y = f(x)$ 의 그래프는  $-4 \leq x \leq 4$ 에서의 함수  $y = f(x)$ 의 그래프를  $x$ 축의 방향으로  $8k$ 만큼 평행 이동시킨 그래프와 같다.

한편,

$$x > 0 \text{에서 } \frac{|x|}{x} = \frac{x}{x} = 1 \text{이고}$$

$$x < 0 \text{에서 } \frac{|x|}{x} = \frac{-x}{x} = -1 \text{이므로}$$

$$g(x) = \begin{cases} n+1 & (x > 0) \\ n & (x = 1) \\ n-1 & (x < 0) \end{cases}$$

즉, 함수  $g(x)$ 의 치역은  $\{n-1, n, n+1\}$

실수 전체의 집합에서 함수  $(f \circ g)(x)$ 가 상수함수이려면

$f(n-1) = f(n) = f(n+1)$ 을 만족시켜야 한다.

즉, 연속인 세 정수에 대하여 함수  $f$ 의 값이 같은 경우는 다음과 같다.

(i)  $(f \circ g)(x) = 2$ 가 되는 경우

$$-2 + 8k \leq n-1 \text{이고 } n+1 \leq 2 + 8k \text{ (} k \text{는 정수)}$$

$$\text{즉, } 8k-1 \leq n \leq 8k+1 \text{ (} k \text{는 정수)}$$

$k < 0$ 이면  $8k+1 < 0$ 이므로 조건을 만족시키는 자연수  $n$ 은 존재하지 않는다.

$k = 0$ 이면  $-1 \leq n \leq 1$ 이므로 조건을 만족시키는 자연수  $n$ 은 1에서  $k \geq \frac{61}{8}$ 이므로

$1 \leq k \leq 7$ 이면  $8k-1 \leq n \leq 8k+1$  ( $k$ 는 정수)이므로 조건을 만족시키는 60 이하의 자연수  $n$ 은  $8k-1, 8k, 8k+1$

$k > 8$ 이면  $8k-1 > 63$ 이므로 조건을 만족시키는 60 이하의 자연수  $n$ 은 존재하지 않는다.

(ii)  $(f \circ g)(x) = 0$ 이 되는 경우

$$3 + 8t \leq n-1 \text{이고 } n+1 \leq 5 + 8t \text{ (} t \text{는 정수)}$$

$$\text{즉, } 4 + 8t \leq n \leq 4 + 8t \text{에서}$$

$$n = 4 + 8t \text{ (} t \text{는 정수)}$$

$$1 \leq 4 + 8t \leq 60 \text{에서 } -\frac{3}{8} \leq t \leq 7$$

이므로  $0 \leq t \leq 7$

즉, 조건을 만족시키는 60 이하의 자연수  $n$ 의 개수는 4, 12, 20, 28, 36, 44, 52, 60의 8

(i), (ii)에서

조건을 만족시키는 60 이하의 자연수  $n$ 의 개수는  $(1+3 \times 7) + 8 = 30$

2 [정답] ③

[출제의도] 합성함수와 일대일 대응의 뜻을 이용하여 주어진 명제의 참, 거짓을 판별한다.

ㄱ. 함수  $f$ 가 일대일 대응이므로  $f(1) \times f(2) = 6$ 에서  $f(1)$ 과  $f(2)$ 의 값은 각각 2와 3 또는 3과 2이다. 따라서  $f(3) + f(4) + f(5)$ 의 값은 10이다. (참)

ㄴ.  $(f \circ f)(x) = x$ 일 때,  $f(a) = b$ 이면

$$(f \circ f)(a) = f(f(a)) = a$$

이므로  $f(b) = a$ 이다.

따라서  $(f \circ f)(x) = x$ 를 만족하는 함수  $f$ 의 대응 관계는  $f(a) = a$ 이거나 서로 다른 두 원소  $a, b$ 에 대하여  $f(a) = b$ 이면서  $f(b) = a$ 이어야만 한다.

집합  $X$ 의 원소가 다섯 개이므로 원소를 두 개씩 짝을 지어도 짝지어지지 않는 원소가 존재한다.

따라서  $(f \circ f)(x) = x$ 이면  $f(a) = a$ 인 집합  $X$ 의 원소  $a$ 가 존재한다. (참)

ㄷ. (반례)  $f(1) = 2, f(2) = 3, f(3) = 1, f(4) = 5,$

$f(5) = 4$ 라 하면

$$(f \circ f \circ f)(1) = f(f(f(1)))$$

$$= f(f(2))$$

$$= f(3)$$

$$= 1$$

에서  $(f \circ f \circ f)(1) = 1$ 이므로 집합  $X$ 의 어떤 원소  $x$ 에 대하여  $(f \circ f \circ f)(x) = x$ 이지만  $f(b) = b$ 인 집합  $X$ 의 원소  $b$ 는 존재하지 않는다. (거짓)

따라서 옳은 것은 ㄱ, ㄴ이다.

3 정답: ②

출제의도: 합성함수에 관련된 주어진 조건을 그래프를 이용하여 이해할 수 있는가?

정답풀이:

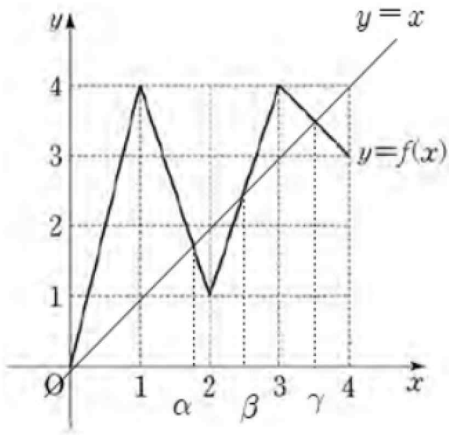
$$g(a) = f(a), g(b) = f(b) \text{에서}$$

$$f(f(a)) = f(a), f(f(b)) = f(b)$$

이때,  $f(a) = k$ 라 하면

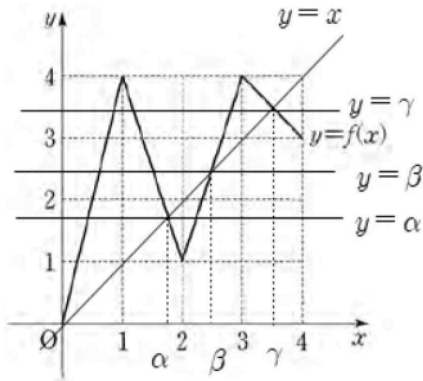
$$f(k) = k$$

그러므로  $k$ 는 함수  $y = f(x)$ 의 그래프와 직선  $y = x$ 가 만나는 점의  $x$ 좌표이다.



이때, 함수  $y=f(x)$ 의 그래프와 직선  $y=x$ 가 만나는 점 중 원점이 아닌 점의  $x$ 좌표를 위의 그림과 같이  $\alpha, \beta, \gamma$  ( $0 < \alpha < \beta < \gamma$ )라 하자.

이제,  $f(x)$ 의 값이  $0, \alpha, \beta, \gamma$ 인 경우를 나타내면 다음과 같다.



(i)  $f(x)=0$ 인 경우  
 $x$ 의 값은  $0$ 이다.

(ii)  $f(x)=\alpha$ 인 경우

함수  $y=f(x)$ 의 그래프와 직선  $y=\alpha$ 는 그림과 같이 세 점에서 만난다.

이때,  $x \neq \alpha$ 인 값을  $x_1, x_2$  ( $x_1 < \alpha < x_2$ )라 하면  $x$ 의 값은  $x_1, \alpha, x_2$ 이다.

(iii)  $f(x)=\beta$ 인 경우

함수  $y=f(x)$ 의 그래프와 직선  $y=\beta$ 는 그림과 같이 세 점에서 만난다.

이때,  $x \neq \beta$ 인 값을  $y_1, y_2$  ( $y_1 < y_2 < \beta$ )이다.

(iv)  $f(x)=\gamma$ 인 경우

함수  $y=f(x)$ 의 그래프와 직선  $y=\gamma$ 는 그림과 같이 네 점에서 만난다.

이때,  $x \neq \gamma$ 인 값을

$z_1, z_2, z_3$  ( $z_1 < z_2 < z_3 < \gamma$ )라 하면  $x$ 의 값은  $z_1, z_2, z_3, \gamma$ 이다.

이때, 함수  $g(x)=f(f(x))$ 가 집합  $X$ 에서  $X$ 로의 함수이어야 하므로 다음 각 경우로 나눌 수 있다.

(i)  $f(x)$ 의 값이  $0, \alpha, \beta, \gamma$ 의 값 중 서로 다른 두

값을 갖도록  $a, b$ 를 정하는 경우

이 경우  $f(x)=0, f(x)=\alpha, f(x)=\beta, f(x)=\gamma$ 인  $x$ 의 값은 각각  $0, \alpha, \beta, \gamma$ 이어야 한다.

즉, 두 수  $a, b$ 는  $0, \alpha, \beta, \gamma$ 에서 서로 다른 두 수를 택해야 하므로 집합  $X$ 의 개수는

$${}_4C_2 = \frac{4 \times 3}{2 \times 1} = 6$$

(ii)  $f(x)$ 의 값이  $0, \alpha, \beta, \gamma$ 의 값 중 하나의 값만 갖도록  $a, b$ 를 정하는 경우

$f(x)=0$ 일 때는 두 수  $a, b$ 를 정하는 경우

$f(x)=\alpha$ 일 때는 두 수  $a, b$ 는  $x_1, \alpha, x_2$  중  $\alpha$ 를 반드시 포함하여 두 수를 택해야 하므로 집합  $X$ 의 개수는  $2$ 이다.

$f(x)=\beta$ 인 경우 두 수  $a, b$ 는  $z_1, z_2, z_3, \gamma$  중  $\gamma$ 를 반드시 포함하여 두 수를 택해야 하므로 집합  $X$ 의 개수는  $3$ 이다.

그러므로 집합  $X$ 의 개수는  $7$ 이다.

따라서, (i), (ii)에서 구하는 집합  $X$ 의 개수는

$$6 + 7 = 13$$

#### 4 정답 3

출제의도 : 도함수를 이용하여 부등식이 항상 성립하도록 하는 실수  $k$ 의 최댓값을 구할 수 있는가?

정답풀이 :

$h(x) = f(x) - 3g(x)$ 라 하면

$$h(x) = x^3 - 3x^2 - 9x + 30 - k$$

이고, 닫힌 구간  $[-1, 4]$ 에서

$$f(x) \geq 3g(x)$$

이므로  $h(x) \geq 0$ 이어야 한다.

이때

$$h'(x) = 3x^2 - 6x - 9 = 3(x+1)(x-3)$$

이므로 닫힌 구간  $[-1, 4]$ 에서 함수  $h(x)$ 의 증가, 감소를 조사하면 함수  $h(x)$ 는  $x=3$ 에서 극소이면서 최소임을 알 수 있다. 즉, 닫힌 구간  $[-1, 4]$ 에서 함수  $h(x)$ 의 최솟값은

$$h(3) = 3 - k$$

이므로 닫힌 구간  $[-1, 4]$ 에서  $h(x) \geq 0$ 이라면

$$3 - k \geq 0$$

즉,  $k \leq 3$ 이어야 한다.

따라서 구하는  $k$ 의 최댓값은  $3$

#### 5 [정답] 22

$h(x) = f(x) - g(x)$ 로 놓으면

$$h(x) = (x^3 - x^2 - 2x - 10) - (-x^2 + x - a + 10) = x^3 - 3x - 20 + a$$

이고, 닫힌 구간  $[0, 2]$ 에서  $h(x) \geq 0$ 이어야 하므로 이

구간에서의  $\{h(x)\}$ 의 최솟값  $\geq 0$ 이어야 한다.  
 이때,  $h'(x) = 3x^2 - 3 = 0$ 에서  $x = -1$  또는  $x = 1$ 이고  
 $h(x)$ 는 닫힌 구간  $[0, 2]$ 에서  $x = 1$ 일 때 최소이다.  
 즉,  $h(1) = a - 22 \geq 0$   
 $\therefore a \geq 22$   
 따라서 구하는  $a$ 의 최솟값은 22이다.

6 [정답] ②

$F(x) = f(x) - g(x) = x^3 + (k+3)x^2 + 2kx + 2$ 로 놓으면  
 $F'(x) = 3x^2 + 2(k+3)x + 2k$   
 이차식  $F'(x)$ 의 판별식을  $D$ 라 하면  
 $\frac{D}{4} = (k+3)^2 - 6k = k^2 + 9 > 0$   
 이므로 함수  $F(x)$ 는 모든 실수  $x$ 에서 증가한다.  
 따라서  $F(1) \geq 0$ 를 만족시키면  $x > 1$ 일 때,  $F(x) > 0$ 이  
 성립한다.  
 $F(1) = 3k + 6 \geq 0$ 에서  $k \geq -2$   
 따라서 조건을 만족시키는  $k$ 의 최솟값은  $-2$ 이다.

7 정답 162

출제의도 : 등비수열의 일반항과 등비수열의 합을 이용  
 하여 특정 항의 값을 구할 수 있는가?  
 정답풀이 :  
 등비수열  $\{a_n\}$ 의 공비를  $r$  ( $r$ 는 정수)라 하면  
 첫째항이 2이므로  $a_n = 2r^{n-1}$   
 $a_2 = 2r$ ,  $a_3 = 2r^2$ 이므로  
 조건 (가)에서  
 $4 < 2r + 2r^2 \leq 12$  즉,  $2 < r + r^2 \leq 6$   
 $r^2 + r > 2$ 에서  
 $r^2 + r - 2 = (r+2)(r-1) > 0$ 이므로  
 $r < -2$  또는  $r > 1$  ..... ㉠  
 $r^2 + r \leq 6$ 에서  
 $r^2 + r - 6 = (r+3)(r-2) \leq 0$ 이므로  
 $-3 \leq r \leq 2$  ..... ㉡  
 ㉠, ㉡에서  
 $-3 \leq r < -2$  또는  $1 < r \leq 2$   
 $r$ 는 정수이므로  $r = -3$  또는  $r = 2$   
 (i)  $r = 2$ 인 경우

조건 (나)에서

$$\sum_{k=1}^m a_k = \sum_{k=1}^m (2 \times 2^{k-1})$$

$$= \frac{2(2^m - 1)}{2 - 1}$$

$$= 2(2^m - 1)$$

$$2(2^m - 1) = 122 \text{에서}$$

$$2^m - 1 = 61, \quad 2^m = 62$$

이때  $2^m = 62$ 를 만족시키는  $m$ 의 값은 존재하지 않

는다.

(ii)  $r = -3$ 인 경우  
 조건 (나)에서

$$\sum_{k=1}^m a_k = \sum_{k=1}^m \{2 \times (-3)^{k-1}\}$$

$$= \frac{2\{1 - (-3)^m\}}{1 - (-3)}$$

$$= \frac{1 - (-3)^m}{2}$$

$$\frac{1 - (-3)^m}{2} = 122 \text{에서}$$

$$1 - (-3)^m = 244$$

$$(-3)^m = -243$$

즉,  $(-3)^m = (-3)^5$ 이므로  $m = 5$

(i), (ii)에 의하여  $r = -3$ ,  $m = 5$ 이므로

$$a_m = a_5 = 2 \times (-3)^4 = 162$$

8 [정답] 128

[출제의도] 등비수열을 활용하여 문제해결하기

등비수열  $\{a_n\}$ 의 공비를  $r$ 라 하면,

조건 (가)에서  $a_1 \times a_2 = a_1^2 r$ ,  $2a_3 = 2a_1 r^2$ 이므로

$$a_1^2 r = 2a_1 r^2$$

수열  $\{a_n\}$ 의 모든 항이 양수이므로  $a_1 = 2r$  ..... ㉠

조건 (나)에서  $r = 1$ 이면

$$\sum_{k=1}^{20} a_k = 20a_1, \quad \frac{a_{21} - a_1}{3} = 0 \text{이므로 } a_1 = 0$$

$a_1 > 0$ 이므로  $r \neq 1$

$$\sum_{k=1}^{20} a_k = \frac{a_1(r^{20} - 1)}{r - 1}, \quad \frac{a_{21} - a_1}{3} = \frac{a_1(r^{20} - 1)}{3} \text{에서}$$

$$\frac{1}{r - 1} = \frac{1}{3} \text{이므로 } r = 4$$

㉠에서  $a_1 = 8$

따라서  $a_3 = 8 \times 4^2 = 128$

9 정답 ③

출제의도 : 등비수열의 항의 값을 구할 수 있는가?

정답풀이 :

등비수열  $\{a_n\}$ 의 공비를  $r$ 라 하면

$$a_3 = 4(a_2 - a_1) \text{에서}$$

$$a_1 r^2 = 4(a_1 r - a_1)$$

$$a_1(r - 2)^2 = 0$$

$$a_1 = 0 \text{ 또는 } r = 2$$

$a_1 = 0$ 이면

$$\sum_{k=1}^6 a_k = 0 \neq 15$$

이므로

$$a_1 \neq 0$$

따라서  $r = 2$ 이다.

이때,

$$\sum_{k=1}^6 a_k = \frac{a_1(2^6 - 1)}{2 - 1} = 15 \text{에서}$$

$$a_1 \times 63 = 15$$

$$a_1 = \frac{5}{21}$$

따라서

$$\begin{aligned} a_1 + a_3 + a_5 &= \frac{5}{21} \times (1 + 2^2 + 2^4) \\ &= \frac{5}{21} \times 21 \\ &= 5 \end{aligned}$$

10 정답 84

출제의도 : 중복조합의 수를 이용하여 조건을 만족시키는 순서쌍의 개수를 구할 수 있는가?

정답풀이 :

조건 (가)에 의하여

$$x_1 \leq x_2 - 2, \quad x_2 \leq x_3 - 2$$

이고, 조건 (나)에 의하여

$$x_3 \leq 10$$

이므로

$$0 \leq x_1 \leq x_2 - 2 \leq x_3 - 4 \leq 6$$

이때  $x_2 - 2 = x_2', \quad x_3 - 4 = x_3'$ 이라 하면

$$0 \leq x_1 \leq x_2' \leq x_3' \leq 6 \dots\dots\textcircled{7}$$

이고 주어진 조건을 만족시키는 음이 아닌 정수  $x_1, x_2, x_3$ 의 모든 순서쌍 ( $x_1, x_2, x_3$ )의 개수는  $\textcircled{7}$ 을 만족시키는 음이 아닌 정수  $x_1', x_2', x_3'$ 의 모든 순서쌍 ( $x_1', x_2', x_3'$ )의 개수와 같다.

따라서 구하는 순서쌍의 개수는 0, 1, 2, ..., 6의 7개에서 중복을 허락하여 3개를 택하는 중복조합의 수와 같으므로

$$\begin{aligned} {}_7H_3 &= {}_{7+3-1}C_3 \\ &= {}_9C_3 \\ &= \frac{9 \times 8 \times 7}{3 \times 2 \times 1} \\ &= 84 \end{aligned}$$

11 [정답] 220

출제의도 : 중복조합을 이용하여 경우의 수를 구할 수 있는가?

정답풀이 :

구하는 경우의 수는 1부터 19까지의 10개의 홀수 중에서 중복을 허락하여 3개를 택하는 방법의 수와 같다.

$$\therefore {}_{10}H_3 = {}_{10+3-1}C_3$$

$$= \frac{12 \times 11 \times 10}{3 \times 2 \times 1} = 220$$

12 정답 32

출제의도 : 중복조합의 수를 이용하여 순서쌍의 개수를 구할 수 있는가?

정답풀이 :

$20 = 2^2 \times 5$ 이므로  $d$ 가 될 수 있는 값은

2, 4, 5이다.

각 경우로 나누면 다음과 같다.

(i)  $d = 2$ 일 때,

$$a = 2a', \quad b = 2b', \quad c = 2c' \quad (\text{단, } a', b', c' \text{은 자연수})$$

라 하면 주어진 방정식은

$$2a' + 2b' + 2c' + 2 = 20$$

$$a' + b' + c' = 9$$

이때,  $a', b', c'$ 은 자연수이므로 구하는 순서쌍의 개수는 서로 다른 3개에서 중복을 허락하여 6개를 택하는 중복조합의 수와 같으므로

$$\begin{aligned} {}_3H_6 &= {}_8C_6 \\ &= {}_8C_2 \\ &= \frac{8 \times 7}{2 \times 1} \\ &= 28 \end{aligned}$$

(ii)  $d = 4$ 일 때,

$$a = 4a', \quad b = 4b', \quad c = 4c' \quad (\text{단, } a', b', c' \text{은 자연수})$$

라 하면 주어진 방정식은

$$4a' + 4b' + 4c' + 4 = 20$$

$$a' + b' + c' = 4$$

이때,  $a', b', c'$ 은 자연수이므로 순서쌍의 개수는 서로 다른 3개에서 중복을 허락하여 1개를 택하는 중복조합의 수와 같으므로

$${}_3H_1 = {}_3C_1 = 3$$

(iii)  $d = 5$ 일 때,

$$a = 5a', \quad b = 5b', \quad c = 5c' \quad (\text{단, } a', b', c' \text{은 자연수})$$

라 하면 주어진 방정식은

$$5a' + 5b' + 5c' + 5 = 20$$

$$a' + b' + c' = 3$$

이때,  $a', b', c'$ 은 자연수이므로 순서쌍의 개수는 1이다.

따라서, (i), (ii), (iii)에서 구하는 순서쌍의 개수는  $28 + 3 + 1 = 32$

13 정답 19

출제의도 : 조건을 만족시키는 유리함수와 삼차함수를 구할 수 있는가?

정답풀이 :

$x < 1$ 일 때, 함수  $g(x)$ 는

$$y = \frac{ax - 9}{x - 1}$$

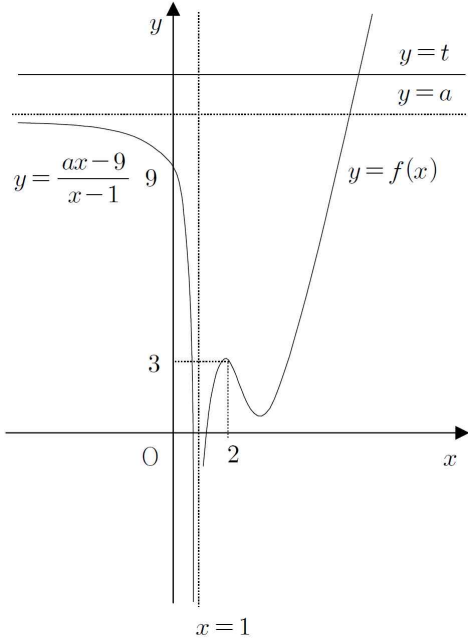


$$= \frac{a(x-1)+a-9}{x-1}$$

$$= \frac{a-9}{x-1} + a$$

이 그래프는 함수  $y = \frac{a-9}{x}$ 의 그래프를  $x$ 축의 방향으로 1만큼,  $y$ 축의 방향으로  $a$ 만큼 평행이동시킨 것이다. 그러므로  $a-9$ 의 부호에 따라 나누면 다음과 같다.

(i)  $a-9 > 0$  즉,  $a > 9$ 일 때,



이때, 직선  $y=t$ 가  $t > 9$ 일 때는 곡선  $y = \frac{a-9}{x-1} + a$

와 만나지 않는다.

또,  $t$ 가 충분히 크면 삼차함수  $y=f(x)$ 의 그래프와 는 직선  $y=t$ 와 한 점에서 만난다.

그러므로 조건을 만족시키지 못한다.

(ii)  $a-9=0$  즉,  $a=9$ 일 때,

$$y = \frac{a-9}{x-1} + a = 0$$

이 경우에도 직선  $y=t$ 가  $t > 9$ 이고 충분히 크면 직 선  $y=t$ 와 삼차함수  $y=f(x)$ 의 그래프와 한 점에서 만 만난다.

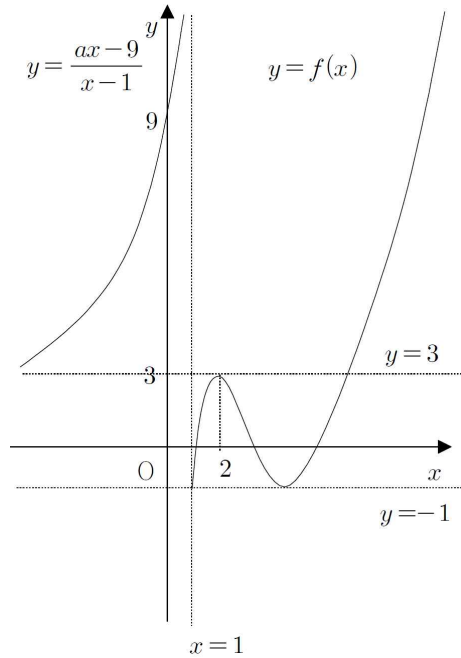
그러므로 조건을 만족시키지 못한다.

(iii)  $a-9 < 0$  즉,  $a < 9$ 일 때,

조건을 만족시키려면 유리함수  $y = \frac{a-9}{x-1} + a$ 의 그래 프의 점근선은  $y=3$ 이어야 한다. 즉,

$$a=3$$

또, 삼차함수  $y=f(x)$ 의 그래프는 두 직선  $y=3$ ,  $y=-1$ 에 접하고  $f(1) \leq -1$ 이어야 한다.



이때, 삼차함수  $f(x)$ 의 최고차항이 1이므로

$$f(x) = (x-2)^2(x-k) + 3 \quad (k > 2)$$

로 놓으면

$$f'(x) = 2(x-2)(x-k) + (x-2)^2$$

$$= (x-2)(3x-2k-2)$$

$$= 3(x-2)\left(x - \frac{2k+2}{3}\right)$$

이때,  $f'(x) = 0$ 에서

$$x=2 \quad \text{또는} \quad x = \frac{2k+2}{3}$$

이때, 함수  $f(x)$ 는  $x = \frac{2k+2}{3}$ 에서 극솟값  $-1$ 을 가져야 하므로

$$f\left(\frac{2k+2}{3}\right) = \left(\frac{2k+2}{3} - 2\right)^2 \left(\frac{2k+2}{3} - k\right) + 3$$

$$= -\frac{4}{27}(k-2)^3 + 3 = -1$$

$$(k-2)^3 = 27$$

$$k=5$$

그러므로

$$f(x) = (x-2)^2(x-5) + 3$$

따라서,

$$g(x) = \begin{cases} \frac{3x-9}{x-1} & (x < 1) \\ (x-2)^2(x-5) + 3 & (x \geq 1) \end{cases}$$

이므로

$$(g \circ g)(-1) = g(g(-1))$$

$$= g(6)$$

$$= 19$$

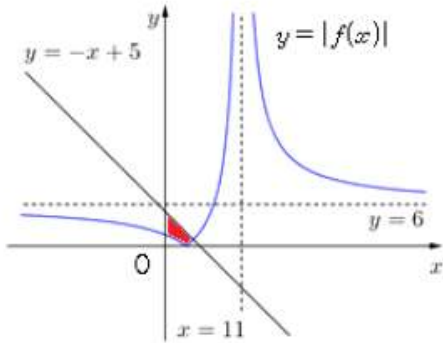
14 정답 ①

출제의도 : 함수의 그래프를 이용하여 주어진 조건 을 만족시키는 자연수  $k$ 의 개수를 구할 수 있는

가?

정답풀이 :

함수  $y = \frac{k}{x-11} + 6$  ( $k \geq 36$ )의 그래프의 점근선의 방정식은  $x=11$ ,  $y=6$ 이고,  
 $k > 0$ 이므로 함수  $y = |f(x)|$ 의 그래프의 개형은 다음 그림과 같고, 주어진 조건을 만족시키는 영역 중  $x > 0$ ,  $y > 0$ 인 부분은 다음 그림의 색칠한 부분과 같다.



함수  $y = |f(x)|$ 의 그래프와  $x$ 축이 만나는 점을  $A(a, 0)$ 이라 하자.

$k = 36$ 일 때,

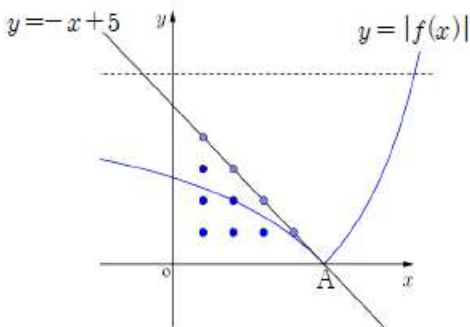
$$\frac{36}{x-11} + 6 = 0 \text{에서}$$

$$a = 5$$

이다.

한편,  $k$ 의 값이 커질수록 점  $A$ 의 겹좌표는 작아진다.

$k = 36$ 일 때, 주어진 조건을 만족시키는 순서쌍  $(x, y)$ 의 개수는 6이다.



함수  $y = |f(x)|$ 의 그래프 중  $y = -f(x)$ 의 그래프와 일치하는 그래프가 점  $(2, 2)$ 를 지날 때, 즉

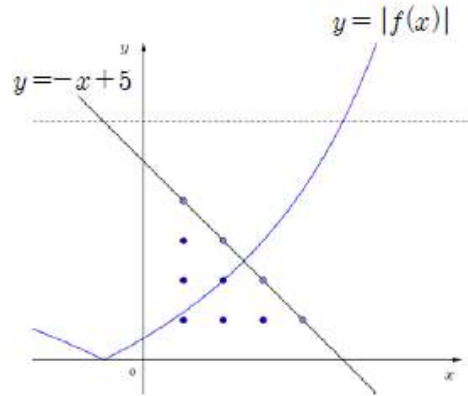
$$-\left(\frac{k}{2-11} + 6\right) = 2 \text{에서}$$

$$k = 72$$

이때 주어진 조건을 만족시키는 순서쌍  $(x, y)$ 의 개수는 5이다.

따라서

$$k > 72 \dots\dots \text{㉠}$$



함수  $y = |f(x)|$ 의 그래프 중  $y = -f(x)$ 의 그래프와 일치하는 그래프가 점  $(1, 3)$ 를 지날 때, 즉

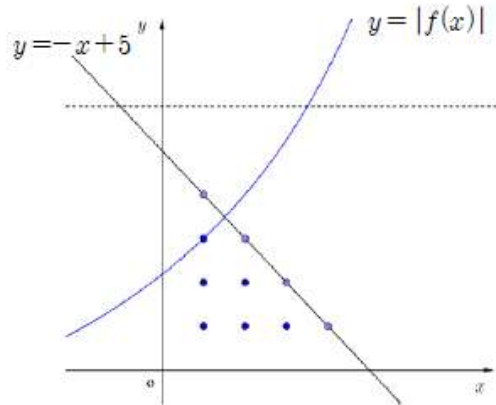
$$-\left(\frac{k}{1-11} + 6\right) = 3 \text{에서}$$

$$k = 90$$

이때 주어진 조건을 만족시키는 순서쌍  $(x, y)$ 의 개수는 2이다.

따라서

$$k \leq 90 \dots\dots \text{㉡}$$



㉠, ㉡에서

$$72 < k \leq 90$$

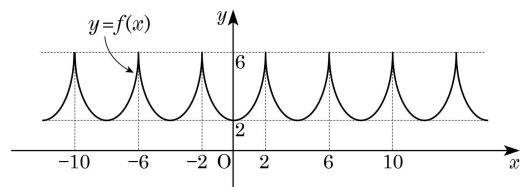
따라서 구하는 자연수  $k$ 의 개수는

$$18$$

15 [정답] ④

[출제외도] 함수의 그래프를 이용하여 두 함수의 그래프의 교점의 개수를 추론한다.

함수  $y = f(x)$ 의 그래프는 다음 그림과 같다.

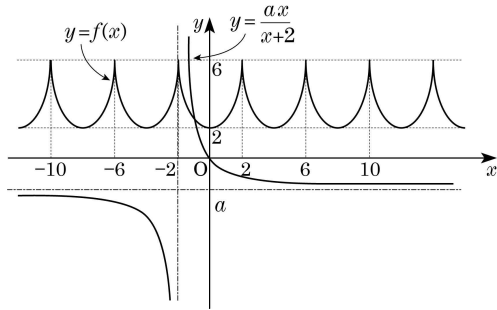


$$\frac{ax}{x+2} = a - \frac{2a}{x+2} \text{ 이므로}$$

함수  $y = \frac{ax}{x+2}$  의 점근선의 방정식은

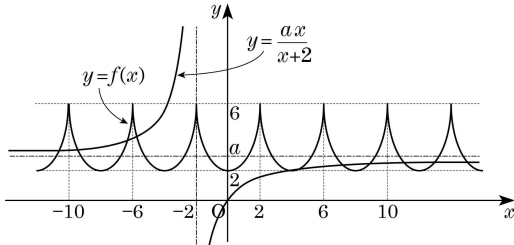
$$x = -2, y = a$$

(i)  $a < 0$  일 때



따라서 두 함수  $y = f(x)$ ,  $y = \frac{ax}{x+2}$  의 그래프의 교점은 유한개이다.

(ii)  $a > 0$  일 때



그림과 같이 두 함수  $y = f(x)$ ,  $y = \frac{ax}{x+2}$  의 그래프의

교점의 개수가 무수히 많게 되는  $a$  의 값의 범위는

$$2 \leq a \leq 6$$

따라서 조건을 만족시키는 정수  $a$  의 값은

2, 3, 4, 5, 6

으로 그 합은 20이다.

Fit 하는 순간, 오답도 실력이 된다!

고3 2019년 06월 영어  
오답률 랭킹 5위

이지오답핏



## ■ 문항별 분석

번호	대분류	중분류	소분류	배점	결과
01	듣기	대화	마지막 말 응답 1(짧은 대화...	2	O
02	듣기	대화	마지막 말 응답 1(짧은 대화...	2	O
03	듣기	담화	담화의 목적	2	O
04	듣기	대화	대화의 주제/의견/주장	2	O
05	듣기	대화	대화자의 관계/장소	2	O
06	듣기	대화	그림정보	2	O
07	듣기	대화	해야할 일	2	O
08	듣기	대화	이유/문제점	2	O
09	듣기	대화	숫자정보	3	O
10	듣기	대화	언급하지 않은 것 찾기	2	O
11	듣기	담화	담화내용 불일치	2	O
12	듣기	대화	도표정보	2	O
13	듣기	대화	마지막 말 응답 2(긴 대화)	2	O
14	듣기	대화	마지막 말 응답 2(긴 대화)	3	O
15	듣기	담화	상황에 적절한 말	3	O
16	듣기	1담화 2문항	1담화 2문항	2	O
17	듣기	1담화 2문항	1담화 2문항	2	O
18	읽기	핵심내용파악	목적 추론	2	O
19	읽기	세부내용파악	심경/분위기/어조	2	O
20	읽기	핵심내용파악	요지/주장 추론	2	O
21	읽기	세부내용파악	어휘 추론	2	O
22	읽기	핵심내용파악	요지/주장 추론	2	O
23	읽기	핵심내용파악	주제 추론	2	O
24	읽기	핵심내용파악	글의 제목	3	O
25	읽기	세부내용파악	도표	2	O
26	읽기	세부내용파악	내용 일치/불일치	2	O
27	읽기	세부내용파악	내용 일치/불일치	2	O
28	읽기	세부내용파악	내용 일치/불일치	2	O
29	읽기	어법	글의 구조	3	X
30	읽기	세부내용파악	어휘 추론	2	X
31	읽기	빈칸추론	빈칸1(단어)	2	O
32	읽기	빈칸추론	빈칸2(구)	2	O
33	읽기	빈칸추론	빈칸3(절)	3	X
34	읽기	빈칸추론	빈칸3(절)	3	X
35	읽기	글의 구조파악	무관한 문장 고르기	2	O
36	읽기	글의 구조파악	글의 순서 정하기	2	O
37	읽기	글의 구조파악	글의 순서 정하기	3	O
38	읽기	글의 구조파악	주어진 문장 넣기	2	O
39	읽기	글의 구조파악	주어진 문장 넣기	3	O
40	읽기	핵심내용파악	요약문 완성	2	O
41	읽기	장문독해	장문(2문항)	2	O
42	읽기	장문독해	장문(2문항)	3	X
43	읽기	장문독해	장문(3문항)	2	O
44	읽기	장문독해	장문(3문항)	2	O
45	읽기	장문독해	장문(3문항)	2	O

## 나의 오답 문항

고3 2019년 06월 평가원 영어 29번

이게 바로 핵심이야!

왜 틀렸지?

이것만은 기억하자!

## 문제

§ 세부단원정보 : 읽기 | 어법 | 글의 구조

CH1906-29

001 다음 글의 밑줄 친 부분 중, 어법상 틀린 것은? [3점]

An interesting aspect of human psychology is that we tend to like things more and find them more ① appealing if everything about those things is not obvious the first time we experience them. This is certainly true in music. For example, we might hear a song on the radio for the first time that catches our interest and ② decide we like it. Then the next time we hear it, we hear a lyric we didn't catch the first time, or we might notice ③ what the piano or drums are doing in the background. A special harmony ④ emerges that we missed before. We hear more and more and understand more and more with each listening. Sometimes, the longer ⑤ that takes for a work of art to reveal all of its subtleties to us, the more fond of that thing — whether it's music, art, dance, or architecture — we become.

\*subtleties: 중요한 세부 요소[사항]들

§ 출전 : 고3 2011년 수능 영어 20번

## 002

다음 글의 밑줄 친 부분 중, 어법상 틀린 것은?

The word ‘courage’ takes on added meaning if you keep in mind that it is derived from the Latin word ‘cor’ ① meaning ‘heart.’ The dictionary defines courage as a ‘quality which enables one to pursue a right course of action, through ② which one may provoke disapproval, hostility, or contempt.’ Over 300 years ago La Rochefoucauld went a step further when he said: “Perfect courage is to do unwitnessed what we should be capable of doing before all men.” It is not easy ③ to show moral courage in the face of either indifference or opposition. But persons who are daring in taking a wholehearted stand for truth often ④ achieving results that surpass their expectations. On the other hand, halfhearted individuals are seldom distinguished for courage even when it involves ⑤ their own welfare. To be courageous under all circumstances requires strong determination.

\* provoke: 유발하다

§ 출전 : 고3 2010년 수능 영어 22번

## 003

다음 글의 밑줄 친 부분 중, 어법상 틀린 것은?

While manned space missions are more costly than unmanned ① ones, they are more successful. Robots and astronauts use ② much of the same equipment in space. But a human is much more capable of operating those instruments correctly and ③ to place them in appropriate and useful positions. Rarely ④ is a computer more sensitive and accurate than a human in managing the same geographical or environmental factors. Robots are also not equipped with capabilities like humans to solve problems ⑤ as they arise, and they often collect data that are unhelpful or irrelevant.

## 나의 오답 문항

고3 2019년 06월 평가원 영어 30번

이게 바로 핵심이야!

왜 틀렸지?

이것만은 기억하자!

## 문제

§ 세부단원정보 : 읽기 | 세부내용파악 | 어휘 추론

CH1906-30

004 다음 글의 밑줄 친 부분 중, 문맥상 낱말의 쓰임이 적절하지 않은 것은?

Sometimes the awareness that one is distrusted can provide the necessary incentive for self-reflection. An employee who ① realizes she isn't being trusted by her co-workers with shared responsibilities at work might, upon reflection, identify areas where she has consistently let others down or failed to follow through on previous commitments. Others' distrust of her might then ② forbid her to perform her share of the duties in a way that makes her more worthy of their trust. But distrust of one who is ③ sincere in her efforts to be a trustworthy and dependable person can be disorienting and might cause her to doubt her own perceptions and to distrust herself. Consider, for instance, a teenager whose parents are ④ suspicious and distrustful when she goes out at night; even if she has been forthright about her plans and is not ⑤ breaking any agreed-upon rules, her identity as a respectable moral subject is undermined by a pervasive parental attitude that expects deceit and betrayal.

\*forthright: 솔직한, 거리낌 없는 \*\*pervasive: 널리 스며 있는



§ 출전 : 고3 2012년 수능 영어 30번

005 다음 글의 밑줄 친 부분 중, 문맥상 낱말의 쓰임이 적절하지 않은 것은?

Researchers have suggested that maintaining good social relations depends on two ① complementary processes: being sensitive to the needs of others and being motivated to make amends or pay compensation when a violation does occur. In short, maintaining good social relations depends on the ② capacity for guilt. Martin L. Hoffman, who has focused on the guilt that comes from harming others, suggests that the motivational basis for this guilt is empathetic distress. Empathetic distress occurs when people ③ deny that their actions have caused harm or pain to another person. Motivated by feelings of guilt, they are ④ inclined to make amends for their actions. Making amends serves to repair damaged social relations and ⑤ restore group harmony.

§ 출전 : 고3 2013년 수능 영어B형 28번

006 다음 글의 밑줄 친 부분 중, 문맥상 낱말의 쓰임이 적절하지 않은 것은? [3점]

When people started to plant stored seed stock deliberately, they also began protecting their plants. This changed the evolutionary ① pressure that these food plants experienced, as they no longer had to survive in a natural environment. Instead, people created a new environment for them, and selected for other characteristics than nature previously had. Seeds recovered at archaeological sites clearly show that farmers selected for larger seeds and ② thinner seed coats. Thick seed coats are often ③ essential for seeds to survive in a natural environment because the seeds of many wild plants remain dormant for months until winter is over and rain sets in. But under human management thick seed coats are unnecessary, as farmers ④ evade responsibility for storing seeds away from moisture and predators. In fact, seeds with thinner coats were ⑤ preferred as they are easier to eat or process into flour, and they allow seedlings to sprout more quickly when sown.

## 나의 오답 문항

고3 2019년 06월 평가원 영어 33번

이게 바로 핵심이야!

왜 틀렸지?

이것만은 기억하자!

## 문제

§ 세부단원정보 : 읽기 | 빈칸추론 | 빈칸3(절)

CH1906-33

007 Digital technology accelerates dematerialization by hastening the migration from products to services. The liquid nature of services means they don't have to be bound to materials. But dematerialization is not just about digital goods. The reason even solid physical goods — like a soda can — can deliver more benefits while inhabiting less material is because their heavy atoms are substituted by weightless bits. The tangible is replaced by intangibles — intangibles like better design, innovative processes, smart chips, and eventually online connectivity — that do the work that more aluminum atoms used to do. Soft things, like intelligence, are thus embedded into hard things, like aluminum, that make hard things behave more like software. Material goods infused with bits increasingly act as if \_\_\_\_\_. Nouns morph to verbs. Hardware behaves like software. In Silicon Valley they say it like this: "Software eats everything." [3점]

\*morph: 변화하다

- ① they were intangible services
- ② they replaced all digital goods
- ③ hardware could survive software
- ④ digital services were not available
- ⑤ software conflicted with hardware

§ 출전 : 고3 2016년 수능 영어 33번

008 다음 빈칸에 들어갈 말로 가장 적절한 것을 고르시오.

Grief is unpleasant. Would one not then be better off without it altogether? Why accept it even when the loss is real? Perhaps we should say of it what Spinoza said of regret: that whoever feels it is “twice unhappy or twice helpless.” Laurence Thomas has suggested that the utility of “negative sentiments” (emotions like grief, guilt, resentment, and anger, which there is seemingly a reason to believe we might be better off without) lies in their providing a kind of guarantee of authenticity for such dispositional sentiments as love and respect. No occurrent feelings of love and respect need to be present throughout the period in which it is true that one loves or respects. One might therefore sometimes suspect, in the absence of the positive occurrent feelings, that \_\_\_\_\_. At such times, negative emotions like grief offer a kind of testimonial to the authenticity of love or respect. [3점]

\* dispositional: 성향적인 \*\* testimonial: 증거

- ① one no longer loves
- ② one is much happier
- ③ an emotional loss can never be real
- ④ respect for oneself can be guaranteed
- ⑤ negative sentiments do not hold any longer

§ 출전 : 고3 2014년 09월 평가원 영어 31번

009 다음 빈칸에 들어갈 말로 가장 적절한 것을 고르시오.

Not all interesting discoveries have an obvious application. If you believe you have something, but you're not sure what exactly it's going to be good for, don't give up. Many innovations languished in labs for years until they were \_\_\_\_\_. Teflon, an extremely slippery synthetic substance employed as a coating on cooking utensils, was invented in 1938, but it didn't coat its first pan till 1954. The Post-it note was built on the back of some not-very-good glue. Its inventor believed it might have value, but it took him five years to find a potentially profitable use for it. HP had a breakthrough with a super-accurate thermometer that was created in the HP Labs. Despite its accuracy, there was no clear use for the device until it was used to measure fluctuations in ocean temperature. [3점]

\* languish: 시들해지다

- ① replaced by new ones
- ② matched to a product
- ③ backed up by a theory
- ④ found to be eco-friendly
- ⑤ tested for their accuracy

## 나의 오답 문항

고3 2019년 06월 평가원 영어 34번

이게 바로 핵심이야!

왜 틀렸지?

이것만은 기억하자!

## ☰ 문제

§ 세부단원정보 : 읽기 | 빈칸추론 | 빈칸3(절)

CH1906-34

010 Not all Golden Rules are alike: two kinds emerged over time. The negative version instructs restraint; the positive encourages intervention. One sets a baseline of at least not causing harm; the other points toward aspirational or idealized beneficent behavior. While examples of these rules abound, too many to list exhaustively, let these versions suffice for our purpose here: “What is hateful to you do not do to another” and “Love another as yourself.” Both versions insist on caring for others, whether through acts of omission, such as not injuring, or through acts of commission, by actively intervening. Yet while these Golden Rules encourage an agent to care for an other, they \_\_\_\_\_. The purposeful displacement of concern away from the ego nonetheless remains partly self-referential. Both the negative and the positive versions invoke the ego as the fundamental measure against which behaviors are to be evaluated. [3점]

\*an other: 타자(他者)

- ① do not lead the self to act on concerns for others
- ② reveal inner contradiction between the two versions
- ③ fail to serve as a guide when faced with a moral dilemma
- ④ do not require abandoning self-concern altogether
- ⑤ hardly consider the benefits of social interactions

§ 출전 : 고3 2013년 10월 학력평가 영어B형 32번

011 다음 빈칸에 들어갈 말로 가장 적절한 것을 고르시오.

Some social critics would argue that the move toward an increasingly isolated individualism had been underway for some time — at least since the middle of the twentieth century, when psychoanalysis had infused the ideal of individual self-making with a new psychological component. Emotional well-being, the subjective experience of happiness, and the pursuit of pleasure, rather than, say, the accumulation of wealth, community involvement, and moral virtue, began to be equated with success. This focus on self-fulfillment constituted a departure from the traditional criteria for evaluating success. While the self-made man of the nineteenth and early-twentieth centuries aimed to achieve success in terms that were largely external and measurable (for example, accumulation of wealth, status, or power), late-twentieth century self-making involves the pursuit of the rather more elusive and variable state of self-fulfillment. With the emergence of an emphasis on self-fulfillment, one finds there is no end-point for self-making: individuals can \_\_\_\_\_. [3점]

\* infuse: 주입하다, 불어넣다

- ① see the world in a more conservative perspective
- ② contribute to the preservation of traditional cultures
- ③ help their team reach the common goals in a proper way
- ④ compete against other strong opponents for the top positions
- ⑤ continuously pursue shifting and subjective criteria for success

§ 출전 : 고3 2016년 수능 영어 32번

012 다음 빈칸에 들어갈 말로 가장 적절한 것을 고르시오.

Temporal resolution is particularly interesting in the context of satellite remote sensing. The temporal density of remotely sensed imagery is large, impressive, and growing. Satellites are collecting a great deal of imagery as you read this sentence. However, most applications in geography and environmental studies do not require extremely fine-grained temporal resolution. Meteorologists may require visible, infrared, and radar information at sub-hourly temporal resolution; urban planners might require imagery at monthly or annual resolution; and transportation planners may not need any time series information at all for some applications. Again, the temporal resolution of imagery used should \_\_\_\_\_. Sometimes researchers have to search archives of aerial photographs to get information from that past that pre-date the collection of satellite imagery. [3점]

\* meteorologist : 기상학자 \*\* infrared: 적외선의

- ① be selected for general purposes
- ② meet the requirements of your inquiry
- ③ be as high as possible for any occasion
- ④ be applied to new technology by experts
- ⑤ rely exclusively upon satellite information

## 나의 오답 문항

고3 2019년 06월 평가원 영어 42번

이게 바로 핵심이야!

왜 틀렸지?

이것만은 기억하자!

## 문제

§ 세부단원정보 : 읽기 | 장문독해 | 장문(2문항)

Aristotle did not think that all human beings should be allowed to engage in political activity: in his system, women, slaves, and foreigners were explicitly (a) excluded from the right to rule themselves and others. Nevertheless, his basic idea that politics is a unique collective activity that is directed at certain (b) common goals and ends still resonates today. But which ends? Many thinkers and political figures since the ancient world have developed different ideas about the goals that politics can or should achieve. This approach is known as political moralism.

For moralists, political life is a branch of ethics — or moral philosophy — so it is (c) unsurprising that there are many philosophers in the group of moralistic political thinkers. Political moralists argue that politics should be directed toward achieving substantial goals, or that political arrangements should be organized to (d) protect certain things. Among these things are political values such as justice, equality, liberty, happiness, fraternity, or national self-determination. At its most radical, moralism produces descriptions of ideal political societies known as Utopias, named after English statesman and philosopher Thomas More's book *Utopia*, published in 1516, which imagined an ideal nation. Utopian political thinking dates back to the ancient Greek philosopher Plato's book the *Republic*, but it is still used by modern thinkers such as Robert Nozick to explore ideas. Some theorists consider Utopian political thinking to be a (e) promising undertaking, since it has led in the past to justifications of totalitarian violence. However, at its best, Utopian thinking is part of a process of striving toward a better society, and many thinkers use it to suggest values to be pursued or protected.

\*resonate: 공명하다, 울리다 \*\*fraternity: 동포애, 우애

CH1906-42B

013 밑줄 친 (a)~(e) 중에서 문맥상 낱말의 쓰임이 적절하지 않은 것은? [3점]

- ① (a)                  ② (b)                  ③ (c)                  ④ (d)                  ⑤ (e)

## 유사문제

다음 글을 읽고, 물음에 답하시오.

By the turn of the twentieth century, the permanent repertoire of musical classics dominated almost every field of concert music, from piano, song, or chamber music recitals to operas and orchestral concerts. The (a) change from a century before was enormous. In the eighteenth century, performers and listeners demanded new music all the time, and “ancient music” included anything written more than twenty years earlier. But musicians and audiences in the early 1900s (b) expected that most concert music they performed or heard would be at least a generation old, and they judged new music by the standards of the classics already enshrined in the repertoire. In essence, concert halls and opera houses had become museums for displaying the musical artworks of the past two hundred years. The repertoire varied according to the performing medium and from region to region, but the core was largely the (c) same throughout most of Europe and the Americas, including operas and operatic excerpts from Mozart through Verdi, Wagner, and Bizet; orchestral and chamber music from Haydn through the late Romantics; and keyboard music by J. S. Bach, Haydn, Mozart, Beethoven, and prominent nineteenth-century composers.

Living composers increasingly found themselves in competition with the music of the past. This is the great theme of modern music in the classical tradition, especially in the first half of the century: in competing with past composers for the attention of performers and listeners who (d) disregarded the classical masterworks, living composers sought to secure a place for themselves by offering something new and distinctive while continuing the tradition. They combined individuality and innovation with emulation of the past, seeking to write music that would be considered original and worthy of performance alongside the masterworks of (e) earlier times.

\*enshrine: 소중히 하다 \*\*excerpt: 발췌곡 \*\*\*emulation: 경쟁, 모방

§ 출전 : 고3 2018년 06월 평가원 영어 41번

014 윗글의 제목으로 가장 적절한 것은?

- ① Increasing the Gap Between Composers and Listeners
- ② Within or Beyond Classical Music Heritage
- ③ Classical Music: Healing the World
- ④ Lost in the Past: The End of Masterpieces
- ⑤ Classical Composition in the Nineteenth Century

§ 출전 : 고3 2018년 06월 평가원 영어 42번

015 밑줄 친 (a)~(e) 중에서 문맥상 낱말의 쓰임이 적절하지 않은 것은? [3점]

- ① (a)                      ② (b)                      ③ (c)                      ④ (d)                      ⑤ (e)



NOTEPLY™

# 정답과 해설

응답하라. 나의 수능 - 나를 알아주는 최적의 학습 시스템

[www.noteply.co.kr](http://www.noteply.co.kr)

1 정답 ⑤

[출제 의도] 어법상 틀린 표현 고르기

[해석]

인간 심리의 흥미로운 일면은, 우리가 처음으로 어떤 것들을 경험할 때 그것들에 대한 모든 것이 분명하지는 않은 경우에 그것들을 더 좋아하고 그것들이 더 매력적이라고 생각하는 경향이 있다는 것이다. 이것은 음악에 있어서 분명히 사실이다. 예를 들어 우리는 라디오에서 우리의 관심을 끄는 노래를 처음 듣고, 그 노래가 마음에 든다고 결정을 내릴 수 있다. 그리고 나서 다음에 그것을 들을 때, 우리는 처음에 알아차리지 못한 가사를 듣거나, 배경에서 피아노나 드럼이 무엇을 하고 있는지 알아챌 수 있다. 우리가 전에 놓쳤던 특별한 화음이 나타난다. 우리는 점점 더 많은 것을 듣게 되고, 매번 들을 때마다 점점 더 많이 이해하게 된다. 때때로 예술 작품이 우리에게 그것의 중요한 세부 요소들을 모두 드러내는 데 걸리는 시간이 길어질수록, 그것이 음악이든, 미술이든, 춤이든, 또는 건축이든 간에 우리는 그것을 더 좋아하게 된다.

[풀이]

⑤ ‘~가 ...하는 데 (시간)이 걸리다’라는 의미의 「it takes 시간 for ~ to do」에서 시간에 해당하는 표현인 long이 앞으로 나가 「the 비교급, the 비교급」의 일부를 이룬 것이므로 that을 it으로 바꿔야 한다.

① 「find+목적어+목적격 보어」의 구조에서 목적격 보어로 쓰인 형용사 appealing은 적절하다.

② decide we like it은 hear a song on the radio for the first time that catches our interest와 and로 연결되어 might에 이어지므로, 동사원형 decide는 적절하다.

③ what은 notice의 목적어로 쓰인 명사절을 이끌고 있으므로 적절하다.

④ A special harmony를 주어로 하는 동사 emerges는 적절하다. 뒤에 이어지는 that we missed before는 A special harmony를 수식하는 관계절이다.

[Words and Phrases]

tend to do ~하는 경향이 있다 appealing 매력적인 obvious 분명한, 명백한 lyrics 가사 emerge 나타나다 fond of ~을 좋아하는

2 ④

해 석

용기라는 말이 심장을 뜻하는 라틴어의 cor에서 파생되었다는 것을 기억한다면, 그 말은 추가되는 의미를 지닌다. 사전은 용기를 불찬성이나, 적의, 또는 경멸을 유발할 수도 있는 올바른 행동의 과정을 추구하게 되는 특질로 정의한다. 300년보다 이전에 La Rochefoucauld는 그가 완전한 용기는 모든 사람 앞에서 당신이 할 수 있는 것을 아무도 보지 않는데서 하는 것이다. 라고 말했을 때 한 걸음 더 나갔다. 무관심이나 반대에 직면하여 도덕적

용기를 보여주는 것이 쉽지는 않다. 그러나 진리를 위한 진심 어린 입장을 취하는 것에 대담한 사람들은 종종 그들의 기대를 능가하는 결과를 성취한다. 반면에, 마지못해 하는 개인들은 그것이 그들 자신의 이익과 연관이 있을 때조차도 용기가 두드러지지 않는다. 모든 상황에서 용감하게 되는 것은 강한 결단력을 필요로 한다.

해 설

① 앞에 있는 ‘cor’를 수식하는 분사로의 쓰임으로 옳은 표현이다. ② 전치사 through 의 목적어 역할을 하는 표현으로 관계대명사 형태가 쓰이는 것이 옳은 표현이다. ③ 주어 It 에 대한 진주어로 쓰인 부정사 to show로 옳은 표현이다. ④ 문장에서 주어인 persons을 받는 정동사가 필요한 구조이므로 achieving은 achieve로 바꾸어야 한다. ⑤ individuals을 받는 구조로 복수형인 their의 표현은 옳은 표현이다. 따라서 정답으로 ④번이 가장 적절하다.

어 휘

disapproval 불찬성 | indifference 무관심 | wholehearted 성심성의를 | half-hearted 마음이 내키지 않는 | distinguished 눈에 띄는 | determination 결단력

3 [정답] ③

[해석]

무인 우주 임무보다 유인 우주 임무가 비용이 더 많이 들기는 하지만, 그것들은 더 성공적이다. 로봇과 우주 비행사는 우주 공간에서 거의 똑같은 장비를 사용한다. 하지만 인간은 그러한 도구들을 올바르게 조작하고 그것들을 적절하고 유용한 위치에 설치하는데 있어서 훨씬 더 많은 능력을 지니고 있다. 컴퓨터는 동일한 지역적인 혹은 환경적인 요소들을 관리하는 데 있어서 인간보다 민감하지도 못하며 정확하지도 않다. 로봇은 또한 문제가 발생할 때에 그것을 해결할 수 있는 능력이 인간처럼 갖추어져 있지 않으며, 종종 도움이 되지 못하거나 부적절한 자료들을 수집하기도 한다.

[풀이]

접속사 and가 operating과 placing을 연결해 주는 구조가 되어야 어법상 옳다. 따라서 ③ ‘to place’를 ‘placing’으로 바꾸어야 한다.

[Words and Phrases]

manned 사람이 탑승한 astronaut 우주 비행사 operate 작동하다, 조작하다 appropriate 적절한 sensitive 민감한 geographical 지리적인 capability 능력 irrelevant 부적절한

#### 4 정답 ②

[출제 의도] 어휘의 적절성 파악

[해석]

때로는 신임을 얻지 못한다는 인식이 자기 성찰에 필요한 동기를 제공할 수 있다. 직장에서 자신의 동료들이 공유된 책무를 자신에게 (믿고) 맡기지 않고 있다는 사실을 깨달은 직원은 성찰을 통해 자신이 지속적으로 다른 사람들을 실망하게 했거나 이전의 약속들을 이행하지 못했던 분야를 찾아낼 수 있다. 그러면 그녀에 대한 다른 사람들의 불신은, 그녀가 그들의 신임을 받을 만한 자격이 더 생기게 해 주는 방식으로 그녀가 직무의 자기 몫을 수행하지 못하게 할(→하도록 동기를 부여할) 수 있다. 하지만 신뢰할 만하고 믿을 만한 사람이 되려는 노력을 성실하게 하는 사람에 대한 불신은 혼란스럽게 할 수 있고, 그녀로 하여금 자신의 인식을 의심하고 자신을 불신하게 할 수 있다. 예를 들어 밤에 외출할 때 의심하고 믿지 않는 부모를 가진 십 대 소녀를 생각해 보라. 비록 그녀가 자신의 계획에 대해 솔직해 왔고 합의된 규칙은 어떤 것도 어기고 있지 않을지라도, 존경할 만한 도덕적 주체로서의 그녀의 정체성은 속임수와 배신을 예상하는 널리 스며 있는 부모의 태도에 의해 손상된다.

[풀이]

자신에 대한 타인의 불신은 자기 성찰로 이어져 타인의 신임을 받을 만한 자격이 더 생기도록 행동하게 한다고 했으므로, ②의 forbid를 motivate 정도의 단어로 바꾸어야 한다.

[Words and Phrases]

self-reflection 자기 성찰 identify 찾다, 발견하다 consistently 지속적으로 let down ~을 실망하게 하다 follow through on ~을 이행하다 commitment 약속, 전념 disorienting 혼란스럽게 하는 perception 인식 suspicious 의심하는 agreed-upon 합의된 undermine 손상시키다 deceit 속임수 betrayal 배신

#### 5 [정답] ③

해 석

연구자들은 사회적으로 좋은 관계를 유지하는 것이 두 가지 상호보완적인 과정, 즉 타인의 요구에 민감한 것과 위반 행위가 정말로 생기면 보상이나 배상이 가능하도록 자극을 받는 것에 달려있다는 점을 언급해왔다. 요약하면, 좋은 사회적 관계를 유지하는 것은 죄책감에 대한 수용 능력에 달려 있다. Martin L. Hoffman은, 타인에게 해를 입히면 생기는 죄책감에 초점을 맞춰왔는데, 그는 이러한 죄책감에 대해 동기가 유발되는 기반은 고통의 공감이라고 시사한다. 고통의 공감은 자신들의 행동이 다른 사람에게 손해나 고통을 일으켰음을 부인할(→ 깨달을) 때 생긴다. 죄책감으로 인해 자극을 받을 때, 사람들은 자신의 행동에 대해 보상을 하려는 경향이 있다. 보상하는 것은 손상된 사회적 관계를 회복하고 집단의

화합을 복원하는 역할을 한다.

해 설

좋은 사회적 관계를 유지하는 것은 죄책감에 대한 수용 능력에 달려있다는 것을 말하는 내용으로, 공감적 고통은 자신의 행동이 다른 사람들에게 손해나 고통을 안겨 주었음을 깨달았을 때 생길 수 있는 것으로 ③번의 'deny'는 realize로 고쳐져야 하므로 정답으로 ③번이 가장 적절하다.

어 휘

amend 개정, 수정 | empathetic 공감적인 | distress 고통, 비난

#### 6 [정답] ④

[해석]

사람들이 저장된 씨앗 종자를 의도적으로 심기 시작했을 때 그들은 또한 자신들의 식물을 보호하기 시작했다. 이것은 이들 식용식물이 더 이상 자연환경 속에서 살아남아야 할 필요성이 없어지면서 그것들이 경험한 진화적 압박을 변화시켰다. 대신에, 사람들은 그것들을 위한 새로운 환경을 창조했고, 자연이 이전에 선택한 것과는 다른 특징들을 선택했다. 고고학적 현장에서 발굴된 씨앗들은 농부들이 더 큰 씨앗과 더 얇은 껍질을 선택했다는 것을 명백히 보여준다. 두꺼운 껍질은 흔히 씨앗이 자연환경에서 생존하는 데 필수적인데 (그것은) 많은 야생 식물의 씨앗이 겨울이 끝나고 비가 오기 시작할 때까지 여러 달을 휴면 상태로 남아 있어야 하기 때문이다. 하지만 인간의 관리 하에서 두꺼운 씨앗 껍질은 불필요한데, (그것은) 농부들이 수분과 포식자로부터 씨앗을 보호하여 저장하는 책임을 피하기(→넘겨받기) 때문이다. 사실, 더 얇은 껍질을 가진 씨앗은 그것이 먹거나 가루로 가공하기가 더 수월하고 파종되었을 때 묘목이 더 빠르게 발아하기 때문에 선호되었다.

해 설

씨앗이 두꺼운 껍질을 가지고 있는 것은 자연환경에서 생존하기 위한 조건이었다. 하지만 인간이 씨앗을 관리하기 시작하면서 씨앗의 껍질이 얇아진다는 것을 말하는 내용이다. ④번 이후의 “~ responsibility for storing seeds away ~” 라는 문장을 통하여 씨앗을 관리하는 책임을 인

간이 가지고 있음을 말하고 있다. 따라서 ④번은 “책임감을 갖다” 라는 의미의 take over 가 쓰여야 한다.

## 어휘

archaeological 고고학의 | dormant 휴지한, 잠자는 | moisture 습기, 수분 | predator 약탈자, 포식자

## 7 정답 ①

[출제 의도] 빈칸 추론

[해석]

디지털 기술은 제품에서 서비스로의 이동을 촉진함으로써 비물질화를 가속한다. 서비스의 유동적인 특성은 그것들이 물질에 얽매일 필요가 없다는 것을 의미한다. 그러나 비물질화는 단지 디지털 상품에 관련된 것만은 아니다. 탄산음료 캔과 같은, 고체의 물리적 상품조차도 더 적은 양의 물질을 가지고 있으면서도 더 많은 이익을 내놓을 수 있는 이유는 그것들의 무거운 원자가 무게가 없는 비트로 대체되기 때문이다. 유형의 것들은 더 많은 알루미늄 원자들이 하던 일을 하는 무형의 것들, 즉 더 나은 설계, 혁신적인 과정, 스마트 칩, 그리고 궁극적으로 온라인 연결성 등에 의해 대체된다. 따라서 지능과 같이 부드러운 것들이 알루미늄과 같은 단단한 물건에 삽입되어서, 딱딱한 물건들을 더 소프트웨어처럼 작용하게 만든다. 비트가 주입된 물질적 상품들은 점점 마치 그것들이 무형의 서비스인 것처럼 행동한다. 명사가 동사로 변한다. 하드웨어가 소프트웨어처럼 동작한다. Silicon Valley에서 사람들은 이렇게 말한다. “소프트웨어가 모든 것을 먹는다.”

[풀이]

물질을 더 나은 설계, 혁신적인 과정, 스마트 칩, 온라인 연결성 등의 무형의 것들로 대체하여 물질이 하던 일이 서비스로 바뀌어 비물질화가 이루어지고 있다는 내용의 글이므로, 빈칸에 들어갈 말로 가장 적절한 것은 ①이다.

- ② 그것들이 모든 디지털 상품들을 대체하는
- ③ 하드웨어가 소프트웨어보다 더 오래 존속할 수 있는
- ④ 디지털 서비스가 사용될 수 없는
- ⑤ 소프트웨어가 하드웨어와 충돌하는

[Words and Phrases]

accelerate 가속하다 dematerialization 비물질화 migration 이동 liquid 유동적인 inhabit ~을 차지하다, 가지다 substitute 대체하다 tangible 유형의 connectivity 연결성, 접속 가능성 embed 삽입하다, 끼워 넣다

## 8 정답: ①

[출제 의도] 빈칸 추론

[해석]

슬픔은 불유쾌하다. 그렇다면 그것이 완전히 없는 상태라면 더 행복하지 않을까? 손해를 보는 것이 확실한데도

왜 그것을 받아들이는가? 아마도 우리는 스피노자가 후회에 대해 이야기한 말, 즉 누구든지 그것을 느끼는 자는 ‘두 배 불행하거나 두 배 무기력하다’는 말을 그것에 대해 이야기해야 할 것이다. Laurence Thomas는 ‘부정적인 감정’(없으면 우리가 더 행복할 것이라고 믿을 이유가 있어 보이는 감정들인 슬픔, 죄책감, 분개함, 분노와 같은 감정들)의 유용성이 그것들이 사랑과 존경심과 같은 그런 성향적인 감정에 대한 일종의 진실성을 보장해 준다는 점에서 찾을 수 있다는 것을 암시했다. 그 어떤 현재 일어나고 있는 사랑과 존경의 감정도 사랑하거나 존경하는 것이 사실인 그 기간 동안 줄곧 존재할 필요는 없다(존재할 수는 없다). 그러므로 때때로 현재 일어나고 있는 긍정적인 감정이 없는 상태에서 더 이상 사랑하지 않는다고 의심을 하게 될 것이다. 그러한 때에, 슬픔과 같은 부정적인 감정이 사랑과 존경심의 진실성에 대한 일종의 증거를 제공한다.

[풀이]

사랑과 존경과 같은 긍정적인 감정의 진실성을 확인해주는 데서 슬픔, 죄책감, 분개함, 분노와 같은 부정적인 감정의 유용성을 찾을 수 있다는 내용의 글이므로 빈칸에 들어갈 말로 ①이 가장 적절하다.

- ② 훨씬 더 행복하다고
- ③ 감정적 손실은 결코 실제일 수 없다고
- ④ 자신에 대한 존경이 보장될 수 있다고
- ⑤ 부정적인 감정이 더 이상 유지되지 않는다고

[Words and Phrases]

grief 슬픔 better off 더 행복한, 형편이 더 나은 sentiment 감정, 정서 resentment 분개함 guarantee 보장 authenticity 진실성, 진짜임 occurrent 현재 일어나고 있는, 우연의

## 9 [정답] ②

[출제 의도] 빈칸 추론

[해석]

흥미로운 발견이 모두 다 명백한 적용성을 가지고 있는 것은 아니다. 무언가를 가지고 있다고 확신하지만, 그것이 정확히 무엇에 유용할지 잘 모른다 해도, 포기하지 마라. 많은 혁신 제품들이 수년 동안 실험실에서 시들해져 있다가 상품으로 연결되었다. 조리 기구의 코팅 막으로 쓰이는 매우 미끈거리는 합성 물질인 Teflon은 1938년에 발명되었지만 1954년이 되어서야 첫 번째 (프라이) 팬에 코팅 막을 씌웠다. Post-it 메모장은 성능이 별로 좋지 않은 어떤 풀의 결과를 바탕으로 만들어졌다. 그것의 발명가는 그것이 가치가 있을 수 있다고 믿었지만, 그것의 잠재적 수익 용도를 찾는 데 5년이 걸렸다. HP는 HP 실험실에서 만들어진 초정밀 온도계로 획기적 발전을 이룩했다. 정확성에도 불구하고 해수 온도의 변화를 측정하는 데 사용될 때까지 그 장비에 대한 분명한 용도가 없었다.

[풀이]

빈칸 뒤에 이어지는 글에서 발명되었다가 오랜 시간이 지난 후에야 상품으로 연결된 사례들을 제시하고 있으므로 ② ‘상품으로 연결되었다’가 빈칸에 들어갈 말로 가장 적절하다. ① 새로운 것들로 대체되었다

③ 이론에 의해 뒷받침되었다

④ 친환경적인 것으로 밝혀졌다

⑤ 정확성에 대한 테스트를 받았다

[Words and Phrases]

obvious 명백한, 분명한 application 적용(성), 응용(성) innovation (복수형으로) 혁신적인 것, 혁신 match 연결시키다 slippery 미끈거리는, 미끄러운 synthetic 합성한, 인조의 substance 물질, 본질 cooking utensil 조리 기구 coat 코팅 막을 씌우다, 테를 두르다 on the back of ~의 결과를 바탕으로, ~의 결과로 potentially 잠재적으로 profitable 수익성이 있는 breakthrough 획기적 발전, 돌파구 super-accurate 초정밀의, 매우 정확한 thermometer 온도계 fluctuation 변화, 변동, 오르내림

10 정답 ④

[출제 의도] 빈칸 추론

[해석]

모든 황금률이 다 같은 것은 아니다. 시간이 지나면서 두 종류가 나타났다. 부정적인 버전은 자제를 지시하고, 긍정적인 버전은 개입을 장려한다. 하나는 최소한 해를 끼치지 않는 기준선을 설정하고, 다른 하나는 영원하거나 이상화된 선행을 베푸는 행위를 가리킨다. 이러한 규칙의 예는 많아서, 너무 많아서 남김없이 열거할 수 없을 정도지만, 여기서는 우리의 목적을 위해 다음의 버전, 즉 “자신이 싫은 것은 다른 사람에게 행하지 말라.”와 “타인을 자신처럼 사랑하라.”로 충분한 것으로 하자. 해치지 않는 것과 같은 부작용을 통해서든, 아니면 적극적으로 개입함에 의한 부작용을 통해서든, 이 두 버전은 모두 다른 사람을 배려할 것을 주장한다. 그러나 이러한 황금률이 행위자에게 타자를 배려하도록 권장하는 반면, 그것들은 자신에 대해 마음 쓰는 것을 완전히 버리는 것을 요구하지는 않는다. 의도적으로 관심을 자아로부터 멀어지도록 옮긴다 해도, 그럼에도 불구하고 부분적으로는 자신을 가리키는 상태로 남아 있다. 부정적인 버전과 긍정적인 버전은 둘 다 행동 평가의 기준이 되는 본질적인 척도로서 자아를 언급한다.

[풀이]

황금률의 긍정적인 버전이든 부정적인 버전이든 모두 타인을 배려할 것을 권하고 있지만, 그렇다고 해서 자신에 대해 마음을 쓰는 것이 완전히 없어지는 것은 아니라 오히려 그것이 행동을 평가하는 척도의 역할을 한다는 내용이 빈칸 뒤에 이어지고 있으므로, 빈칸에 들어갈 말로 가장 적절한 것은 ④이다.

① 자아로 하여금 다른 사람들을 염려하여 행동하게 하

지 않는다

② 두 버전 사이의 내적 모순을 드러내다

③ 도덕적 딜레마에 직면했을 때 지침으로서의 역할을 하지 못하다

⑤ 사회적 상호 작용의 이점을 거의 고려하지 않는다

[Words and Phrases]

emerge 나타나다 restraint 자제 intervention 개입 aspirational 염원하는 beneficent 선행을 베푸는 abound 많이 존재하다, 풍부하다 exhaustively 남김없이 suffice 충분하다 omission 부작용, 누락 commission 작위, 저지름 displacement 옮김, 이동 self-referential 자신을 가리키는, 자기 지시적인 invoke ~ as ... ~을 ...라고 들먹이다[언급하다]

11 [정답] ⑤

해 석

갈수록 고립이 심화되는 개인주의로의 움직임이 한동안 진행되어왔는데, 이러한 현상은 적어도 정신분석학이 개인의 자기 형성이라는 이상에 새로운 심리학적인 요소를 주입하였던 20세기 중반 이래로 진행되어 왔다고 일부 사회 비평가들이 주장하곤 했다. 이를테면, 부의 축적, 지역사회 참여, 그리고 도덕적인 가치보다는 정서적인 행복, 행복의 주관적인 경험, 그리고 쾌락의 추구가 성공과 동일시되기 시작한 것이다. 이러한 자아실현의 집중은 성공을 평가하기 위한 전통적 기준으로부터의 이탈로 여겨졌다. 19세기와 20세기 초에 자수성가한 사람이 (예를 들어, 부의 축적, 지위, 또는 권력과 같은) 대체로 외면적이고 측정 가능한 측면에서 성공을 성취하는 것을 목표로 했던 반면에, 20세기 후반의 자기형성은 상당히 더 규정하기 힘들고 다양한 상태의 자아실현 추구를 포함한다. 자아실현에 대한 강조의 등장과 더불어, 자기형성에는 끝나는 지점이 없다는 것을 우리는 알게 된다. 즉, 사람들은 성공에 대한 변화하는, 주관적인 기준을 계속해서 추구할 수 있다.

해 설

자아실현의 관점 면에서 19세기와 20세기 후반에 의미하는바가 달라졌음을 말하고 있으며 20세기 후반에 자기형성에 끝나는 지점이 없다는 것에 강조점을 두고 있는 내용으로 보아 정답으로 ⑤번이 가장 적절하다.

어 휘

accumulation 축적 | constitute 구성하다 | criteria 기준 | elusive 규정하기 힘든 | emergence 등장, 부각

12 정답: ②

[출제 의도] 빈칸 추론

[해석]

시간적 해상도는 위성의 원격 감지의 맥락에서 특히 흥

미롭다. 원격으로 감지된 사진의 시간적인 밀도는 크고, 인상적이고, 성장하고 있다. 여러분이 이 문장을 읽을 때에도 위성들은 많은 양의 사진을 모으고 있다. 그렇지만, 지리학과 환경 과학 분야에서의 대부분의 응용 프로그램들은 극단적으로 결이 고운 시간적 해상도를 필요로 하지 않는다. 기상학자들은 눈에 보이는, 적외선, 레이더 정보를 한 시간 이내의 주기로 찍은 시간적 해상도로 필요로 할 것이다. 그리고 도시 계획자들은 한 달에 한 번 혹은 일 년에 한 번씩 찍는 해상도의 사진을 필요로 할 것이다. 그리고 교통 계획자들은 어떤 응용 프로그램을 위해서는 어떤 시간적 시차를 두는 일련의 정보를 전혀 필요로 하지 않을 수도 있다. 거기에다가, 사용되는 사진의 시간적 해상도는 여러분이 탐구하는 것의 필요를 충족시켜야 한다. 때로 연구자들은 수집된 위성사진들보다 앞서서 과거의 정보를 얻기 위해서 항공사진의 기록 보관소를 뒤져야만 한다.

[풀이]

연구나 작업의 성격에 따라서 필요한 시간적 주기의 위성사진 자료가 다르며 연구 목적에 따라 과거에 찍은 항공사진이 필요한 경우도 있다는 내용이므로 ②가 빈칸에 들어갈 말로 가장 적절하다.

- ① 일반적인 목적을 위해 선택되어야
- ③ 어떤 경우든 가능한 한 높아야
- ④ 전문가에 의해 신기술에 적용되어야
- ⑤ 오직 위성의 정보에만 의존해야

[Words and Phrases]

temporal 시간의 resolution 해상도 density 밀도 imagery 사진, 화상

application 응용 프로그램 fine-grained 결이 고운 pre-date (시기가) 앞서다

13 정답 ⑤

[출제 의도] 장문(문맥 속의 어휘 추론)

[풀이]

일부 이론가는 유토피아적인 정치사상이 지금까지 전체 주의적인 폭력의 정당화로 이어졌기 때문에 위험한 일로 여긴다는 맥락이므로, (e)의 promising을 '위험한'과 같은 의미를 지닌 dangerous 정도의 단어로 바꿔 써야 한다.

[Words and Phrases]

engage in ~에 종사하다 explicitly 명백히 exclude 배제하다 collective 집단적인 common 공동의 end 목적 political figure 정계 인사 moralism 도덕주의 unsurprising 놀랍지 않은 substantial 실질적인 arrangements 처리 방식 protect 보호하다 national self-determination 민족 자결권 radical 근본적인, 급진적인 description 묘사, 설명 undertaking 일, 사업 justification 정당화 totalitarian 전체주의적인 strive 노력하다 pursue 추구하다

14 정답 ②

[해석]

20세기로 바뀔 무렵, 음악 고전 작품의 영구적인 레퍼토리가, 피아노, 성악, 실내악 연주에서부터 오페라와 오케스트라의 연주회에 이르기까지 콘서트 음악의 거의 모든 분야를 지배했다. 한 세기 이전으로부터의 변화는 엄청났다. 18세기에, 연주자들과 청중들은 항상 새로운 음악을 요구했는데, '고대 음악'에는 작곡된 지 20년이 넘은 음악은 무엇이든 포함되었다. 그러나 1900년대 초반의 음악가들과 청중들은 자신들이 연주하거나 듣는 대부분의 콘서트 음악이 최소한 나온 지 삼십 년은 될 것이라고 기대했으며, 그들은 새로운 음악을 이미 레퍼토리에 소중히 간직된 클래식 음악의 기준으로 평가했다. 본질적으로, 콘서트홀과 오페라 하우스는 지난 200년 동안의 음악 작품들을 보여 주기 위한 박물관이 되어 버렸다. 연주 매체와 지역에 따라 레퍼토리가 다양했지만, 그 핵심은 유럽과 아메리카의 대부분의 지역에서, 모차르트에서 베르디, 바그너, 비제에 이르는 오페라와 오페라 발레곡, 하이든에서 후기 낭만파 음악가에 이르는 오케스트라 음악과 실내 음악, 그리고 J. S. 바흐, 하이든, 모차르트, 베토벤, 그리고 저명한 19세기 작곡가들이 작곡한 건반 음악을 포함하여, 대체로 같았다. 살아있는 작곡가들은 점차로 자신이 과거의 음악과 경쟁하고 있다는 것을 알게 되었다. 이것은, 특히 세기의 전반부에는, 고전 음악의 전통 안에서 현대 음악의 큰 주제였다. 즉, 고전 음악의 걸작들을 무시했던(→ 애호했던) 연주자와 청중의 관심을 얻기 위해서 과거의 작곡가들과 경쟁하면서, 살아있는 작곡가들은 전통을 이어가면서 뭔가 새롭고 독특한 것을 제공함으로써 자신들의 자리를 확보하려고 노력했다. 그들은 개성과 혁신을 과거의 모방과 결합하여, 이전 시대의 걸작들과 나란히 독창적이고 공연할 가치가 있는 것으로 여겨질 음악을 작곡하려고 노력했다.

41. [출제의도] 글의 제목

[풀이]

18세기에는 과거의 음악을 버리고 새로운 음악을 작곡하려고 많은 노력을 했으나, 20세기에는 과거의 고전 음악이 매우 중시되었으며 과거의 전통을 바탕으로 하여 거기에서 자신의 독특한 개성과 혁신을 결합시켜서 음악을 작곡하려고 노력했다는 내용의 글이므로, ② '고전 음악의 유산 안에 머무느냐 혹은 벗어나느냐'가 글의 제목으로 가장 적절하다.

- ① 작곡가와 청중 사이의 거리를 늘리기
- ③ 클래식 음악: 세상을 치유함
- ④ 과거에서 길을 잃다: 걸작의 종말
- ⑤ 19세기의 고전 악곡

15 정답 ④

[출제의도] 문맥상 어휘의 적절성 파악

[풀이]

고전 음악의 전통이 매우 중시되는 분위기에서 작곡가들은 고전 음악의 걸작들을 애호하는 연주자와 청중의 관심을 얻기 위해서 과거의 작곡가들과 경쟁해야 했다고 하는 글의 흐름이므로, 밑줄 친 ㉔의 disregarded(무시했다)를 loved(애호했다) 정도의 말로 고쳐 써야 한다.

[Words and Phrases]

repertoire 레퍼토리, 연주 목록 prominent 저명한  
disregard 무시하다 masterwork 걸작 distinctive 특징  
적인 innovation 혁신

Fit 하는 순간, 오답도 실력이 된다!

고3 2019년 06월 한국사  
오답률 랭킹 5위

이지오답핏







## 나의 오답 문항

고3 2019년 06월 평가원 한국사 4번

이게 바로 핵심이야!

왜 틀렸지?

이것만은 기억하자!

## 문제

§ 세부단원정보 : 고려 귀족사회 형성과 변천 | 고려의 성립과 발전 | 통치체제

001 밑줄 친 '이 제도'를 시행한 국가에서 있었던 사실로 옳은 것은?

이 제도는 관리나 직역 담당자에게 곡물을 수취할 수 있는 전지와 땔감을 얻을 수 있는 시지를 등급에 따라 나누어 주는 토지 제도이다. 경종 때 처음 시행되었으며, 이후 몇 번의 수정을 거쳐 문종 때 완비되었다.

- ① 별기군이 창설되었다.
- ② 2군 6위가 운영되었다.
- ③ 훈련도감이 설치되었다.
- ④ 9서당 10정이 편성되었다.
- ⑤ 한국광복군이 조직되었다.

§ 출전 : 고3 2018년 수능 한국사 4번

002 (가) 국가에서 있었던 사실로 옳은 것은?

11월에 (가)의 수도인 개경에서 팔관회를 열었다. 왕이 신봉루로 나가서 관리들에게 술과 음식을 내리고, 법왕사에 행차하였다. 이튿날 큰 행사를 열고 음악 연주를 관람하였다. …(중략)… 송의 상인과 여진 및 탐라의 사절도 선물을 바치니, 그들에게 좌석을 마련하여 주고 예식을 보게 하였다.

- ① 낙랑과 왜 등에 철이 수출되었다.
- ② 토지 제도로 전시과가 운영되었다.
- ③ 담배를 비롯한 상품 작물이 재배되었다.
- ④ 상평통보가 발행되어 전국적으로 유통되었다.
- ⑤ 황국 중앙 총상회가 상권 수호 운동을 전개하였다.

§ 출전 : 고3 2015년 09월 평가원 한국사 3번

003 (가), (나) 국왕에 대한 설명으로 옳지 않은 것은?

최승로가 (가)께 상소문을 올렸는데, 그 글에 이르기를 “(나)께서 삼한을 통합한 후에 지방관을 파견하려 하였으나, 초창기여서 일이 번거로워 시행할 겨를이 없었습니다. …(중략)… 청컨대 지방관을 두도록 하소서.”라고 하였다.

- ① (가) - 노비안검법을 실시하였다.
- ② (가) - 지방에 12목을 설치하였다.
- ③ (나) - 훈요 10조를 후대 왕들에게 남겼다.
- ④ (나) - 평양을 서경으로 삼아 복진 정책을 추진하였다.
- ⑤ (가), (나) - 지방 호족을 통제하기 위한 정책을 실시하였다.

나의 오답 문항

고3 2019년 06월 평가원 한국사 8번

이게 바로 핵심이야!

왜 틀렸지?

이것만은 기억하자!

문제

§ 세부단원정보 : 국제질서의 변동과 근대국가 수립운동 | 개항 이후 경제·사회의 변화 | 근대문물 수용

004 밑줄 친 ‘최초의 철도’가 개통된 시기를 연표에서 옳게 고른 것은?

**초 청 장**

노량진과 제물포를 잇는 우리나라 최초의 철도가 개통된 지 올해로 ○○○년이 되었습니다. 우리 학회는 이를 기념하여 학술 대회를 개최하려 합니다.

\* 발표 내용 \*

1. 제국주의 열강의 이권 침탈과 철도
2. 철도 개통에 따른 생활의 변화
3. 일본의 철도 부설 의도와 과정

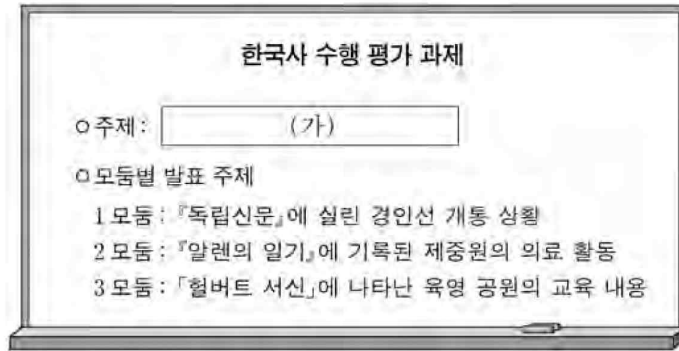
• 일시: 2019년 ○○월 ○○일 14:00~18:00  
 • 장소: △△대학 ○○호실  
 • 주관: □□학회

	(가)	(나)	(다)	(라)	(마)	
	위화도 회군	인조반정	강화도 조약 체결	국권 피탈	태평양 전쟁 발발	6·25 전쟁 발발

- ① (가)                      ② (나)                      ③ (다)                      ④ (라)                      ⑤ (마)

§ 출전 : 고3 2018년 06월 평가원 한국사 13번

005 (가)에 들어갈 내용으로 가장 적절한 것은?



- ① 경제적 구국 운동
- ② 중앙아시아 한인의 삶
- ③ 무장 독립 전쟁의 전개
- ④ 근대 문물의 수용과 변화
- ⑤ 신탁 통치를 둘러싼 갈등

§ 출전 : 고3 2016년 03월 학력평가 한국사 10번

006 (가) 철도에 대한 설명으로 옳은 것은? [3점]



- ① 청에 의해 부설되었다.
- ② 영국인 베델에 의해 운영되었다.
- ③ 러·일 전쟁을 계기로 착공되었다.
- ④ 당백전 발행을 통해 자금을 충당하였다.
- ⑤ 우리나라에서 처음으로 개통된 철도이다.

나의 오답 문항

고3 2019년 06월 평가원 한국사 13번

이게 바로 핵심이야!


왜 틀렸지?

이것만은 기억하자!

문제

§ 세부단원정보 : 국제질서의 변동과 근대국가 수립운동 | 개항 이후 경제·사회의 변화 | 언론기관

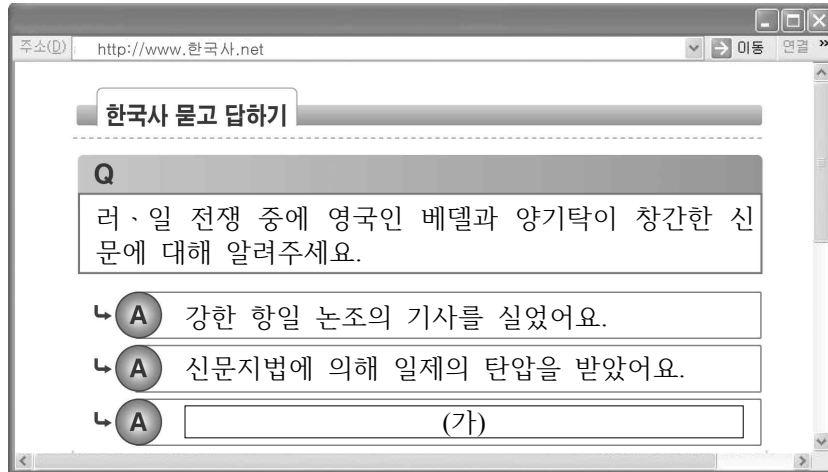
007 (가)에 들어갈 내용으로 가장 적절한 것은? [3점]



- ① 가가날을 제정하였어요.
- ② 근우회의 기관지로 발간되었어요.
- ③ 조봉암과 진보당 사건을 보도하였어요.
- ④ 국채 보상 운동의 확산에 기여하였어요.
- ⑤ 박문국에서 발간한 최초의 근대적 신문이었어요.

§ 출전 : 고3 2016년 10월 학력평가 한국사 16번

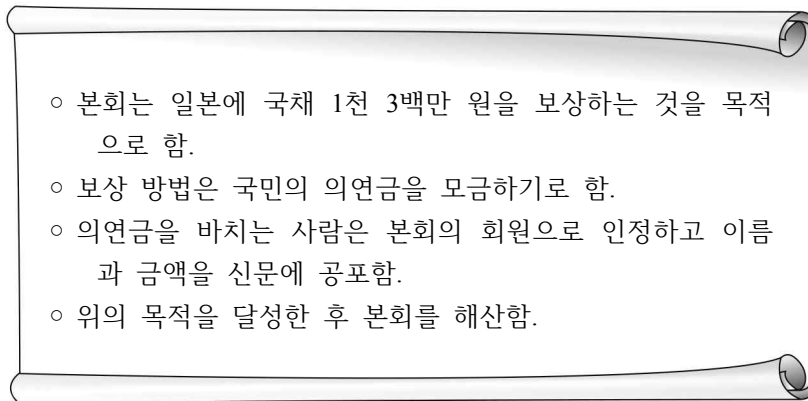
008 (가)에 들어갈 내용으로 적절한 것은? [3점]



- ① 우리나라 최초의 신문이에요.
- ② 브나로드 운동을 전개했어요.
- ③ 박문국에서 10일마다 발행했어요.
- ④ 독립 협회의 기관지 역할을 하었어요.
- ⑤ 국채 보상 운동을 지원하는 활동을 하었어요.

§ 출전 : 고2 2016년 11월 학력평가 한국사 13번

009 자료를 통해 알 수 있는 민족 운동에 대한 설명으로 옳은 것은?



- ① 조선책략 유포에 반대하였다.
- ② 근우회의 후원으로 확산되었다.
- ③ 박규수, 오경석 등이 주도하였다.
- ④ 중국의 5·4 운동에 영향을 주었다.
- ⑤ 대한매일신보 등 언론의 지원을 받았다.

## 나의 오답 문항

고3 2019년 06월 평가원 한국사 19번

이게 바로 핵심이야!


왜 틀렸지?

이것만은 기억하자!

## 문제

§ 세부단원정보 : 대한민국의 발전과 현대세계의 변화 | 대한민국 정부 수립 | 친일파 청산

010 교사의 질문에 대한 학생의 답변으로 옳은 것은? [3점]

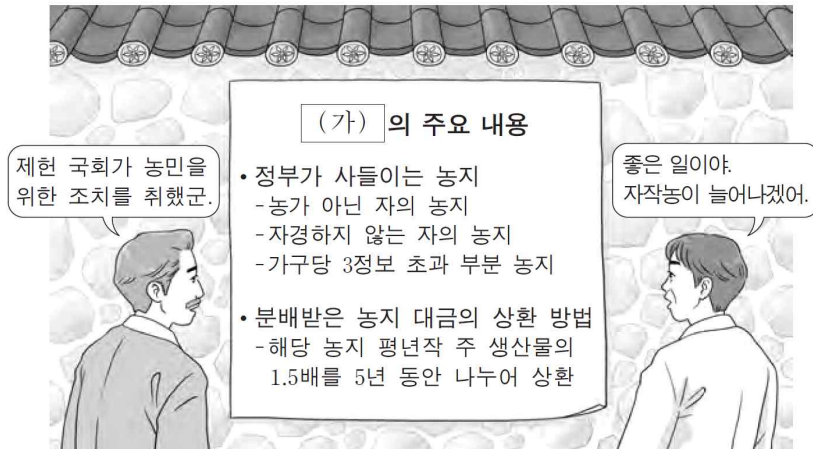


- ① 교정도감을 설치하였어요.
- ② 홍범 14조를 반포하였어요.
- ③ 대한국 국제를 제정하였어요.
- ④ 교육입국 조서를 반포하였어요.
- ⑤ 반민족 행위 처벌법을 제정하였어요.



§ 출전 : 고3 2016년 수능 한국사 18번

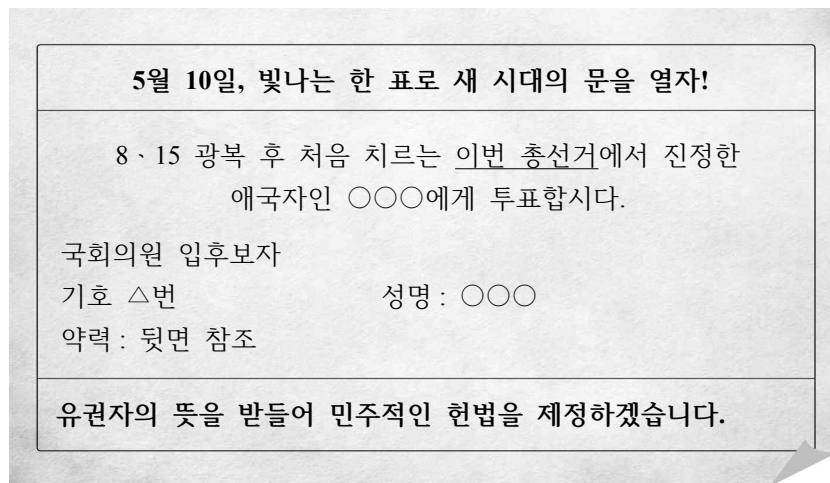
011 (가)에 들어갈 내용으로 옳은 것은?



- ① 방곡령
- ② 식량 배급제
- ③ 농지 개혁법
- ④ 경제 개발 5개년 계획
- ⑤ 대한 제국 칙령 제41호

§ 출전 : 고3 2017년 03월 학력평가 한국사 17번

012 밑줄 친 ‘이번 총선거’로 구성된 국회에 대한 설명으로 옳은 것은? [3점]



- ① 만민 공동회를 개최하였다.
- ② 좌우 합작 7원칙을 발표하였다.
- ③ 남북 기본 합의를 채택하였다.
- ④ 반민족 행위 처벌법을 제정하였다.
- ⑤ 경제 개발 5개년 계획을 수립하였다.

## 나의 오답 문항

고3 2019년 06월 평가원 한국사 20번

이게 바로 핵심이야!

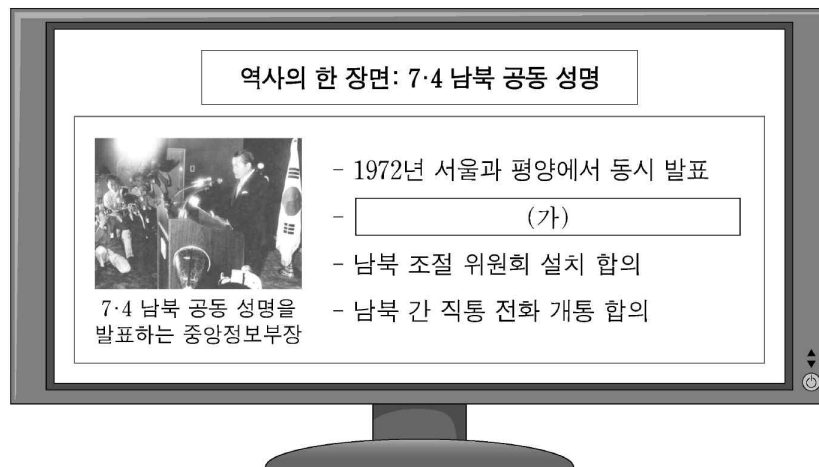
왜 틀렸지?

이것만은 기억하자!

## 문제

§ 세부단원정보 : 대한민국의 발전과 현대세계의 변화 | 북한사회의 변화와 세계 속의 대한민국 | 통일 정책 변화

013 (가)에 들어갈 내용으로 옳은 것은?



- ① 개성 공단 조성 합의
- ② 남북 기본 합의서 채택
- ③ 미·소 공동 위원회 개최 결정
- ④ 제2차 남북 정상 회담 개최 합의
- ⑤ 자주, 평화, 민족적 대단결의 통일 원칙 표방

§ 출전 : 고3 2016년 수능 한국사 20번

014 밑줄 친 ‘이 성명’에 대한 설명으로 옳은 것은? [3점]

남북 적십자 회담을 계기로 남북한은 1972년에 서울과 평양에서 동시에 남북 공동 성명을 발표하였다. 이 성명은 분단 이후 남북한이 최초로 통일과 관련된 사항을 합의하여 발표한 것이다.

- ① 실력 양성 운동에 영향을 주었다.
- ② 좌우 합작 운동의 계기가 되었다.
- ③ 한글 맞춤법 통일안이 채택되었다.
- ④ 미·소 공동 위원회의 개최가 결정되었다.
- ⑤ 자주, 평화, 민족적 대단결의 통일 3대 원칙이 제시되었다.

§ 출전 : 고3 2018년 09월 평가원 한국사 20번

015 밑줄 친 ‘정부’ 시기에 있었던 사실로 옳은 것은? [3점]

**한국사 신문**

제△△호 ○○○○년 □월 △일

---

**역사적인 남북 공동 성명 발표**

정부는 자주, 평화, 민족 대단결의 통일 원칙에 합의한 7·4 남북 공동 성명을 발표하였다. 그리고 남북은 현안을 논의하기 위한 실무 기구로 남북 조절 위원회를 설치하기로 합의하였다. 이 성명은 남북이 처음으로 통일 원칙에 합의했다는 점에서 그 역사적 의의가 매우 크다고 볼 수 있다.

- ① 유신 헌법이 제정되었다.
- ② 흥범 14조가 반포되었다.
- ③ 사사오입 개헌이 단행되었다.
- ④ 4.13 호헌 조치가 발표되었다.
- ⑤ 반민족 행위 처벌법이 공포되었다.

NOTEPLY™

# 정답과 해설

응답하라. 나의 수능 - 나를 알아주는 최적의 학습 시스템

[www.noteply.co.kr](http://www.noteply.co.kr)

1 정답 ②

고려의 군사 조직 파악

정답 해설 : 관리나 직역 담당자에게 전지와 시지를 지급하는 토지 제도라는 점, 경종 때 처음 시행되었다는 점 등을 통해 밑줄 친 '이 제도'가 고려 시대의 토지 제도인 전시과 제도임을 알 수 있다. 고려 시대에는 중앙군으로 2군 6위, 지방군으로 주현군과 주진군을 두었다.

[오답피하기]

- ① 별기군은 개항 이후 1881년에 창설된 신식 군대이다.
- ③ 훈련도감은 임진왜란 중에 왜군의 조총에 대항하기 위해 설치된 군영이다.
- ④ 9서당 10정은 통일 신라 시대의 군사 조직이다.
- ⑤ 한국광복군은 대한민국 임시 정부가 1940년에 충청에서 창설하였다.

2 정답 ②

고려의 토지 제도 파악

정답 해설 : 제시된 자료에서 수도가 개경이라는 점, 팔관회를 개최하였다는 점 등을 통해 (가)가 고려임을 알 수 있다. 고려 시대에는 관리에게 관직 복무의 대가로 전지와 시지를 나누어 주는 전시과를 시행하였다.

[오답피하기]

- ① 변한에서는 철이 많이 생산되어 덩이쇠를 만들어 화폐처럼 사용하였고, 낙랑, 왜등에 수출하였다.
- ③ 조선 후기에는 상품 화폐 경제가 발달하면서 담배, 인삼 등의 상품 작물 재배가 성행하였다.
- ④ 조선 후기에는 상품 화폐 경제가 발달하면서 상품통보가 발행되어 전국적으로 유통되었다.
- ⑤ 개항 이후 외국 상인이 서울로 진출하여 상권을 침탈하자, 시전 상인들이 황국 중앙 총상회를 조직하여 상권 수호 운동을 전개하였다.

3 정답 ①

고려 초기 정치의 이해

정답 해설 : 지방관 파견을 건의하는 최승로의 상소문을 통해 (가) 국왕은 고려 성종임을 알 수 있으며, 삼한을 통합하였다는 것을 통해 (나) 국왕은 고려를 건국한 태조임을 알 수 있다. ① 광종은 노비안검법을 실시하여 호족 세력을 약화시키고 국가의 수입 기반을 확대하고자 하였다.

[오답피하기]

- ② 성종은 지방에 12목을 설치하여 지방관을 파견하였다.
- ③ 태조는 후대 왕들에게 훈요 10조를 남겨 숭불 정책, 연등회와 팔관회 중시 등의 정책 방향을 제시하였다.
- ④ 태조는 평양을 서경으로 삼아 중시하는 등 북진 정책을 추진하여, 고려의 국경선을 청천강에서 영흥까지 확장시켰다.
- ⑤ 태조의 사십관 제도와 기인 제도 실시, 성종의 12목

설치와 향리 제도 마련 등은 모두 지방 호족을 통제하기 위한 정책이었다.

4 정답 ③

경인선 개통 시기 파악

정답 해설 : 노량진과 제물포를 연결하는 철도라는 점, 우리나라 최초의 철도라는 점 등을 통해 1899년에 개통된 경인선임을 알 수 있다. 강화도 조약은 1876년에 체결되었고, 국권 피탈은 1910년의 사실이다.

5 정답 ④

개항 이후 근대 문화의 이해

정답 해설 : 제시된 수행 평가의 발표 주제인 경인선의 개통 상황, 제중원의 의료 활동, 육영 공원의 교육 내용 등을 통해 발표 주제가 '근대 문물의 수용과 변화'임을 알 수 있다.

[오답피하기]

- ① 경제적 구국 운동으로는 방곡령 사건, 상권 수호 운동, 국채 보상 운동 등이 있다.
- ② 중앙아시아 한인의 삶은 1937년 소련에 의해 연해주의 한인들이 중앙아시아로 강제 이주당한 사건과 관련이 있다.
- ③ 무장 독립 전쟁의 전개는 봉오동 전투, 청산리 전투, 1930년대 만주 지역의 한-중 연합 작전, 중국 관내의 조선 의용대와 한국광복군의 활동 등과 관련이 있다.
- ⑤ 신탁 통치를 둘러싼 갈등은 1945년 모스크바 3국 외상 회의의 결정 사항과 관련이 있다.

6 [정답] ⑤

[출제의도] 철도 부설 과정의 특징을 파악한다.

(가) 철도는 경인선이다. 근대 문물의 상징인 철도는 1899년에 경인선이 개통된 것을 시작으로 해서 경부선과 경의선이 차례로 부설되었다.

[오답풀이] ② 대한매일신보, ④ 경복궁 중건에 대한 설명이다.

7 정답 ④

대한매일신보 파악

정답 해설 : 제시된 자료에 등장하는 양기탁과 베델 등을 통해 대한매일신보에 대한 대화 내용임을 알 수 있다. 대한매일신보는 반일 논조의 기사를 실었고, 1907년에 전개된 국채 보상 운동이 전국으로 확산되는 데 기여하였다.

[오답피하기]

- ① 1921년에 창립된 조선어 연구회가 가갸날을 제정하였다.
- ② 1927년에 창립된 근우회는 "근우"라는 잡지를 발간

하였다.

③ 조보암의 진보당 사건은 이승만 정부가 독재 체제를 강화하던 1950년대 후반에 일어났다.

⑤ 1883년에 박문국에서는 우리나라 최초의 근대적 신문인 “한성순보”를 발행하였다.

8 [정답] ⑤

[출제의도] 대한매일신보의 성격을 이해한다.

(가)에는 대한매일신보와 관련된 내용이 들어가야 한다. 대한매일신보는 1904년 영국인 베델과 양기탁에 의해 창간되었는데, 애국적인 논설을 통해 항일 의식을 고취하였으며 항일 의병 운동에 대해 호의적인 기사를 실기도 하였다. 또한 1907년에 전개된 국채 보상 운동을 지원하는 활동을 하였다.

[오답풀이] ①, ③ 한성순보, ② 동아일보이다. ④ 독립협회의 기관지는 대조선 독립 협회 회보이다.

9 [정답] ⑤

[출제의도] 국채 보상 운동 이해하기

자료는 국채 보상 운동에 대한 것이다. 일본에서 빌려온 차관을 갚아 국권을 회복하자는 국채 보상 운동은 대구에서 시작하여 대한매일신보, 황성신문 등 언론 기관의 지원을 받아 전국으로 확산되었다. ①은 위정척사 운동, ③은 통상 개화론, ④는 3·1 운동에 해당한다. ②의 근우회는 1920년대 여성 운동을 벌인 단체이다.

10 정답 ⑤

제헌 국회의 활동 파악

정답 해설 : 5·10 총선거 결과로 구성된 국회라는 점을 통해 제헌 국회에 대한 것임을 알 수 있다. 제헌 국회는 친일파 처단을 위해 1948년에 반민족 행위 처벌법을 제정하였다.

[오답피하기]

① 교정도감은 고려 무신 정권 때 최충헌이 권력 장악을 위해 설치하였다.

② 제2차 갑오개혁 당시 국정 개혁의 기본 강령인 흥범 14조가 반포되었다.

③ 1899년에 고종은 황제의 무한한 군주권을 규정한 대한국 국제를 반포하였다.

④ 고종은 제2차 갑오개혁을 추진하는 과정에서 교육입국 조서를 반포하였다.

11 정답 ③

농지 개혁의 이해

정답 해설 : 제시된 자료의 (가)에 들어갈 내용은 농지 개혁법이다. 제헌 국회가 농민을 위해 취한 조치, 정부가 사들이는 농지, 분배받은 농지 대금의 상황, 자작농 증가 등을 통해 파악할 수 있다.

[오답피하기]

① 문호 개방 이후 일본 상인들의 곡물 유출 확대 등으로 곡물 가격이 폭등하자 1889년에 함경도 관찰사 조병식은 방곡령, 즉 곡물 유출 금지령을 내린 바 있다.

② 일제는 중·일 전쟁 이후 인적, 물적 자원을 수탈하면서 전쟁 물자 확보를 위해 미곡 공출제와 식량 배급제를 실시하였다.

④ 경제 개발 5개년 계획은 1962년부터 5년 단위로 추진되었다.

⑤ 대한 제국 정부는 1900년에 칙령 제41호를 공포하여 울릉도를 군(울도군)으로 승격하고 독도가 우리 영토임을 국내외에 밝혔다.

12 [정답] ④

[출제의도] 제헌 국회의 활동을 파악한다.

1948년 5·10 총선거를 통해 제헌 국회가 구성되었다. 제헌 국회는 반민족 행위 처벌법을 제정하여 친일파를 청산하고자 노력하였다.

[오답풀이] ① 독립 협회, ② 좌우 합작 위원회, ③ 노태우 정부, ⑤ 장면 정부와 관련 있다.

13 정답 ⑤

7·4 남북 공동 선언 내용 파악

정답 해설 : 제시된 자료는 1972년 7·4 남북 공동 성명 발표와 관련된 것이다. 7·4 남북 공동 성명에서 남과 북은 자주, 평화, 민족 대단결의 통일 원칙에 합의하였다.

[오답피하기]

① 김대중 정부는 2000년 6·15 남북 공동 선언을 통해 개성 공단 건설에 합의하였다.

② 노태우 정부 시기인 1991년에 남북 기본 합의서가 채택되었다.

③ 1945년 12월에 개최된 모스크바 3국 외상 회의에서 미·소 공동 위원회 설치를 합의하였다.

④ 2007년 노무현 정부는 제2차 남북 정상 회담을 개최하였다.

14 정답 ⑤

7·4 남북 공동 성명의 이해

정답 해설 : 제시된 자료의 밑줄 친 ‘이 성명’은 1972년의 7·4 남북 공동 성명이다. 남북 적십자 회담을 계기로 서울과 평양에서 동시에 발표한 남북 공동 성명, 분단 이후 남북한이 최초로 통일과 관련된 사항 합의 발표 등을 통해 파악할 수 있다. ⑤ 7·4 남북 공동 성명에서 남북한은 자주, 평화, 민족적 대단결의 통일 3대 원칙에 합의하였다.

[오답피하기]

① 을사늑약 전후 관료·지식인이 주도한 애국 계몽 운동은 점진적 실력 양성을 통한 국권 회복을 추구하였는

데, 이는 사회 진화론을 수용하여 경제적 · 문화적 실력 양성에만 주력하고 의병 투쟁을 비판한 한계가 있었다.

② 1946년 결성된 좌우 합작 위원회의 좌우 합작 운동은 미 · 소 공동 위원회의 무기휴회, 단독 정부 수립을 주장한 이승만의 정읍 발언 등을 배경으로 전개되었다.

③ 1931년에 조선어 연구회에서 이름이 바뀐 조선어 학회는 이후 한글 맞춤법 통일안을 공표하고 표준어를 제정하였다.

④ 1945년 12월 모스크바 3국 외상(외무 장관) 회의에서 한반도 문제가 논의된 결과 미 · 소 공동 위원회 개최가 결정되었다.

15 정답: ①

박정희 정부 시기의 사실 파악

정답해설: 7·41 남북 공동 성명을 발표하고 남북 조절 위원회를 설치했다는 사실을 통해 밑줄 친 ‘정부’가 박정희 정부임을 알 수 있다. 박정희 정부는 1972년에 7·4 남북 공동 성명을 발표하는 등 통일 분위기를 조성한 후 불법적으로 국회를 해산하고 유신 헌법을 제정하여 독재 체제를 강화하였다.

[오답피하기]

② 1895년 제2차 갑오개혁 당시 흥범 14조가 발표되었다.

③ 이승만과 자유당 정권은 장기 집권을 위해 1954년 사사오입 개헌을 단행하였다.

④ 전두환 정부는 1987년에 국민들의 대통령 직선제 개헌 요구를 묵살하고 기존 헌법을 유지하겠다는 4·13 호헌 조치를 발표하였다.

⑤ 대한민국 정부 수립 직후인 1948년에 제헌 국회는 반민족 행위자 처벌 및 재산 몰수 등을 목적으로 반민족 행위 처벌법을 제정하였다.

Fit 하는 순간, 오답도 실력이 된다!

고3 2019년 06월 한국지리  
오답률 랭킹 5위

이지오답핏





## ■ 문항별 분석

번호	대분류	중분류	소분류	배점	결과
01	국토인식과 지리정보	국토 인식의 변화	고지도	2	O
02	기후환경과 인간생활	기후와 주민생활	기온과 주민생활	3	O
03	지형환경과 인간생활	화산 지형과 카르스트 지형	카르스트 지형	2	O
04	지형환경과 인간생활	한반도의 형성과 산지 지형	산지 지형	3	O
05	우리나라의 지역이해	호남지방	업구조의 변화	3	O
06	지형환경과 인간생활	하천지형과 해안지형	하천 특성	3	X
07	거주공간의 변화와 지역개발	촌락의 변화와 도시 발달	도시 체계	3	O
08	인구변화와 다문화 공간	인구분포와 인구구조 변화	인구 구조	2	X
09	국토인식과 지리정보	지리정보와 지역조사	지역조사	2	O
10	우리나라의 지역이해	강원지방	산업구조 변화	3	O
11	거주공간의 변화와 지역개발	도시구조와 대도시권	도시 내부 구조	2	O
12	생산과 소비의 공간	자원과 자원문제	에너지 자원	2	O
13	지형환경과 인간생활	하천지형과 해안지형	해안 지형	3	O
14	우리나라의 지역이해	영남지방	산업구조의 변화	3	O
15	기후환경과 인간생활	우리나라 기후특성	기온	2	X
16	생산과 소비의 공간	공업발달과 지역 변화	공업 입지	2	X
17	생산과 소비의 공간	농업의 변화와 농촌문제	주요 작물	2	O
18	기후환경과 인간생활	자연재해와 기후변화	기후적 자연재해	2	O
19	거주공간의 변화와 지역개발	도시계획과 도시 재개발	도시 재개발	3	O
20	우리나라의 지역이해	북한지역의 특성	북한의 개방정책	3	X

나의 오답 문항

고3 2019년 06월 평가원 한국지리 6번

이게 바로 핵심이야!

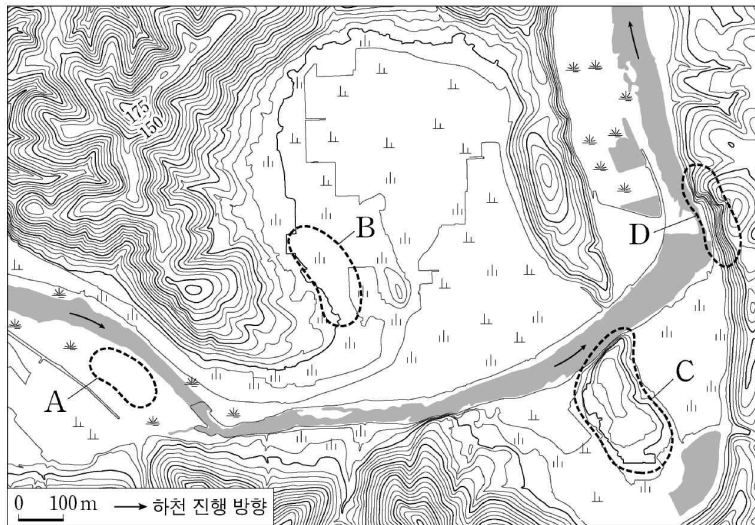
왜 틀렸지?

이것만은 기억하자!

문제

§ 세부단원정보 : 지형환경과 인간생활 | 하천지형과 해안지형 | 하천 특성

001 A~D에 대한 옳은 설명만을 <보기>에서 있는 대로 고른 것은? [3점]



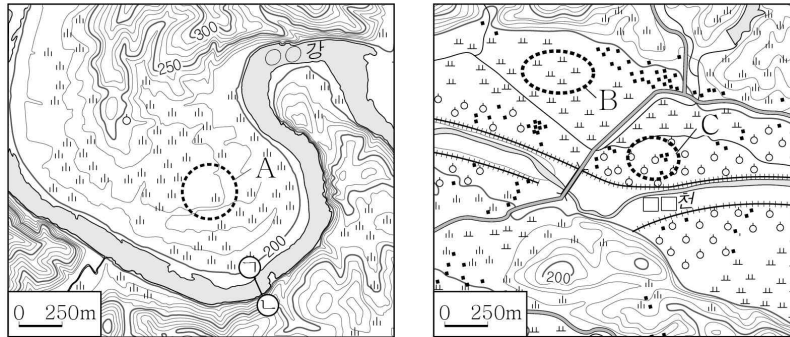
<보 기>

- ㄱ. A는 하천에 의한 퇴적 지형이다.
- ㄴ. C는 하천에 의해 절단되고 남은 구릉이다.
- ㄷ. D는 하천의 측방 침식으로 형성된 급사면이다.
- ㄹ. B는 A보다 범람에 의한 침수 가능성이 높다.


- ① ㄱ, ㄴ
- ② ㄱ, ㄷ
- ③ ㄴ, ㄹ
- ④ ㄱ, ㄴ, ㄷ
- ⑤ ㄱ, ㄷ, ㄹ

§ 출전 : 고3 2018년 10월 학력평가 한국지리 2번

002 지도에 대한 옳은 설명만을 <보기>에서 있는 대로 고른 것은?



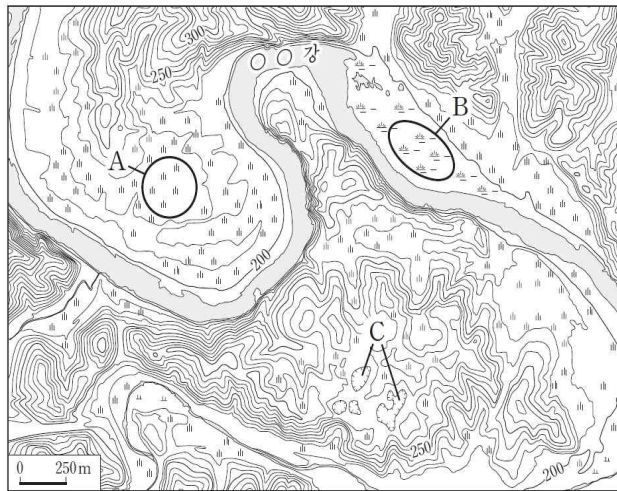
<보 기>

- ㄱ. A의 퇴적층에서는 둥근 자갈을 발견할 수 있다.
- ㄴ. A는 B보다 하천 범람에 의한 피해 발생 가능성이 높다.
- ㄷ. B는 C보다 퇴적 물질의 평균 입자 크기가 크다.
- ㄹ. ㉠-㉡의 하천 바닥 단면은 대략 '  '와 같은 형태로 나타난다.

- ① ㄱ, ㄴ      ② ㄱ, ㄹ      ③ ㄴ, ㄷ
- ④ ㄱ, ㄷ, ㄹ      ⑤ ㄴ, ㄷ, ㄹ

§ 출전 : 고3 2016년 수능 한국지리 8번

003 지도의 A~C에 대한 설명으로 옳은 것은?



- ① A에서는 하천의 작용으로 형성된 둥근 자갈이 발견된다.
- ② B는 지반 융기로 형성된 고위 평탄면이다.
- ③ C의 기반암은 중생대에 마그마의 관입으로 형성되었다.
- ④ A는 B보다 □□강의 범람에 의한 침수 가능성이 높다.
- ⑤ B, C는 배수가 불량하다.

나의 오답 문항

고3 2019년 06월 평가원 한국지리 8번

이게 바로 핵심이야!

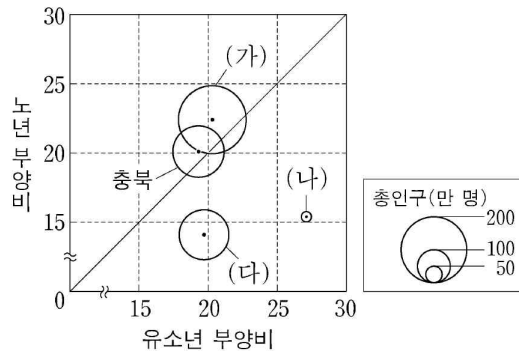
왜 틀렸지?

이것만은 기억하자!

문제

§ 세부단원정보 : 인구변화와 다문화 공간 | 인구분포와 인구구조 변화 | 인구 구조

004 그래프는 충청권의 시·도별 인구 특성을 나타낸 것이다. 이에 대한 설명으로 옳은 것은?

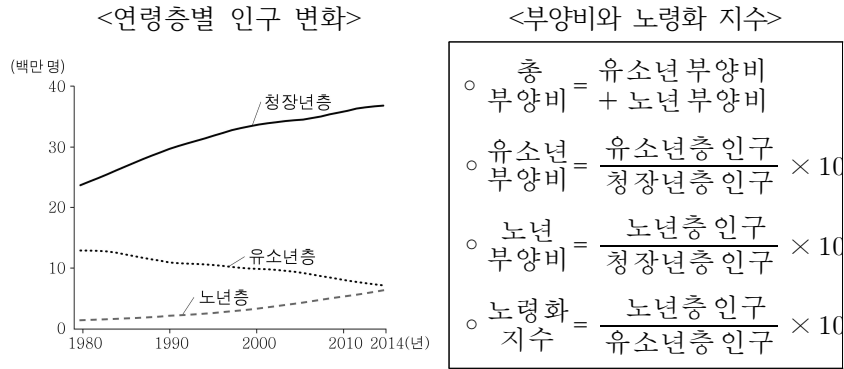


\*유소년 부양비와 노년 부양비는 원의 가운데 값임. (통계청) (2015)

- ① (가)는 대전, (다)는 충남이다.
- ② (나)는 충북보다 청장년층 인구가 많다.
- ③ (다)는 총 부양비가 가장 높다.
- ④ 노령화 지수가 가장 높은 지역은 충남이다.
- ⑤ 세종은 노년층 인구가 유소년층 인구보다 많다.

§ 출전 : 고2 2016년 03월 학력평가 한국지리 20번

005 다음 자료를 통해 옳게 파악한 내용을 <보기>에서 고른 것은? [3점]



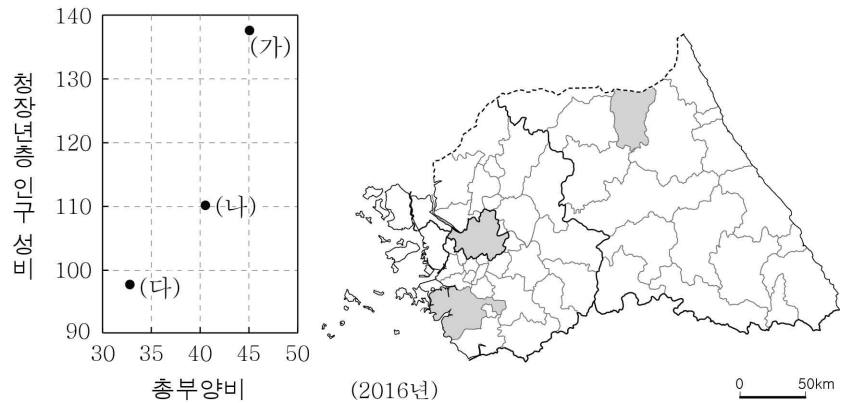
< 보 기 >

ㄱ. 총 부양비는 감소하였다.  
 ㄴ. 노년 부양비는 감소하였다.  
 ㄷ. 노령화 지수는 상승하였다.  
 ㄹ. 유소년 부양비는 증가하였다.

- ① ㄱ, ㄴ      ② ㄱ, ㄷ      ③ ㄴ, ㄷ      ④ ㄴ, ㄹ      ⑤ ㄷ, ㄹ

§ 출전 : 고3 2018년 10월 학력평가 한국지리 15번

006 그래프는 지도에 표시된 세 지역의 인구 특성을 나타낸 것이다. (가)~(다) 지역에 대한 설명으로 옳은 것은?



- ① (나)에서는 지역의 위치 특성을 활용한 배꼽 축제가 열린다.  
 ② (가)는 (다)보다 제조업 출하액이 많다.  
 ③ (나)는 (가)보다 중위 연령이 높다.  
 ④ (다)는 (나)보다 생산자 서비스업 종사자 비중이 높다.  
 ⑤ (가), (나)는 수도권, (다)는 강원권에 위치한다.

나의 오답 문항

고3 2019년 06월 평가원 한국지리 15번

이게 바로 핵심이야!

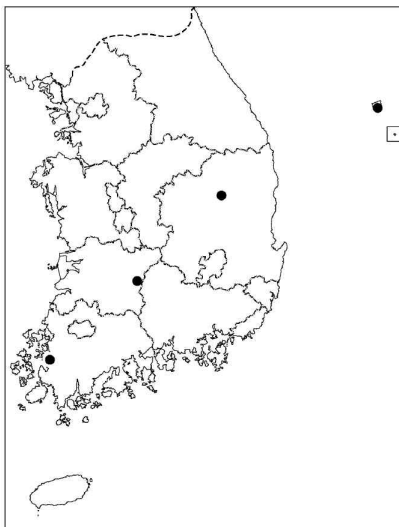
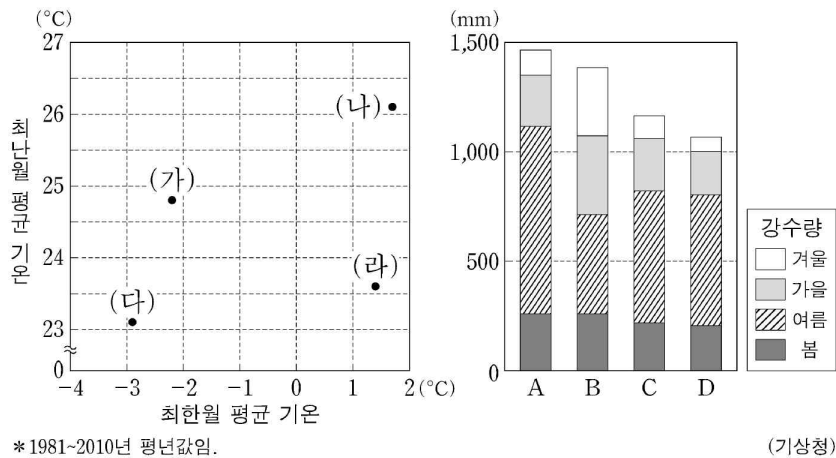
왜 틀렸지?

이것만은 기억하자!

문제

§ 세부단원정보 : 기후환경과 인간생활 | 우리나라 기후특성 | 기온

007 그래프는 지도에 표시된 네 지역의 기후 자료이다. 이에 대한 설명으로 옳은 것은? (단, (가)~(라), A~D는 각각 지도에 표시된 지역 중 하나임.)

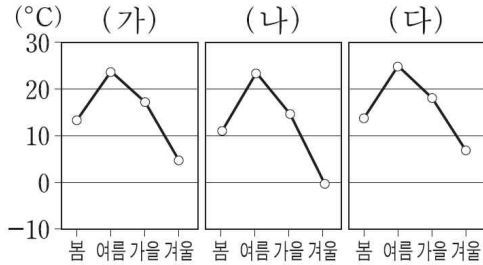


- ① (가)는 A, (다)는 D이다.
- ② (가)는 (다)보다 고위도에 위치한다.
- ③ (나)는 (라)보다 겨울 강수량이 많다.
- ④ C는 A보다 기온의 연교차가 크다.
- ⑤ D는 B보다 최한월 평균 기온이 높다.

출전 : 고3 2017년 수능 한국지리 12번

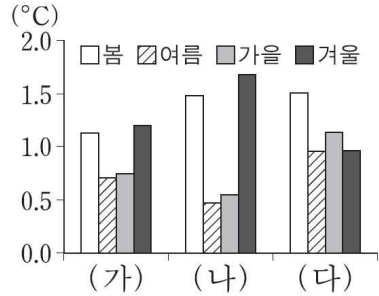
008 (가)~(다)에 대한 옳은 설명을 <보기>에서 고른 것은? (단, (가)~(다)는 부산, 인천, 제주 중 하나임.)

<계절별 기온>



\* 1981~2010년 평년값임.

<계절별 기온 변화>



\* 1981~2010년 평년값에서  
1931~1960년 평년값을 뺀 값임.  
(기상청)

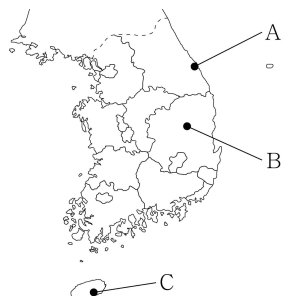
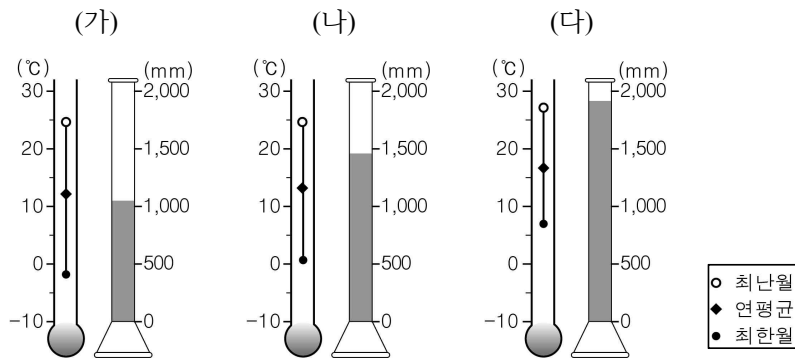
<보 기>

- ㄱ. (가)는 부산, (나)는 인천이다.
- ㄴ. (나)는 (다)보다 무상 일수가 많다.
- ㄷ. (가)~(다)의 겨울 기온은 위도가 높을수록 더 크게 상승했다.
- ㄹ. 인천은 봄 기온, 제주는 겨울 기온이 가장 크게 상승했다.

- ① ㄱ, ㄴ      ② ㄱ, ㄷ      ③ ㄴ, ㄷ      ④ ㄴ, ㄹ      ⑤ ㄷ, ㄹ

출전 : 고2 2013년 06월 학력평가 한국지리 20번

009 그림은 세 지역의 기온과 연 강수량을 나타낸 것이다. (가)~(다)에 해당하는 지역을 지도의 A~C에서 고른 것은?



- |   |     |     |     |
|---|-----|-----|-----|
|   | (가) | (나) | (다) |
| ① | A   | B   | C   |
| ② | A   | C   | B   |
| ③ | B   | A   | C   |
| ④ | B   | C   | A   |
| ⑤ | C   | A   | B   |

나의 오답 문항

고3 2019년 06월 평가원 한국지리 16번

이게 바로 핵심이야!

왜 틀렸지?

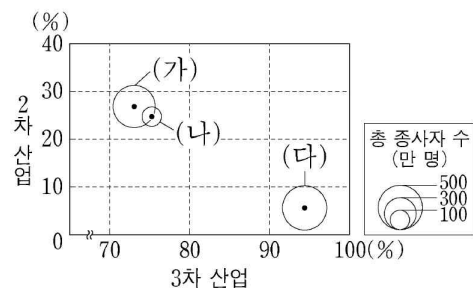
이것만은 기억하자!

문제

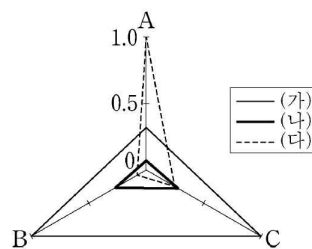
§ 세부단원정보 : 생산과 소비의 공간 | 공업발달과 지역 변화 | 공업 입지

010 그래프에 대한 설명으로 옳지 않은 것은? (단, (가)~(다)는 경기, 서울, 인천 중 하나이고, A~C는 전문 서비스업, 자동차 및 트레일러 제조업, 전자 부품·컴퓨터·영상·음향 및 통신 장비 제조업 중 하나임.)

〈2·3차 산업 종사자 비율 및 총 종사자 수〉



〈A~C 업종별 사업체 수 비교〉



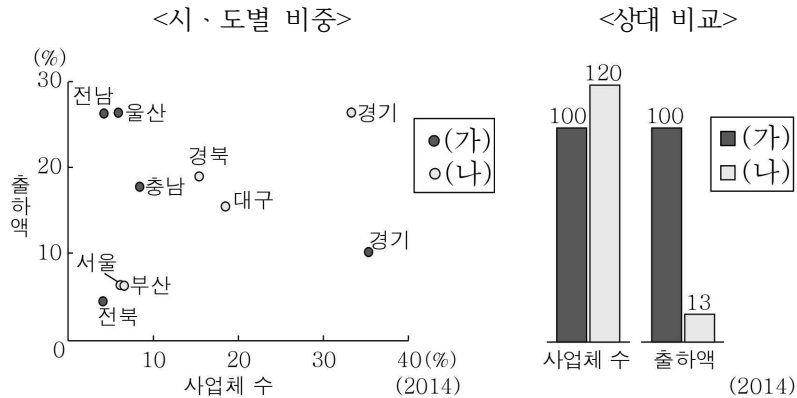
\* 지역별 2·3차 산업 종사자 비율은 원의 가운데 값임.  
 \*\* 'A~C 업종별 사업체 수 비교'는 (가)~(다) 지역 중 사업체 수가 가장 많은 지역을 1로 했을 때의 상대값임.  
 \*\*\* 전문 서비스업에는 법률, 회계, 광고업 등이 포함됨.  
 (2015) (통계청)

- ① (나)는 인천이다.
- ② (가)는 (다)보다 인구가 많다.
- ③ A는 생산자 서비스업에 포함된다.
- ④ B의 종사자 수는 수도권이 영남권보다 많다.
- ⑤ B는 C보다 최종 제품의 무게가 무겁고 부피가 크다.



§ 출전 : 고2 2017년 03월 학력평가 한국지리 16번

011 다음 자료의 (가), (나) 제조업에 대한 설명으로 옳은 것은? (단, (가), (나)는 섬유 제품(의복 제외), 화학 물질 및 화학 제품(의약품 제외) 제조업 중 하나이다.)



\* 출하액 상위 5개 지역만 표시함.

\* (가)를 100으로 할 때의 상대값임.

- ① (가)는 1960년대 대표적인 수출 산업이었다.
- ② (나)는 계열화된 공정을 필요로 하는 중화학 공업이다.
- ③ (가)는 (나)보다 사업체당 출하액이 많다.
- ④ (가)는 (나)보다 생산비에서 노동비가 차지하는 비중이 높다.
- ⑤ (가), (나) 모두 경기의 출하액이 가장 많다.

§ 출전 : 고3 2014년 수능리허설 한국지리 02회 19번

012 표는 영남권의 지역별 (가)~(라) 공업이 차지하는 비중을 나타낸 것이다. 이에 대한 설명으로 옳지 않은 것은? (단, (가)~(라)는 1차 금속, 섬유(의복 제외), 석유 정제, 자동차 및 트레일러 중 하나임.)

(단위: %)

구분	(가)	(나)	(다)	(라)
부산	-	8.0	7.3	3.9
대구	-	1.9	18.6	5.6
울산	50.5	5.4	1.9	14.6
경북	2.4	20.4	15.7	8.1
경남	-	13.9	5.6	10.4

\* 해당 수치는 전국에서 차지하는 비중(중사자 기준)을 나타낸 것임.

(통계청, 2012)

- ① (가)는 특정 지역의 공업 집중도가 높다.
- ② (라)는 많은 부품을 조립하여 완제품을 생산한다.
- ③ (가), (나)는 공업의 입지 유형 중 적환지 지향형에 해당한다.
- ④ (나)의 제품은 (라)의 생산에 이용된다.
- ⑤ (다)는 (가)보다 노동 생산성이 높다.

나의 오답 문항

고3 2019년 06월 평가원 한국지리 20번

이게 바로 핵심이야!

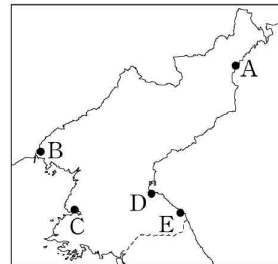
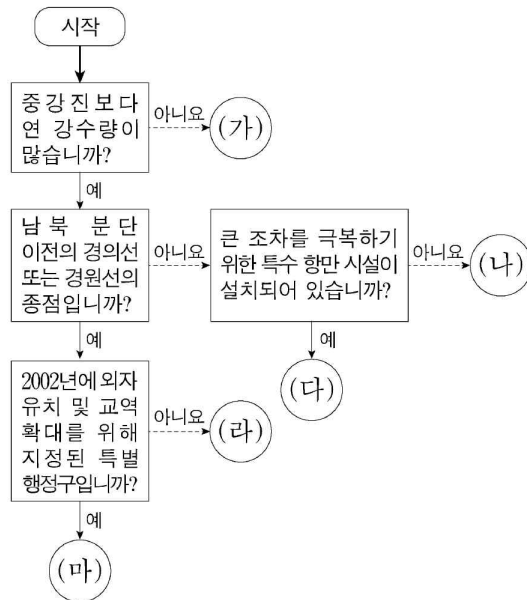
왜 틀렸지?

이것만은 기억하자!

문제

§ 세부단원정보 : 우리나라의 지역이해 | 북한지역의 특성 | 북한의 개방정책

013 그림의 (가)~(마)에 해당하는 지역을 지도의 A~E에서 고른 것은? [3점]

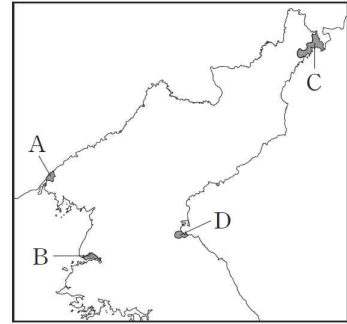


- |   | (가) | (나) | (다) | (라) | (마) |
|---|-----|-----|-----|-----|-----|
| ① | A   | B   | C   | D   | E   |
| ② | A   | C   | E   | B   | D   |
| ③ | A   | E   | C   | D   | B   |
| ④ | C   | D   | A   | E   | B   |
| ⑤ | C   | E   | B   | A   | D   |

§ 출전 : 고3 2017년 09월 평가원 한국지리 6번

014 다음 자료의 (가)~(다) 지역을 지도의 A~D에서 고른 것은?

지역	특성
(가)	<ul style="list-style-type: none"> <li>• 홍콩식 경제 개발을 추진하여 자본주의 시장 경제 체제 실험 계획</li> <li>• 도로 및 철도 교통의 요지</li> </ul>
(나)	<ul style="list-style-type: none"> <li>• 북한의 특별시이며 대표적인 공업 도시</li> <li>• 갑문 설치 이후 물류 기능 강화</li> </ul>
(다)	<ul style="list-style-type: none"> <li>• 유엔 개발 계획의 지원을 받은 북한 최초의 경제 특구</li> <li>• 금융 기반을 갖춘 국제 교류의 거점 구축 및 외자 유치 계획</li> </ul>



- |   |     |     |     |   |     |     |     |
|---|-----|-----|-----|---|-----|-----|-----|
|   | (가) | (나) | (다) |   | (가) | (나) | (다) |
| ① | A   | B   | C   | ② | A   | C   | B   |
| ③ | A   | D   | B   | ④ | B   | C   | D   |
| ⑤ | B   | D   | A   |   |     |     |     |

§ 출전 : 고3 2014년 06월 평가원 한국지리 13번

015 다음 중 발표 내용이 옳은 학생을 고른 것은?

학습 주제: 북한의 주요 개방 지역

㉠은 중국, 러시아의 인접 지역이며 1991년 유엔개발계획의 지원을 계기로 경제특구로 지정되었어.

㉡은 2002년 특별행정구로 지정되었고, 중국과의 주요 무역 통로야.

㉢은 남한의 자본 및 기술과 북한의 노동력이 결합된 공업 지구가 형성되어 있어.

㉣은 남한 민간 기업 투자로 관광 인프라가 구축된 곳으로 남한과 육로가 연결되어 있으나, 2008년에 남한과의 관광 사업이 중단되었어.

갑, 을, 병, 정

- ① 갑, 을      ② 갑, 병      ③ 을, 병      ④ 을, 정      ⑤ 병, 정

NOTEPLY™

# 정답과 해설

응답하라. 나의 수능 - 나를 알아주는 최적의 학습 시스템

[www.noteply.co.kr](http://www.noteply.co.kr)

1 정답 ④

하천에 의해 형성된 지형 특성

정답 해설 : 지형도에 나타난 하천은 과거에 곡류하던 하천이 유로 변경으로 인해 현재 하천의 양 측면에 구하도를 남긴 채 서쪽에서 동쪽으로 흐르고 있다.

ㄱ. A는 하천의 유속 감소로 인해 토사가 퇴적되면서 형성된 하천 퇴적 지형이다.

ㄴ. C는 원래 하천 맞은편 북쪽 지형과 연결된 지형이었으나 하천의 침식 작용으로 유로가 변경되면서 독립적인 구릉지로 남게 되었다.

ㄷ. D는 곡류 하도의 공격 사면에 해당되며 하천의 측방 침식을 지속적으로 받아 형성된 급사면이다.

[오답피하기]

ㄹ. B는 구하도의 일부이며, 등고선을 통해 하천 주변의 A보다 해발 고도가 약 10m정도 높은 지대임을 알 수 있다. 따라서 B는 하천 변에 위치한 A보다 범람에 의한 침수 가능성이 낮다.

2 [정답] ②

[출제의도] 하천 지형의 특징을 파악한다.

A는 하안 단구, B는 배후 습지, C는 자연 제방에 해당한다. 하안 단구는 퇴적층에서 둥근 자갈이 발견된다. ㉠은 퇴적 사면, ㉡은 공격 사면에 해당한다.

[오답풀이] ㄷ. 자연 제방이 배후 습지보다 퇴적 물질의 평균 입자 크기가 크다.

3 정답 ①

주요 하천 지형의 특성 이해

정답 해설 : 지도의 A는 하안 단구, B는 하천 운반 물질이 퇴적되어 있는 습지, C는 돌리네이다. 하안 단구는 지반의 융기 또는 해수면 변동과 하천 침식을 받아 형성된 계단 모양의 지형이다. 돌리네는 석회암이 빗물이나 지하수에 녹아 형성된 움푹 파인구덩이이다.

① 하안 단구의 퇴적층에는 둥근 자갈이나 모래가 분포하는데, 둥근 자갈이나 모래는 하천에 의해 운반되던 것이 퇴적된 것이다.

[오답피하기]

② 고위 평탄면은 오랜 풍화와 침식 작용으로 형성된 평탄해진 지형이 융기로 고도가 상승한 뒤에도 평탄한 기복의 흔적을 유지하고 있는 지형이다.

③ 석회암은 고생대에 바다 생물이 오랜 세월동안 땅속에 묻혀 형성된 암석이다. 중생대에 마그마가 관입하여 형성된 암석은 화강암이다.

④ 하안 단구는 범람원의 배후 습지보다 해발 고도가 높기 때문에 ○○강의 범람에 의한 침수 가능성이 낮다.

⑤ 습지는 점토 퇴적물이 많아 배수가 불량하며, 돌리네는 배수가 양호하여 주로 논으로 이용된다.

4 정답 ④

충청권의 시·도별 인구 특성

정답 해설 : 충청권의 시·도에는 세종, 대전, 충북, 충남 등이 있으며, 인구는 충남이 가장 많다. 따라서 (가)는 충남, (나)는 세종, (다)는 대전이다.

④ 노령화 지수는 (노년층 인구/유소년층 인구)×100으로 계산할 수 있다. 즉, (노년 부양비/유소년 부양비)×100으로 계산해도 동일한 값이 산출된다. 그래프를 토대로 노령화 지수는 충남(가) > 충북 > 대전(다) > 세종(나) 순으로 높다.

[오답피하기]

① (가)는 충남, (다)는 대전이다.

② (나)는 세종으로 충북이 세종보다 총인구가 월등히 많기 때문에 청장년층 인구는 충북이 세종(나)보다 많다.

③ 총 부양비는 유소년층 부양비와 노년층 부양비의 합이므로 충남(가) > 세종(나) > 충북 > 대전(다) 순으로 높다.

⑤ 세종은 유소년 부양비가 노년 부양비보다 높기 때문에 유소년층 인구가 노년층 인구보다 많다.

5 [정답] ②

ㄱ. 총 인구에서 청장년층이 차지하는 비중이 증가하여 총 부양비는 감소하였다. ㄷ. 유소년층은 감소, 노년층은 증가함에 따라 노령화 지수는 상승하였다.

[오답풀이] ㄹ. 청장년층은 증가하고 유소년층은 감소하였으므로 유소년 부양비는 감소하였다.

6 [정답] ④

[출제의도] 지역별 인구 및 주요 특징을 파악한다.

(가)는 양구, (나)는 화성, (다)는 서울이다. 최고차 중심지인 서울은 제조업이 발달한 화성보다 생산자 서비스업의 종사자 비중이 높다.

7 정답 ②

목포, 장수, 안동, 울릉도의 기후 특성 비교

정답 해설 : 지도에 표시된 네 지역은 전남 목포, 전북 장수, 경북 안동, 울릉도이다. 왼쪽 그래프에서 최난월 평균 기온은 (나)가 가장 높고 (다)가 가장 낮다. 따라서 (나)는 가장 남쪽에 위치한 목포, (다)는 해발 고도가 높은 장수이다. 나머지 (가), (라) 중 최한월 평균 기온이 높은 (라)는 울릉도이며, (가)는 안동이다.

오른쪽 그래프에서 계절별 강수 비중이 비교적 고르게 나타나는 B는 울릉도, 연 강수량이 가장 적은 D는 영남 내륙에 위치한 안동이다. 나머지 A, C 중 강수량이 많고 특히 여름철 강수 집중률이 높은 A는 내륙에 위치하고 여름철 남서 기류의 바람받이 사면에 해당하는 장수이며, C는 목포이다.

② 안동(가)은 장수(다)보다 고위도에 위치한다.

[오답피하기]

- ① (가)는 안동(D), (나)는 목포(C), (다)는 장수(A), (라)는 울릉도(B)이다.
- ③ 겨울 강수량은 울릉도(B) > 장수(A) > 목포(C) > 안동(D) 순으로 많다.
- ④ 기온의 연교차는 최한월 평균 기온과 최한월 평균 기온 간의 차이에 해당하므로 목포(C)는 약 24.4°C, 장수(A)는 약 26°C이다.
- ⑤ 최한월 평균 기온은 안동(D)이 약 -2.2°C, 울릉도(B)가 약 1.4°C이다.

8 정답: ②

부산, 인천, 제주의 기온 변화 이해

정답 해설 : 부산, 인천, 제주 중 겨울 평균 기온이 가장 높은 (다)는 제주, 겨울 평균 기온이 가장 낮은 (나)는 인천이며, 나머지 (가)는 부산이다.

ㄱ. (가)는 겨울 평균 기온이 인천보다 높고 제주보다 낮은 부산이다. (나)는 겨울 평균 기온이 가장 낮은 인천이다.

ㄷ. 세 도시의 위도는 인천>부산>제주의 순으로 높는데, 계절별 기온 변화 중 겨울 기온 상승 폭을 보면 인천(나)>부산(가)>제주(다)의 순으로 크다.

[오답피하기]

- ㄴ. 제주(다)가 인천(나)보다 무상 일수가 많다.
- ㄹ. 인천(나)은 겨울 기온, 제주(다)는 봄 기온이 가장 크게 상승하였다.

9 [정답] ③

[출제의도] 지역별 기온과 강수량 분포 특성을 파악한다. A는 강릉, B는 안동, C는 서귀포이다. 연 강수량이 가장 많고, 기온이 가장 높은 지역은 서귀포이다. 연 강수량이 가장 적고, 연교차가 가장 큰 지역은 내륙에 위치한 안동이다.

10 정답 ④

서울, 경기, 인천의 산업 구조 특성 이해

정답 해설 : 왼쪽의 <2·3차 산업 종사자 비율 및 총 종사자 수> 그래프에서 (나)는 인구가 가장 적은 인천이다. (가), (다) 중 3차 산업의 비율이 월등히 높은 (다)가 서울, (가)가 경기이다.

오른쪽의 <A~C 업종별 사업체 수 비교> 그래프에서 서울(다)의 사업체 수 상대값이 가장 높은 A는 전문 서비스업이다. B, C 중 서울(다)의 사업체 수 상대값이 상대적으로 높은 C는 전자 부품·컴퓨터·영상·음향 및 통신 장비 제조업이다. 나머지 B는 자동차 및 트레일러 제조업이다.

④ 자동차 및 트레일러 제조업 종사자 수는 울산광역시가 위치한 영남권이 수도권보다 많다.

[오답피하기]

- ① (가)는 경기, (나)는 인천, (다)는 서울이다.
- ② 수도권 시·도별 인구는 경기(가) > 서울(다) > 인천(나) 순으로 많다.
- ③ 전문 서비스업은 기업의 생산 활동을 지원하는 서비스업이기 때문에 생산자 서비스업에 포함된다.
- ⑤ 자동차 및 트레일러 제조업(B)은 전자 부품·컴퓨터·영상·음향 및 통신 장비 제조업(C)보다 최종 제품의 무게가 무겁고 부피가 크다.

11 [정답] ③

[출제의도] 우리나라 주요 공업의 특징을 이해한다.

(가)는 화학 물질 및 화학 제품(의약품 제외), (나)는 섬유 제품(의복 제외) 제조업이다.

[오답풀이] ①은 (나), ②는 (가)에 대한 설명이다. ④(가)는 (나)보다 생산비에서 노동비가 차지하는 비중이 낮다. ⑤(가)의 출하액은 울산이 가장 많고 (나)의 출하액은 경기도가 가장 많다.

12 정답 ⑤

해설: (가)는 전국에서 울산이 차지하는 비중이 약 50%이므로 석유 정제, (나)는 포항이 위치한 경북의 비중이 상대적으로 높으므로 1차 금속, (다)는 대구와 경북의 비중이 상대적으로 높으므로 섬유(의복 제외), (라)는 울산의 비중이 상대적으로 높지만 그 수치가 크지 않으므로 자동차 및 트레일러 제조업이다.

정답풀이: ⑤ 노동 집약적인 섬유(의복 제외) 공업은 자본기술 집약적인 석유 정제 공업에 비해 노동 생산성이 낮다.

오답풀이: ① 석유 정제는 전국에서 울산이 50% 이상을 차지하고 있으므로, 다른 제조업에 비해 특정 지역의 집중도가 높게 나타나고 있다. ② 자동차 및 트레일러 제조업은 많은 부품을 조립하여 제품을 생산하는 집적 지향형 공업이다. ③ 석유 정제와 1차 금속 공업은 중량의 원료를 해외에 의존하고 있어, 공업의 입지 유형 중 적한지 지향형에 해당한다. ④ 1차 금속 공업에서 생산된 철강 제품의 경우 자동차 공업의 원료로 이용된다.

13 정답 ③

북부 지방의 지역별 특성

정답 해설 : 지도에서 A는 청진, B는 신의주, C는 남포, D는 원산, E는 장전(금강산)이다.

A~E 중 중강진보다 연 강수량이 많은 지역은 A를 제외한 B~E 지역이다. 따라서 (가)는 청진(A)이다. 중강진의 연 강수량은 726.4mm이며 청진의 연 강수량은 622.2mm이다.

남북 분단 이전의 경의선 또는 경원선의 종점은 신의주(B), 원산(D)이다. 신의주(B)는 경의선의 종점, 원산(D)은 경원선의 종점이다. 신의주(B)와 원산(D) 중 2002년에

외자 유치 및 교역 확대를 위해 지정된 특별 행정구에 해당되는 지역은 신의주(B)이다. 따라서 (마)는 신의주(B), (라)는 원산(D)이다.

남포(C)와 장전(E) 중 큰 조차를 극복하기 위한 특수 항만 시설이 설치된 지역은 서해 갑문이 있는 남포(C)이다. 따라서 (다)는 남포(C), (나)는 장전(E)이다.

#### 14 [정답]

정답 ①

북한의 주요 지역 특성 이해

정답 해설 : ① (가)는 신의주(A)이다. 북한은 2002년에 강력한 개혁·개방 의지를 대내외에 표명하기 위해 홍콩식 일국양제를 모델로 삼아 신의주 특별 행정구를 독자적인 입법·행정·사법권과 토지 개발·이용·관리권을 부여하는 개방 지역으로 지정하였다. (나)는 남포(B)이다. 남포는 북한 최대의 공업 지역인 평양·남포 공업 지역 제2의 도시이며, 평양의 관문 역할을 담당하는 외항으로 서해 갑문이 건설되어 있다. 남포는 나선(나진·선봉)과 함께 특별시로 지정되어 있다. (다)는 나선(C)이다. 북한은 1991년에 유엔 개발 계획(UNDP)의 지원을 바탕으로 나진·선봉 일대를 경제 무역 지대로 지정하였다. 중국, 러시아와의 국경에 위치한 나선 경제특구는 태평양으로 진출하는 관문 역할을 기대하는 개방 지역이다.

[오답피하기] 지도의 D는 동해안에 위치한 원산·함흥 공업 지역의 중심 항만 도시인 원산이다.

#### 15 [정답] ⑤

북한의 개방 지역 특성 파악

정답 해설 : ㉠은 신의주 특별행정구, ㉡은 나선 경제특구, ㉢은 개성 공업 지구, ㉣은 금강산 관광 지구이다. 개성 공업 지구는 남한 기업이 진출해 있는 곳으로 남한의 자본과 기술, 북한의 노동력이 결합된 개방 지역이다. 금강산 관광 지구는 우리 기업의 투자로 관광 인프라가 구축되어 관광 산업이 활성화되었던 곳으로 2008년 이후 그 사업이 중단된 개방 지역이다.

[오답피하기]

같은 ㉡에 대한 설명을, ㉢에 대한 설명을 하고 있다.

Fit 하는 순간, 오답도 실력이 된다!

고3 2019년 06월 세계지리  
오답률 랭킹 5위

이지오답핏





■ 문항별 분석

번호	대분류	중분류	소분류	배점	결과
01	세계화와 지역이해	지리정보와 공간인식	서양의 세계지도	3	○
02	세계화와 지역이해	지리정보와 공간인식	지리정보체계	2	○
03	세계의 자연환경과 인간생활	열대 기후 환경	열대 기후 환경	2	○
04	세계의 인문환경과 인문경관	주요 에너지 자원과 국제 이동	에너지 자원	3	○
05	세계의 자연환경과 인간생활	온대 기후 경관	온대 기후 환경	2	○
06	세계의 자연환경과 인간생활	세계의 주요 대지형	대지형	3	○
07	세계의 자연환경과 인간생활	열대 기후 환경	세계의 기후 통합	3	X
08	세계의 인문환경과 인문경관	주요 식량 자원과 국제 이동	식량 작물	2	○
09	○세계 문화	축제문화	축제문화	2	○
10	세계의 자연환경과 인간생활	독특하고 특수한 지형	해안 지형	3	○
11	세계의 인문환경과 인문경관	주요 종교의 전파와 종교 경관	주요 종교 특징	3	X
12	유럽과 북아메리카	공업지역 형성과 변화	유럽 공업지역	3	○
13	몬순 아시아와 오세아니아	민족 및 종교적 차이	민족 분포	2	X
14	세계의 인문환경과 인문경관	세계도시와 세계 도시체계	도시화	2	○
15	평화와 공존의 세계	지구적 환경문제와 국제 협력	지구온난화	3	○
16	평화와 공존의 세계	세계평화와 정의를 위한 노력	지역 분쟁	2	X
17	세계의 인문환경과 인문경관	세계의 인구변천과 인구 이주	인구 이주	2	○
18	세계의 자연환경과 인간생활	건조?냉대?한대 기후 환경	빙하 지형 및 주빙하 지형	3	○
19	세계의 인문환경과 인문경관	세계의 인구변천과 인구 이주	인구 성장	2	X
20	○경제활동	서비스업	서비스업 특징	3	○

나의 오답 문항

고3 2019년 06월 평가원 세계지리 7번

이게 바로 핵심이야!

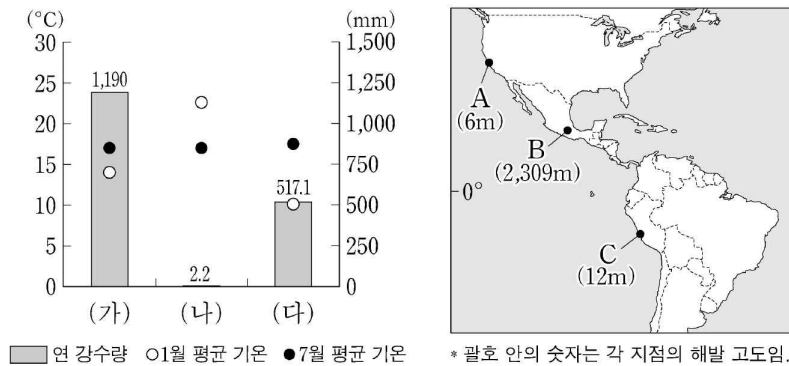
왜 틀렸지?

이것만은 기억하자!

문제

§ 세부단원정보 : 세계의 자연환경과 인간생활 | 열대 기후 환경 | 세계의 기후 통합

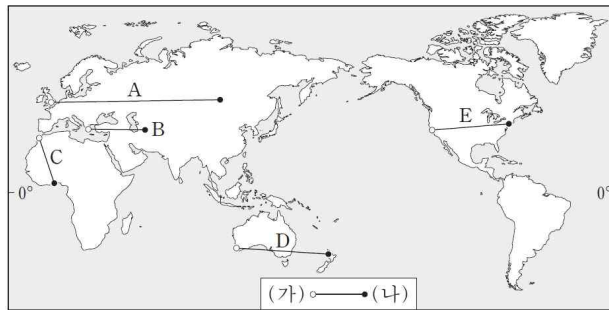
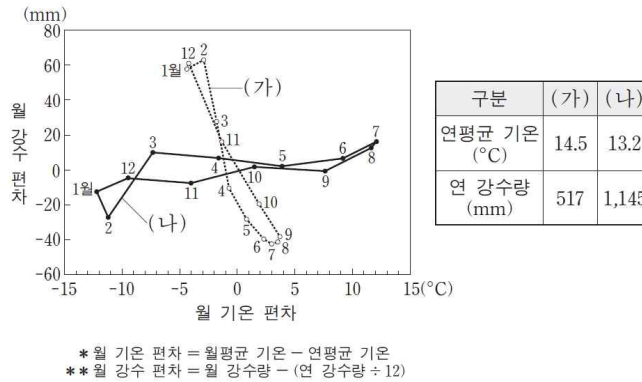
001 그래프는 지도의 A~C 지역의 기후에 관한 것이다. 이에 대한 설명으로 옳지 않은 것은? (단, (가)~(다)는 지도에 표시된 A~C 지역 중 하나임.) [3점]



- ① (다)는 A이다.
- ② (가)는 (나)보다 해발 고도가 높은 곳에 위치한다.
- ③ A는 C보다 1월 강수량이 많다.
- ④ B는 A보다 연 강수량이 많다.
- ⑤ C는 B보다 화학적 풍화가 활발하게 진행된다.

§ 출전 : 고3 2016년 수능 세계지리 10번

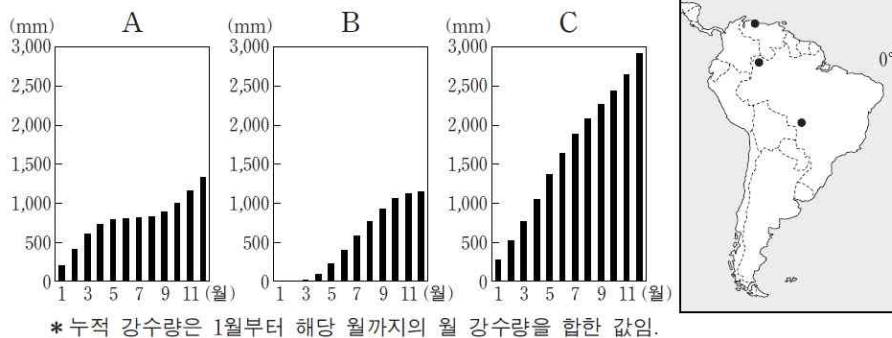
002 다음 자료는 (가), (나) 도시의 기후 특성을 나타낸 것이다. (가), (나)를 바르게 연결한 선을 지도의 A~E에서 고른 것은?



- ① A                      ② B                      ③ C                      ④ D                      ⑤ E

§ 출전 : 고3 2016년 수능 세계지리 7번

003 그래프는 지도에 표시된 세 지점의 누적 강수량을 나타낸 것이다. A~C에 대한 설명으로 옳은 것은? (단, 세 지점은 각각 A~C 중 하나임.)



- ① A에서는 7월보다 1월의 밤 길이가 길다.  
 ② A에서는 6~8월에 북동 무역풍이 우세하게 나타난다.  
 ③ B에서는 1월보다 7월에 정오의 태양 고도가 높다.  
 ④ C에서는 건기와 우기가 뚜렷하게 나타난다.  
 ⑤ C는 B보다 북회귀선에 가깝다.

나의 오답 문항

고3 2019년 06월 평가원 세계지리 11번

이게 바로 핵심이야!

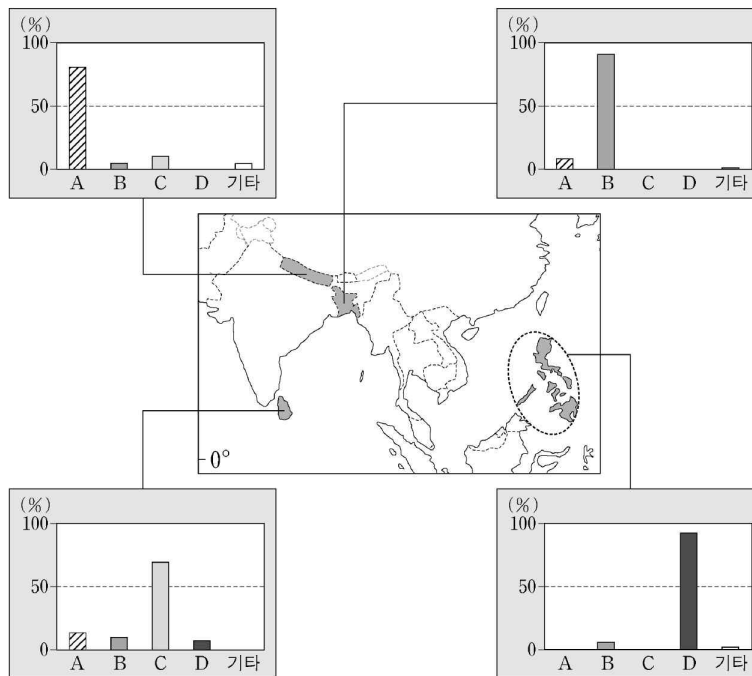
왜 틀렸지?

이것만은 기억하자!

문제

§ 세부단원정보 : 세계의 인문환경과 인문경관 | 주요 종교의 전파와 종교 경관 | 주요 종교 특징

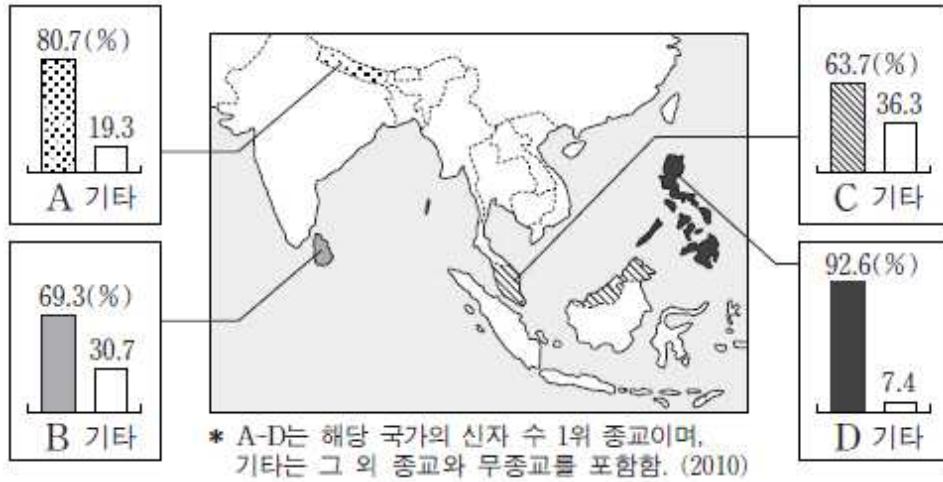
004 다음 자료는 네 국가의 종교별 신자 수 비중을 나타낸 것이다. A~D 종교에 대한 설명으로 옳은 것은? [3점]



- ① A의 신자 수가 가장 많은 국가는 인도이다.
- ② B는 쇠고기 먹는 것을 금기시한다.
- ③ C는 메카로의 성지 순례를 종교적 의무로 한다.
- ④ D의 종교 경관으로는 사리가 봉안된 탑과 불상이 있다.
- ⑤ A와 C의 발상지는 서남아시아에 위치한다.

§ 출전 : 고3 2016년 06월 평가원 세계지리 3번

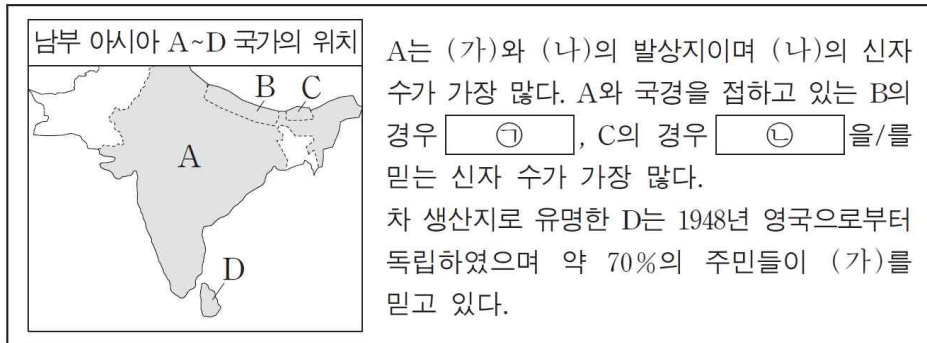
005 다음 자료의 A~D 종교에 대한 설명으로 옳지 않은 것은? [3점]



- ① A 신자 수가 세계에서 가장 많은 국가는 인도이다.
- ② B의 대표적 종교 경관은 첨탑과 둥근 지붕이 있는 모스크이다.
- ③ C의 주요 성지는 서남아시아의 메카와 메디나이다.
- ④ A는 쇠고기를, C는 돼지고기를 먹는 것을 금기시한다.
- ⑤ C와 D는 모두 유일신을 믿는 종교이다.

§ 출전 : 고3 2016년 수능 세계지리 2번

006 다음 자료의 (가), (나) 종교에 대한 설명으로 옳은 것은?



- ① (가)는 ㉠, (나)는 ㉡에 해당한다.
- ② (가)의 성지로는 부다가야가 있다.
- ③ (나)는 하나의 신만을 인정하는 유일신교이다.
- ④ (나)의 대표적 종교 경관은 첨탑과 둥근 지붕이 있는 모스크이다.
- ⑤ (가)는 민족 종교, (나)는 보편 종교에 해당한다.

나의 오답 문항

고3 2019년 06월 평가원 세계지리 13번

이게 바로 핵심이야!

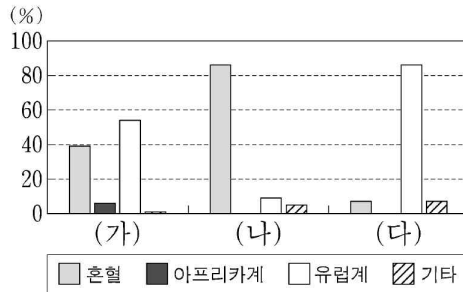
왜 틀렸지?

이것만은 기억하자!

문제

§ 세부단원정보 : 문순 아시아와 오세아니아 | 민족 및 종교적 차이 | 민족 분포

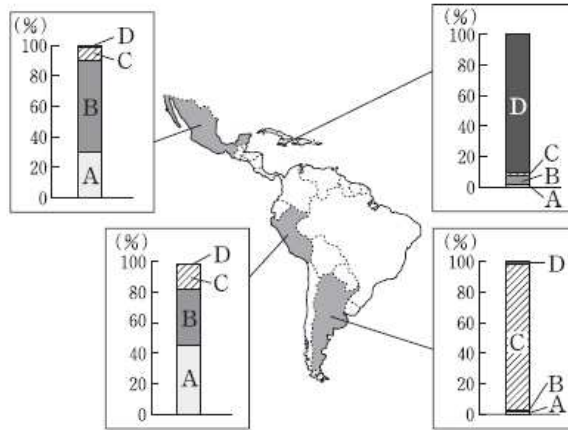
007 그래프는 세 국가의 인종(민족)별 비중을 나타낸 것이다. (가)~(다)에 해당하는 국가를 지도의 A~C에서 고른 것은?



- |   | (가) | (나) | (다) |
|---|-----|-----|-----|
| ① | A   | B   | C   |
| ② | A   | C   | B   |
| ③ | B   | A   | C   |
| ④ | B   | C   | A   |
| ⑤ | C   | B   | A   |

§ 출전 : 고3 2014년 06월 평가원 세계지리 8번

008 지도는 라틴아메리카 일부 국가의 인종(민족) 비율을 나타낸 것이다. A~D에 대한 옳은 설명을 <보기>에서 고른 것은?



\*A-D 이외의 인종(민족)은 표시하지 않음.

< 보기 >

- ㄱ. A의 조상들은 잉카 및 아스텍아 문명을 발달시켰다.
- ㄴ. B는 아프리카계 흑인으로 과거 플랜테이션을 위해 강제로 이주되었다.
- ㄷ. C는 유럽계 백인으로 주로 가톨릭교를 믿고 있다.
- ㄹ. D는 아메리카 원주민, 유럽계 백인, 아프리카계 흑인 사이의 혼혈이다.

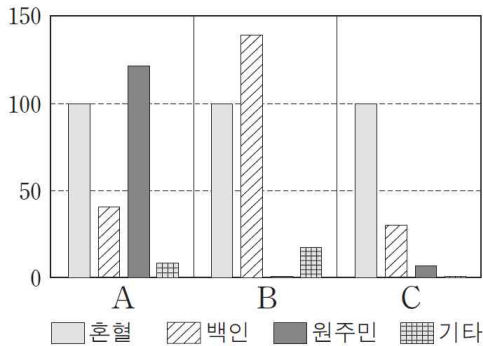
- ① ㄱ, ㄴ      ② ㄱ, ㄷ      ③ ㄴ, ㄷ      ④ ㄴ, ㄹ      ⑤ ㄷ, ㄹ

§ 출전 : 고3 2015년 수능 세계지리 6번

009 다음 글의 (가), (나) 국가를 그래프의 A~C에서 고른 것은?

(가) 수도인 리마에는 식민 지배를 받던 시기의 유럽풍 도시 경관이 남아 있으며, 안데스 산지에 있는 쿠스코와 마추픽추는 잉카 문명의 유적지로 유명하다.

(나) 남북의 길이가 4,000km 정도로 좁고 긴 국토 모양을 갖고 있는 이 나라는 다양한 기후가 나타나며, 수도는 산티아고이다. 여름이 덥고 건조한 지중해성 기후 지역을 중심으로 포도가 많이 재배되고 있다.



\*각 국가의 혼혈 인구수를 100으로 하여 인종(민족)별 인구수를 상대적으로 나타낸 것임.

- |   |     |     |
|---|-----|-----|
|   | (가) | (나) |
| ① | A   | B   |
| ② | A   | C   |
| ③ | B   | C   |
| ④ | C   | A   |
| ⑤ | C   | B   |

## 나의 오답 문항

고3 2019년 06월 평가원 세계지리 16번

이게 바로 핵심이야!

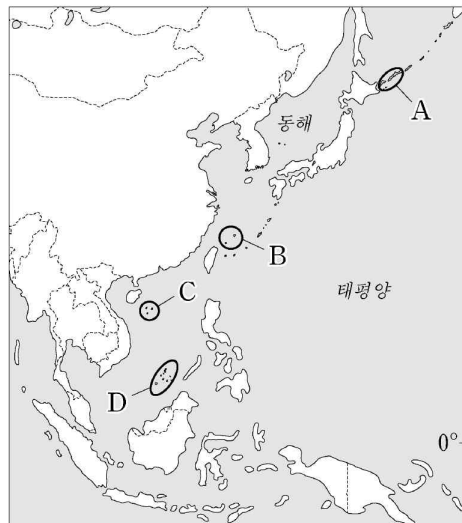
왜 틀렸지?

이것만은 기억하자!

## 문제

§ 세부단원정보 : 평화와 공존의 세계 | 세계평화와 정의를 위한 노력 | 지역 분쟁

010 지도의 A~D 지역에서 나타나는 분쟁에 대한 설명으로 옳은 것은?

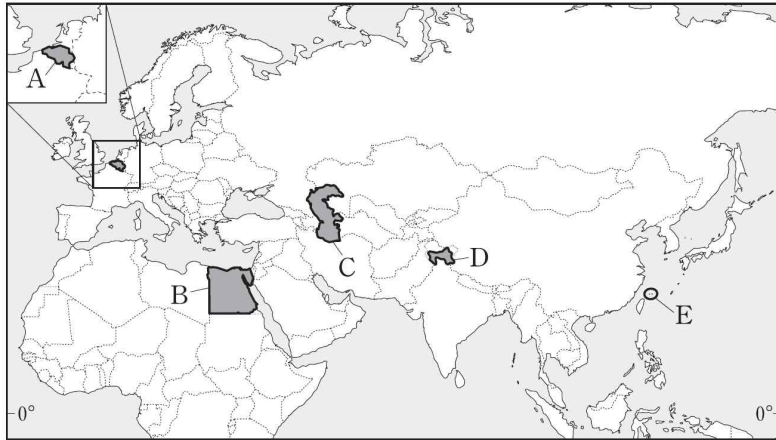


- ① A는 현재 일본이 실효 지배를 하고 있다.
- ② B의 분쟁은 중국과 미국 간의 영토 분쟁이다.
- ③ D의 분쟁 원인은 종교 갈등이다.
- ④ C는 D보다 분쟁 당사국의 수가 적다.
- ⑤ 필리핀은 C, D 분쟁의 당사국이다.



§ 출전 : 고3 2017년 수능 세계지리 20번

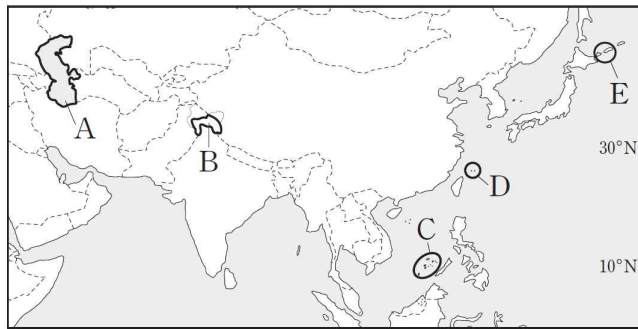
011 지도는 갈등 및 분쟁 지역을 나타낸 것이다. A~E 지역에 대한 설명으로 옳지 않은 것은?



- ① A - 서로 다른 언어를 사용하는 지역 간에 갈등이 있다.
- ② B - 수자원을 둘러싸고 하천 상류에 위치한 국가와 갈등이 있다.
- ③ C - 갈등 당사국에는 러시아가 포함되어 있다.
- ④ D - 이슬람교와 힌두교 간의 갈등이 있다.
- ⑤ E - 영유권 문제로 중국과 필리핀 간의 갈등이 있다.

§ 출전 : 고3 2015년 수능 세계지리 5번

012 지도의 A~E에서 나타나는 분쟁에 대한 설명으로 옳은 것은? [3점]



- ① A 분쟁은 사막화로 인한 용수 부족이 가장 큰 원인이다.
- ② B 분쟁은 이슬람교와 크리스티교 간의 갈등이 주요 원인이다.
- ③ C 분쟁은 D 분쟁보다 당사국 수가 적다.
- ④ D는 중국이 실효적으로 지배하고 있다.
- ⑤ E 분쟁 당사국과 A 분쟁 당사국에는 같은 국가가 포함되어 있다.

나의 오답 문항

고3 2019년 06월 평가원 세계지리 19번

이게 바로 핵심이야!

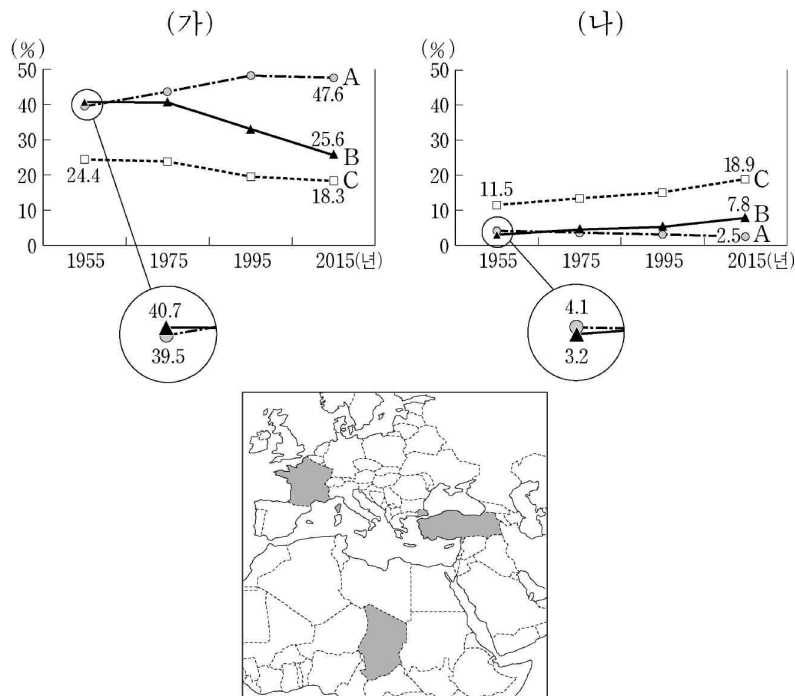
왜 틀렸지?

이것만은 기억하자!

문제

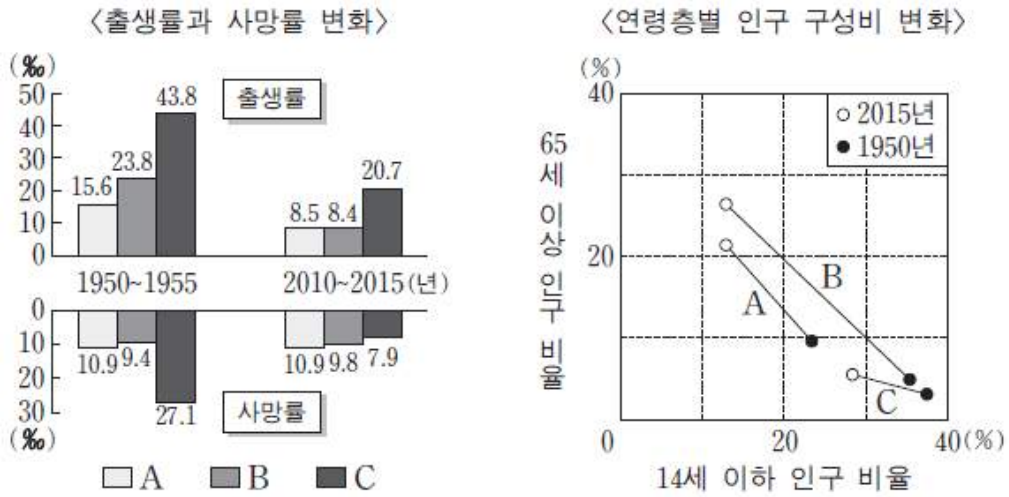
§ 세부단원정보 : 세계의 인문환경과 인문경관 | 세계의 인구변천과 인구 이주 | 인구 성장

013 그래프는 지도에 표시된 세 국가의 연령층별 인구 비율 변화를 나타낸 것이다. 이에 대한 설명으로 옳은 것은? (단, (가), (나)는 0~14세, 15~64세, 65세 이상 인구 비율 중 하나이고, A~C는 지도에 표시된 세 국가 중 하나임.)



- ① (가)는 15~64세, (나)는 0~14세 인구 비율이다.
- ② A는 유럽, C는 아프리카에 위치한다.
- ③ 1955년 대비 2015년 A의 총 부양비는 감소하였다.
- ④ 1955년 대비 2015년 B의 노년 부양비는 증가하였다.
- ⑤ 2015년 B는 C보다 중위 연령이 높다.

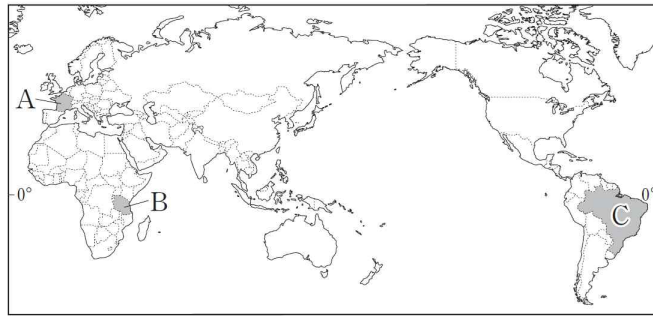
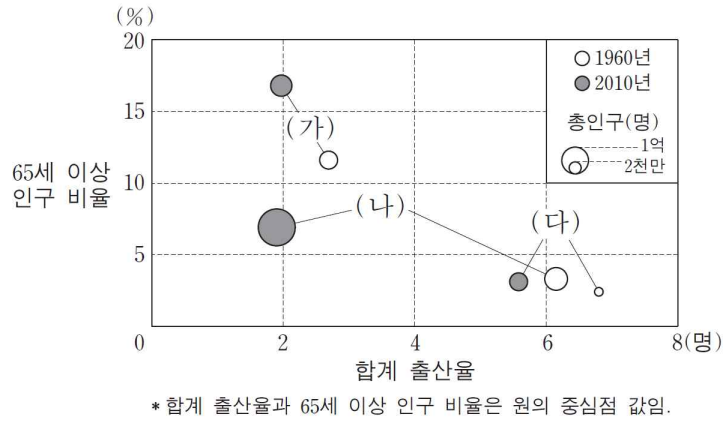
014 그래프는 A~C국가의 인구 변화를 나타낸 것이다. 이에 대한 설명으로 옳은 것은?



- ① 1950년 생산 연령층 인구 비율이 가장 낮은 국가는 A이다.
- ② 1950~1955년에 인구의 자연 증가율은 B가 가장 높다.
- ③ 2015년에 피라미드형 인구 구조가 나타나는 국가는 A와 B이다.
- ④ 2015년 유소년 인구 부양비는 C가 B보다 높다.
- ⑤ 2010~2015년에 A~C'국가 중 출생률이 가장 낮은 국가는 C이다.

§ 출전 : 고3 2015년 09월 평가원 세계지리 20번

015 그래프의 (가)~(다)에 해당하는 국가를 지도의 A~C에서 고른 것은?



- |   |     |     |     |   |     |     |     |   |     |     |     |
|---|-----|-----|-----|---|-----|-----|-----|---|-----|-----|-----|
|   | (가) | (나) | (다) |   | (가) | (나) | (다) |   | (가) | (나) | (다) |
| ① | A   | B   | C   | ② | A   | C   | B   | ③ | B   | A   | C   |
| ④ | B   | C   | A   | ⑤ | C   | B   | A   |   |     |     |     |

NOTEPLY™

# 정답과 해설

응답하라. 나의 수능 - 나를 알아주는 최적의 학습 시스템

[www.noteply.co.kr](http://www.noteply.co.kr)

1 정답 ⑤

세계 주요 지역의 위치에 따른 기후 특성 이해

정답 해설 : (가)는 기온의 연교차가 작은 상춘 기후가 나타나는 지역으로 지도의 B이다. (나)는 1월 평균 기온이 7월 평균 기온보다 높아 남반구에 위치하며, 연강수량이 2.2mm로 사막 기후에 해당하는 지역으로 지도의 C이다. (다)는 온대 기후에 속하며 7월 평균 기온이 1월 평균 기온보다 높아 북반구에 위치한 지역으로 지도의 A이다.

⑤ 화학적 풍화 작용은 주로 고온 다습한 지역에서 활발하게 진행된다. C는 연강수량이 2.2mm인 사막 기후 지역으로 B보다 화학적 풍화가 활발하게 진행되지 않는다. [오답피하기]

① (다)는 7월 평균 기온이 1월 평균 기온보다 높아 북반구에 위치한다. 또한, (다)는 (가)보다 기온의 연교차가 크므로 (가)보다 고위도에 위치한다. 따라서, (다)는 A이다.

② (가)는 지도의 B이며, (나)는 지도의 C이다. 지도의 B는 해발 고도가 2,309m로 C보다 해발 고도가 높은 곳에 위치한다.

③ A는 기후 그래프의 (다), C는 기후 그래프의 (나)이다. A는 지중해성 기후가 나타나는 지역으로 1월에 습윤한 반면, C는 사막 기후가 나타난다. 따라서 A는 C보다 1월 강수량이 많다.

④ B는 기후 그래프의 (가), A는 기후 그래프의 (다)이다. B는 연 강수량이 1,190mm로 A보다 연 강수량이 많다.

2 정답 ⑤

지중해성 기후와 온난 습윤 기후의 특성 파악

정답 해설 : 그래프의 월 기온 편차와 표의 연 평균 기온을 통해서 해당 월의 평균 기온을 파악할 수 있다. (가)는 최한월인 1월의 평균 기온이 약 10.5°C(연 평균 기온 14.5°C + 기온 편차 약 -4°C)이고, 최난월인 9월의 평균 기온이 약 18°C이다. 또한 월 강수 편차를 통해서 이 지역이 기온이 높은 여름철에 강수량이 적고 기온이 낮은 겨울철에 강수량이 많은 지역임을 알 수 있다. 이와 같은 기후 특성을 보이는 지역은 북반구의 지중해성 기후 지역이다.

(나)는 최한월인 1월의 평균 기온이 약 1°C이고, 최난월인 7월의 평균 기온이 약 25°C이다. 또한 월 강수 편차가 비교적 작다. 이와 같은 기후 특성을 보이는 지역은 북반구의 대륙 동안에서 주로 나타나는 온난 습윤 기후 지역이다.

⑤ E의 (가)는 북아메리카 대륙 서안의 지중해성 기후 지역에, (나)는 북아메리카 대륙 동안의 온난 습윤 기후 지역에 해당한다.

[오답피하기]

① A의 (가)는 유라시아 대륙 서안의 서안 해양성 기후

지역에, (나)는 시베리아 남부의 냉대 동계 건조 기후 지역에 해당한다.

② B의 (가)는 남부 유럽의 지중해성 기후 지역에, (나)는 중앙아시아의 건조 기후 지역에 해당한다.

③ C의 (가)는 북아프리카의 지중해성 기후 지역에, (나)는 기니 만 연안의 열대 사바나 기후 지역에 해당한다.

④ D는 남반구에 해당하므로 그래프에 제시된 두 지역과 계절이 반대이다. (가)는 오스트레일리아 대륙 서안에 위치한 지중해성 기후 지역에, (나)는 뉴질랜드의 서안 해양성 기후 지역에 해당한다.

3 정답 ③

열대 우림 기후와 사바나 기후의 특징 이해

정답 해설 : 자료의 누적 강수량 그래프와 지도에 표시된 지점들을 보면 A는 7월을 중심으로 강수량이 적은 건기가 나타나므로 지도에 표시된 세 지점 중 남반구에 위치한 사바나 기후 지역임을 알 수 있다. B는 1월을 중심으로 건기가 나타나므로 북반구에 위치한 사바나 기후 지역임을 알 수 있다. C는 연중 강수량이 많고 고른 편이므로 적도에 인접한 열대 우림 기후 지역임을 알 수 있다.

③ B 지점은 북반구의 사바나 기후 지역으로 지도에서 적도 북쪽에 위치한 지점이다. 이 지점에서는 북반구의 하지에 가까운 시기인 7월이 동지에 가까운 시기인 1월보다 정오의 태양 고도가 높다.

[오답피하기]

① A 지점은 남반구의 사바나 기후 지역으로 지도에서 적도 남쪽에 위치한 지점이다. 남반구에서는 겨울에 해당하는 7월이 1월보다 밤의 길이가 길다.

② A 지점은 남반구에 위치해 있으므로 6~8월에 북동 무역풍의 영향을 받지 않는다.

④ 세 지점 중 건기와 우기가 뚜렷하게 나타나는 곳은 사바나 기후가 나타나는 A와 B이다. 열대 우림 기후가 나타나는 C는 연중 습윤한 지역이다.

⑤ C는 적도에 위치한 지점이고 B는 적도 북쪽 북반구에 위치한 지점이다. 따라서 B가 C보다 북위 23도 27분에 해당하는 북회귀선에 가깝다.

4 정답 ①

세계의 주요 종교 특성 이해

정답 해설 : 지도에 표시된 네 국가는 네팔, 방글라데시, 스리랑카, 필리핀이다. 네팔에서 신자 비중이 가장 높은 A는 힌두교, 방글라데시에서 신자 비중이 가장 높은 B는 이슬람교이다. 스리랑카에서 신자 비중이 가장 높은 C는 불교, 필리핀의 신자 비중이 가장 높은 D는 크리스티교이다.

① 힌두교(A)의 신자 수가 가장 많은 국가는 인도이다.

[오답피하기]

- ② 이슬람교(B)는 돼지고기 먹는 것을 금기시한다. 쇠고기 먹는 것을 금기시하는 종교는 힌두교(A)이다.
- ③ 메카로의 성지 순례를 종교적 의무로 하는 종교는 이슬람교(B)이다.
- ④ 종교 경관으로 사리가 봉안된 탑과 불상이 있는 종교는 불교(C)이다.
- ⑤ 힌두교(A)와 불교(C)의 발상지는 남부 아시아에 위치한다.

5 [정답] ②

아시아의 종교 분포와 각 종교의 특징 이해  
 정답 해설 : 신자 수 1위 종교를 토대로 A ~ D 종교를 파악할 수 있다. A는 네팔에서 1위이므로 힌두교, B는 스리랑카에서 1위이므로 불교, C는 말레이시아에서 1위이므로 이슬람교, D는 필리핀에서 1위이므로 크리스티교이다. ② 불교의 대표적인 종교 경관은 불상, 사리탑 등이다. 첨탑과 둥근 지붕이 있는 모스크가 대표적 경관인 종교는 이슬람교이다.

- [오답피하기] ① 힌두교는 인도의 민족 종교로 신자의 대부분이 인도에 분포한다.
- ③ 이슬람교의 주요 성지는 사우디아라비아에 위치한 메카와 메디나, 이스라엘에 위치한 예루살렘 등이다.
  - ④ 힌두교는 소를 신성시하기 때문에 쇠고기를 금기시하고 이슬람교는 경전인 쿠란에 돼지고기를 먹지 말라고 되어 있기 때문에 돼지고기를 금기시한다.
  - ⑤ 크리스티교와 이슬람교는 모두 유일신교이다.

6 정답 ②

남부 아시아의 종교 분포 이해  
 정답 해설 : 지도의 A는 인도, B는 네팔, C는 부탄, D는 스리랑카이다. 네 국가 중 인도(힌두교 약 80%)와 네팔(힌두교 약 80%)의 신자 수 1위 종교는 힌두교이므로 (나)와 ㉠은 힌두교이다. 부탄(불교 약 75%)과 스리랑카(불교 약 70%)의 신자 수 1위 종교는 불교이므로 (가)와 ㉡은 불교이다.

② 인도에서 발생한 불교의 주요 성지로는 인도 북부에 위치한 부다가야가 있다.

[오답피하기]

- ① 인도가 발상지이며 스리랑카에서 신자 수가 가장 많은 (가)는 불교이며, 네팔에서 신자 수가 가장 많은 ㉠은 힌두교이다. 인도가 발상지이며 인도에서 신자 수가 가장 많은 (나)는 힌두교이며, 부탄에서 신자 수가 가장 많은 ㉡은 불교이다.
- ③ 힌두교는 수많은 신을 인정하는 다신교이다.
- ④ 힌두교의 대표적 종교 경관으로는 사원의 입구 위쪽에 솟아 있는 첨탑의 벽면에 각양각색의 신들이 조각되어 있는 모습이 있다. 첨탑과 둥근 지붕이 있는 모스크

- 는 이슬람교의 대표적 종교 경관이다.
- ⑤ 불교는 보편 종교에, 힌두교는 민족 종교에 해당한다.

7 정답 ①

라틴 아메리카의 인종(민족) 특성 이해  
 정답 해설 : (가)는 혼혈과 유럽계의 비중이 높은 국가이며, (나)는 혼혈, (다)는 유럽계의 비중이 높은 국가이다. 지도의 A는 브라질, B는 파라과이, C는 아르헨티나이다. ① (가)는 유럽계와 혼혈의 비중이 높은 브라질(A), (나)는 혼혈의 비중이 80% 이상을 차지하는 파라과이(B), (다)는 유럽계의 비중이 80% 이상을 차지하는 아르헨티나(C)이다. 유럽계는 대체로 기후 조건이 좋은 브라질의 남동부 해안이나 아르헨티나, 우루과이에 주로 분포한다.

8 [정답] ②

라틴아메리카의 인종(민족) 분포와 특징 이해  
 정답 해설 : A는 페루에서 가장 높은 비중이므로 아메리카 원주민, B는 멕시코에서 가장 높은 비중이므로 혼혈인, C는 아르헨티나에서 가장 높은 비중이므로 유럽계, D는 자메이카에서 가장 높은 비중이므로 아프리카계이다. ㄱ. 잉카 문명은 안데스 산지를, 아스테카 문명은 멕시코의 고산 지대를 중심으로 발달했던 고대 문명이다. ㄷ. 라틴아메리카의 유럽계 백인은 주로 가톨릭교를 믿는다. 이는 라틴아메리카로 이주해 온 유럽계 백인들이 대부분 가톨릭교를 믿는 에스파냐, 포르투갈에서 많이 이주해 왔기 때문이다.

[오답피하기]

- ㄴ. 아프리카계 흑인으로 과거 플랜테이션을 위해 강제로 이주된 인종(민족)의 후손은 D이다.
- ㄹ. D는 아프리카계 흑인이다. 혼혈에 해당하는 것은 B이다.

9 정답 ②

라틴아메리카 주요 국가의 인종(민족) 구성 특성 이해  
 정답 해설 : 라틴아메리카의 국가별 인종(민족) 구성에서 볼리비아와 페루는 원주민의 비중이 가장 높고, 아르헨티나, 우루과이 등은 백인의 비중이 가장 높으며, 칠레, 멕시코 등은 혼혈의 비중이 가장 높다. (가)는 페루, (나)는 칠레의 특징이다. 페루의 인종(민족)별 인구수는 원주민 > 혼혈 > 백인 순으로 많고, 칠레의 인종(민족)별 인구수는 혼혈 > 백인 > 원주민 순으로 많다. 그래프 A~C의 인종(민족)별 인구수에서 A는 원주민 > 혼혈 > 백인 순으로 많고, B는 백인 > 혼혈 > 원주민 순으로 많으며 C는 혼혈 > 백인 > 원주민 순으로 많다. 따라서 페루(가)에 해당되는 것은 A, 칠레(나)에 해당되는 것은 C이다.

## 10 정답 ④

세계의 주요 분쟁 이해

정답 해설 : A는 쿠릴(지시마) 열도, B는 센카쿠 열도(다오위다오), C는 시사(파라셀, 호양사) 군도, D는 난사(스프레틀리, 쑤잉사) 군도이다.

④ 시사(파라셀, 호양사) 군도(C)의 분쟁 당사국은 중국, 베트남, 타이완이며, 난사(스프레틀리, 쑤잉사) 군도(D)의 분쟁 당사국은 중국, 필리핀, 말레이시아, 베트남, 타이완, 브루나이이다. 따라서 C는 D보다 분쟁 당사국의 수가 적다.

[오답피하기]

① 쿠릴(지시마) 열도(A)를 현재 실효 지배하고 있는 국가는 러시아이다.

② 센카쿠 열도(다오위다오)(B)의 분쟁은 일본과 중국, 타이완 간의 갈등이다.

③ 난사(스프레틀리, 쑤잉사) 군도(D)의 분쟁은 주변에 분포하는 석유와 천연가스 등의 자원을 둘러싼 갈등이다.

⑤ 필리핀은 난사(스프레틀리, 쑤잉사) 군도(D)의 분쟁 당사국이지만, 시사(파라셀, 호양사) 군도(C)의 분쟁 당사국에는 포함되지 않는다.

## 11 정답: ⑤

세계의 갈등 및 분쟁 지역의 원인 파악

정답 해설: A는 벨기에, B는 이집트, C는 카스피 해, D는 카슈미르 지역, E는 센카쿠 열도(다오위다오)이다

⑤ 센카쿠 열도(다오위다오)는 일본, 중국, 타이완 간의 영유권 분쟁이 있는 곳이다.

[오답피하기]

① 벨기에에서는 네덜란드어를 사용하는 지역과 프랑스어를 사용하는 지역 간의 갈등이 있다.

② 이집트는 나일 강 상류 국가(에티오피아, 수단, 우간다 등)의 댐 건설로 인한 수자원 부족 문제로 갈등이 있다.

③ 카스피 해에서는 석유, 천연가스 등의 자원 개발을 둘러싼 연안국인 러시아, 카자흐스탄, 투르크메니스탄, 이란, 아제르바이잔이 대립하고 있다

④ 카슈미르 분쟁은 이슬람교의 파키스탄과 힌두교의 인도 간의 종교를 둘러싼 갈등이 주요 원인이다.

## 12 정답 ⑤

주요 분쟁 지역의 위치와 특징 이해

정답 해설 : A는 카스피 해에 매장되어 있는 자원 개발을 둘러싼 카스피 해 연안국들 간의 갈등, B는 인도와 파키스탄 간의 영토 분쟁인 카슈미르 분쟁이다. C는 남중국해 남부 해역의 여러 섬을 둘러싼 영토 분쟁인 난사

(스프레틀리, 쑤잉사) 분쟁, D는 중국(타이완 포함)과 일본 간의 동중국해 5개의 무인도와 3개의 암초 영유권을 둘러싼 분쟁인 센카쿠 열도(다오위다오) 분쟁, E는 쿠릴 열도 최남단 4개 도서의 영유권을 둘러싼 일본과 러시아 간의 분쟁인 쿠릴(지시마) 열도 분쟁이다.

⑤ 쿠릴(지시마) 열도 분쟁의 당사국은 러시아와 일본이다. 카스피 해 분쟁 당사국에는 이란, 러시아, 카자흐스탄, 아제르바이잔 등이 있다. 러시아는 두 분쟁에 대해 모두 당사국이다.

[오답피하기] ① 카스피 해 분쟁은 카스피 해에 매장되어 있는 석유, 천연가스 등의 자원 개발을 둘러싼 분쟁이다.

② 카슈미르 분쟁과 관련된 주된 종교는 이슬람교와 힌두교이다.

③ 난사(스프레틀리, 쑤잉사) 군도 분쟁 당사국은 중국(타이완 포함), 베트남, 필리핀, 브루나이, 말레이시아이고, 센카쿠 열도(다오위다오) 분쟁 당사국은 중국(타이완 포함), 일본이다.

④ 센카쿠 열도(다오위다오)는 2015년 현재 일본이 지배하고 있다.

## 13 정답 ④

세계 주요 국가의 인구 구조 변화 이해

정답 해설 : (가)는 1955년 A와 B의 비율이 약 40%이며, 2015년 C의 비율이 약 18.3%이다. 1955년에 65세 이상의 인구 비율이 약 40%인 국가는 없었으며, 2015년에 15~64세의 인구 비율이 약 18.3%인 국가는 없으므로 (가)는 0~14세 인구 비율이다. (나)는 2015년 A의 비율이 약 2.5%이다. 2015년 15~64세의 인구 비율이 약 2.5%인 국가는 없으므로 (나)는 65세 이상의 인구 비율이다. 지도에 표시된 세 국가는 프랑스, 터키, 차드이며 2015년 유소년층(0~14세)의 인구 비율이 가장 높고 노년층(65세 이상)의 인구 비율이 가장 낮은 A는 차드이다. 2015년 유소년층(0~14세)의 인구 비율이 가장 낮고, 노년층(65세 이상)의 인구 비율이 가장 높은 C는 프랑스이며, B는 터키이다.

④ 1955년 터키(B)의 유소년층 인구 비율은 40.7%, 노년층 인구 비율은 3.2%이므로, 청장년층 인구 비율은  $100 - (40.7 + 3.2) = 56.1\%$ 이다. 따라서 1955년 터키(B)의 노년 부양비는  $3.2 / 56.1 \times 100$ 이다. 2015년 터키의 유소년층 인구 비율은 25.6%, 노년층 인구 비율은 7.8%이므로 청장년층 인구 비율은  $100 - (25.6 + 7.8) = 66.6\%$ 이다. 따라서 2015년 터키(B)의 노년 부양비는  $7.8 / 66.6 \times 100$ 으로 1955년( $3.2 / 56.1 \times 100$ )에 비해 증가하였다.

[오답피하기]

① (가)는 0~14세의 유소년층, (나)는 65세 이상의 노년층 인구 비율이다.

② 차드(A)는 아프리카, 프랑스(C)는 유럽에 위치한다.



- ③ 1955년 대비 2015년 차드(A)에서는 유소년 인구 비율은 약 8%p 증가하였으며, 노년층 인구 비율은 약 1.6%p 감소하였다. 따라서 유소년과 노년층 인구 비율의 합은 증가하였고 차드(A)의 총 부양비는 증가하였다.
- ⑤ 2015년 터키(B)는 프랑스(C)보다 유소년층 인구 비율이 높고, 노년층 인구 비율이 낮다. 따라서 터키(B)는 프랑스(C)보다 중위 연령이 낮다.

14 [정답] ④

국가별 인구 자료 해석

정답 해설 : 출생률과 사망률을 통해 인구의 자연 증가율을 알 수 있고, 14세 이상 인구 비율과 65세 이상 인구 비율을 통해 생산 연령층 인구(15~64세) 비율을 알 수 있다. ④ 유소년 인구 부양비는 유소년 인구 비율을 생산 연령층 인구 비율로 나눈 후 100을 곱하여 구할 수 있다. 2015년 B와 C의 유소년 인구 부양비는 아래 표와 같다.(표의 수치는 그래프에서 개략적으로 파악한 값이다.)

구분	인구 비율			유소년 인구 부양비
	14세 이하	65세 이상	15~64세	
B	13	27	60	$(13 \div 60) \times 100$
B	28	6	66	$(28 \div 66) \times 100$

따라서 유소년 인구 부양비는 C가 B보다 높다.

[오답피하기] ① 1950년의 A ~ C 국가의 생산 연령층 인구(15~64세) 비율은 아래 표와 같다.

구분	인구비율		
	14세 이하	65세 이상	15~64세
A	23	10	67
B	35	5	6060
C	37	3	

따라서 생산 연령층 인구 비율은 A가 가장 높다.

② 인구의 자연 증가율은 출생률에서 사망률을 뺀 값이다. 1950 ~ 1955년에 인구의 자연 증가율은 A 4.7 %, B 14.4 %, C 16.7 %로 C가 가장 높다.

③ 피라미드 형 인구 구조는 출생률과 인구 증가율이 높은 국가에서 잘 나타난다. 그런데 A와 B 국가는 2015년에 출생률보다 사망률이 높으므로 피라미드 형 인구 구조가 나타나지 않는다.

⑤ 2010 ~ 2015년에 A ~ C 중에서 출생률이 가장 낮은 국가는 B이다.

15 정답 ②

선진국과 개발도상국의 인구 구조 이해

정답 해설 : 그래프에 나타난 65세 이상 인구 비율과 합계 출산율, 총인구의 변화를 지도의 세 국가와 연계시켜 해당 국가를 찾을 수 있다. 세 국가는 서유럽의 프랑스 중남부 아프리카의 탄자니아, 라틴아메리카의 브라질이다. 산업화 수준과 소득 수준 모두 프랑스가 가장 높고 탄자니아가 가장 낮다.

그래프에서 (가)는 1960년과 2010년 모두 65세 이상 인구 비율이 가장 높고 1960년의 합계 출산율이 가장 낮으며 1960년과 2010년의 인구 수 차이가 작다. 따라서 (가)는 세 국가 중에서 가장 먼저 산업화를 겪은 국가이다. (나)는 1960년 합계 출산율이 높았지만 2010년에는 (가) 수준으로 낮아졌으며 인구가 빠르게 증가한 국가이다. (다)는 1960년과 2010년 모두 65세 이상 인구 비율은 낮고 합계 출산율은 높으므로 산업화수준이 낮은 국가이다. 따라서 (가)는 A, (나)는 C, (다)는 B이다.

Fit 하는 순간, 오답도 실력이 된다!

고3 2019년 06월 사회문화  
오답률 랭킹 5위

이지오답핏



## ■ 문항별 분석

번호	대분류	중분류	소분류	배점	결과
01	사회·문화 현상의 탐구	사회·문화 현상의 이해	특징	2	○
02	사회·문화 현상의 탐구	사회·문화 현상의 이해	관점	3	○
03	사회·문화 현상의 탐구	사회·문화 현상의 탐구절차와 ...	탐구 절차	3	X
04	문화와 일상생활	현대사회의문화 양상	대중 문화	2	○
05	개인과 사회 구조	사회적 존재로서 인간	개인과 사회 관계	2	○
06	개인과 사회 구조	사회적 존재로서 인간	지위와 역할	3	○
07	개인과 사회 구조	사회구조와 일탈행동	일탈행동	3	X
08	문화와 일상생활	문화의 이해	속성	2	○
09	현대의 사회변동	사회변동과 사회운동	사회변동	2	○
10	문화와 일상생활	문화 변동의 이해	요인과 양상	3	○
11	문화와 일상생활	현대사회의문화 양상	대중매체	2	○
12	사회·문화 현상의 탐구	사회·문화 현상의 탐구 방법	자료수집 방법	3	X
13	문화와 일상생활	문화의 이해	이해 태도	2	○
14	사회계층과 불평등	사회 불평등 현상의 이해	계급과 계층	2	○
15	사회계층과 불평등	사회복지와 복지제도	사회 복지 제도	3	X
16	개인과 사회 구조	사회집단과 사회조직	사회집단/조직/자발적결사체	3	○
17	현대의 사회변동	현대사회의 변화와 대응방안	세계화와 정보화	3	○
18	사회계층과 불평등	다양한 사회 불평등 현상	빈곤 문제	2	○
19	○일상생활과 사회제도	교육제도	교육제도	2	○
20	사회계층과 불평등	사회계층구조와 사회 이동	사회 이동	3	X

## 나의 오답 문항

## 고3 2019년 06월 평가원 사회문화 3번

이게 바로 핵심이야!

왜 틀렸지?

이것만은 기억하자!

## 문제

§ 세부단원정보 : 사회·문화 현상의 탐구 | 사회·문화 현상의 탐구절차와 태도 | 탐구 절차

001 다음 연구에 대한 옳은 설명만을 &lt;보기&gt;에서 있는 대로 고른 것은? [3점]

- 연구 주제 : 청소년의 스마트폰 의존도와 여가 활동의 관계
- 연구 가설
  - <가설 1> 스마트폰 의존도가 높은 청소년은 낮은 청소년에 비해 스포츠 활동에 참여하지 않을 가능성이 높다.
  - <가설 2> 스마트폰 의존도가 높은 청소년은 낮은 청소년에 비해 컴퓨터 게임을 이용하지 않을 가능성이 높다.
- 자료 수집
  - 조사 방법 : ㉠ 중·고등학생을 대상으로 1,000명을 무작위 선정하여 질문지를 통한 조사 실시
  - 조사 내용 : ㉡ 지난 일주일간 하루 평균 스마트폰 사용 시간, ㉢ 지난 일주일간 스포츠 활동 참여 여부, ㉣ 지난 일주일간 컴퓨터 게임 이용 여부
- 자료 분석 결과
  - 분석 결과는 아래 표와 같고, 스마트폰 사용 시간에 따른 스포츠 활동 참여 및 컴퓨터 게임 이용 여부는 통계적으로 유의미한 차이가 있는 것으로 나타남.

(단위 : 명)

스마트폰 사용 시간	스포츠 활동 참여함		스포츠 활동 참여 안 함	
	컴퓨터 게임 이용함	컴퓨터 게임 이용 안 함	컴퓨터 게임 이용함	컴퓨터 게임 이용 안 함
많음	96	64	108	132
적음	189	231	72	108

<보 기>

- ㄱ. 구조화된 도구를 활용하여 자료를 수집하였다.
- ㄴ. ㉠으로 인하여 표본의 대표성이 확보되었다.
- ㄷ. ㉡~㉢은 모두 개념의 조작적 정의에 해당한다.
- ㄹ. 분석 결과는 <가설 1>, <가설 2>를 지지하는 근거가 된다.

① ㄱ, ㄷ

② ㄴ, ㄷ

③ ㄴ, ㄹ

④ ㄱ, ㄴ, ㄹ

⑤ ㄱ, ㄷ, ㄹ

## 유사문제

§ 출전 : 고2 2018년 11월 학력평가 사회문화 19번

002 밑줄 친 ㉠ ~ ㉣에 대한 옳은 설명을 &lt;보기&gt;에서 고른 것은?

연구자 갑은 고등학생의 ㉠ 논증적 사고력과 수업 방식의 관계를 알아보고자 하였다. 갑은 토론식 수업이 강의식 수업에 비해 논증적 사고력을 향상시키는 효과가 더 클 것이라는 잠정적 결론을 내리고, ㉡ □□고등학교 학생 중에서 성별, 성적 등에서 차이가 나지 않도록 두 집단을 구성하였다. 이들을 대상으로 검사지를 활용하여 ㉢ 연역 추론 능력 지수, 귀납 추론 능력 지수, 유비 추론 능력 지수를 측정한 후 한 학기 동안 ㉣ A 집단은 강의식으로, ㉤ B 집단은 토론식으로 수업을 진행하였다. 그 후 학생들의 연역 추론 능력, 귀납 추론 능력, 유비 추론 능력을 다시 측정한 결과 B 집단이 A 집단에 비해 논증적 사고력의 향상 정도가 더 크게 나타났으며, 그 차이는 통계적으로 유의미한 수준이었다.

&lt;보 기&gt;

- ㄱ. ㉠ 단계에서는 연구자의 가치가 개입된다.
- ㄴ. ㉡은 모집단이다.
- ㄷ. ㉢은 종속 변수에 대한 조작적 정의가 반영된 것이다.
- ㄹ. ㉣은 실험 집단, ㉤은 통제 집단이다.

- ① ㄱ, ㄴ      ② ㄱ, ㄷ      ③ ㄴ, ㄷ      ④ ㄴ, ㄹ      ⑤ ㄷ, ㄹ

003 밑줄 친 ㉠~㉣에 대한 설명으로 옳은 것은? [3점]

○ 연구 주제 : 부부 간 친밀도에 영향을 미치는 요인

○ 연구 가설

- ㉠ 부부 간 대화 시간이 많을수록 부부 간 친밀도가 높다.
- 부부 간 의견 일치 정도가 높을수록 부부 간 친밀도가 높다.

○ 연구 설계

- 조사 방법 : 기혼자 1,000명을 대상으로 설문 조사
- 조사 항목 : ㉡ 부부 간 대화 시간, ㉢ 부부 간 의견 일치 정도, 부부 간 친밀도

○ 분석 결과

- 부부 간 대화 시간에 따라 세 개의 집단으로 구분한 결과, ㉣ 많은 집단의 부부 간 친밀도는 2.8, 중간 집단은 3.5, 적은 집단은 4.2였으며 ㉤ 통계적으로 유의미한 차이가 나타남.
- 부부 간 대화 시간에 따라 구분한 ㉣ 위 세 개의 집단 각각에서 부부 간 의견 일치 정도와 부부 간 친밀도는 통계적으로 유의미한 양(+)의 상관관계가 있는 것으로 나타남.

\*조사 항목은 모두 5점 척도이며, 숫자가 높을수록 그 정도가 많거나 높음.

- ① ㉠은 기각되었다.
- ② ㉡은 종속 변인, ㉢은 독립 변인이다.
- ③ ㉣은 실험 집단 중 하나이다.
- ④ ㉣은 2차 자료를 분석하여 얻은 결과이다.
- ⑤ ㉣을 통해 ㉠이 검증되었다.

나의 오답 문항

고3 2019년 06월 평가원 사회문화 7번

이게 바로 핵심이야!

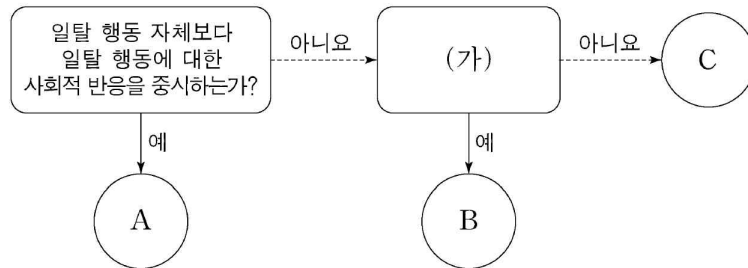
왜 틀렸지?

이것만은 기억하자!

문제

§ 세부단원정보 : 개인과 사회 구조 | 사회구조와 일탈행동 | 일탈행동

004 그림은 일탈 이론 A~C를 구분한 것이다. 이에 대한 설명으로 옳은 것은? (단, A~C는 각각 낙인 이론, 뒤르켐의 아노미 이론, 차별 교제 이론 중 하나이다.) [3점]



- ① A는 문화적 목표에 도달할 수 있는 제도적 수단의 제공을 일탈 행동의 해결 방안으로 본다.
- ② B가 새로운 가치관의 확립으로 일탈 행동을 줄일 수 있다고 본다면, (가)에는 ‘일탈 행동을 규정하는 객관적 기준이 존재한다고 보는가?’가 들어갈 수 있다.
- ③ C가 일탈 행동을 학습의 산물로 본다면, (가)에는 ‘사회 불평등 구조의 개혁을 통해 일탈 행동을 완화할 수 있다고 보는가?’가 들어갈 수 있다.
- ④ (가)가 ‘일탈 행동에 우호적인 집단과의 교류 차단을 일탈 행동에 대한 해결 방안으로 보는가?’라면, C는 일탈자로서의 자아 정체성 형성이 반복적인 일탈 행동의 원인이라고 본다.
- ⑤ (가)가 ‘급격한 사회 변동이 일탈 행동을 야기한다고 보는가?’라면, A, C 모두 타인과의 상호 작용이 일탈 행동의 발생 과정에 미치는 영향을 중시한다.



§ 출전 : 고3 2017년 수능 사회문화 3번

005 일탈 이론 (가)~(다)에 대한 설명으로 옳은 것은?[3점]

(가) 공식적으로 일탈자라고 규정되면 성공을 위한 합법적 수단으로부터 배제되고 일탈 자라는 자아 개념을 가지게 되어, 미래의 일탈가능성이 증가하게 된다. 결국 일탈자 라고 규정짓는 것은 사회적 지위를 부여하는 것과 같다.

(나) 경제적 성공을 강조하는 문화를 구성원 모두가 공유하는 사회에서, 제도화된 수단이 부족한 특정 계층은 성공에 어려움을 겪게 된다. 따라서 이들은 불법적인 방법을 통해서라도 성공하려고 시도함으로써 일탈 행동을 하게 된다.

(다) 하층에 속한 사람들이 일탈 행동을 많이 한다는 주장이 있지만, 하층에서도 일부만 일탈 행동을 한다. 이들이 일탈 행동을 하는 것은 일탈자와의 상호 작용을 통해 일 탈적 가치와 태도를 수용하기 때문이다.

- ① (가)는 (다)와 달리 사회의 지배적 가치와 규범을 사회화하지 못함으로써 일탈 행동이 발생한다고 본다.
- ② (나)는 (가)와 달리 일탈 행동의 발생에 있어 타인과의 상호작용을 통한 학습 과정을 강조한다.
- ③ (다)는 (나)와 '달리 일탈 행동을 초래하는 사회 구조의 영향력을 강조한다.
- ④ (가)는 (나), (다)와 달리 일탈이 행동의 속성에 의해서가 아니라 그에 대한 사회적 반응에 의해 규정된 다고 본다.
- ⑤ (나)는 (가), (다)와 달리 지배 집단의 기득권 보호를 위한 사회 제도 때문에 일탈 행동이 발생한다고 본 다.

§ 출전 : 고2 2016년 11월 학력평가 사회문화 9번

006 일탈을 설명하는 이론 (가)~(다)에 대한 설명으로 옳은 것은?

(가) 문화란 공통된 행동을 제시하는 규범의 총체로서 이를 통해 사회적으로 합의된 문화적 목표가 주어진다. 하지만 목표를 성취할 만한 합법적인 수단을 갖지 못한 일부 구성원들은 그 괴리로 일탈을 저지르게 된다.

(나) 일탈의 근본적인 원인은 불평등한 사회 구조 자체에 있다. 사회 규범과 제도는 지배 집단의 이해관계를 반영하므로 피지배 집단을 억압하며, 이에 대한 도전과 저항은 기존 질서를 위협 하는 일탈로서 제재를 받는다.

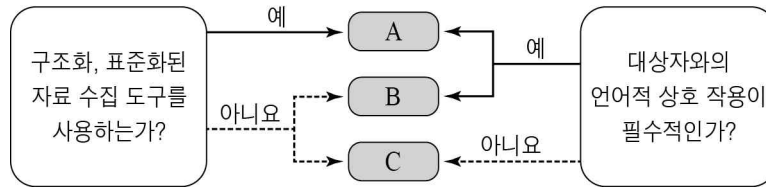
(다) 일탈은 특정 행위의 속성이 아니다. 특정 행위를 다른 사람들이 정상으로 받아들이면 문제가 되지 않지만, 비정상으로 규정하면 그때부터 그 행위는 일탈이 되고 행위자는 본인을 스스로 일탈자로 여겨 일탈을 반복하게 된다.

- ① (가)는 일탈 집단과의 교류 차단을 일탈의 해결책으로 중시한다.
- ② (나)는 급격한 사회 변동으로 인한 가치관의 혼란을 일탈의 원인으로 본다.
- ③ (다)는 타인들과의 상호 작용이 일탈 발생 과정에 미치는 영향을 중시한다.
- ④ (나)는 (가)와 달리 사회 구조적 차원에서 일탈을 설명한다.
- ⑤ (다)는 (가)와 달리 일탈을 규정하는 객관적 기준이 있다고 본다.



§ 출전 : 고2 2017년 09월 학력평가 사회문화 6번

008 A~C에 해당하는 자료 수집 방법의 일반적인 특징에 대한 옳은 설명을 <보기>에서 고른 것은? (단, A~C는 각각 면접법, 질문지법, 참여 관찰법 중 하나이다.) [3점]



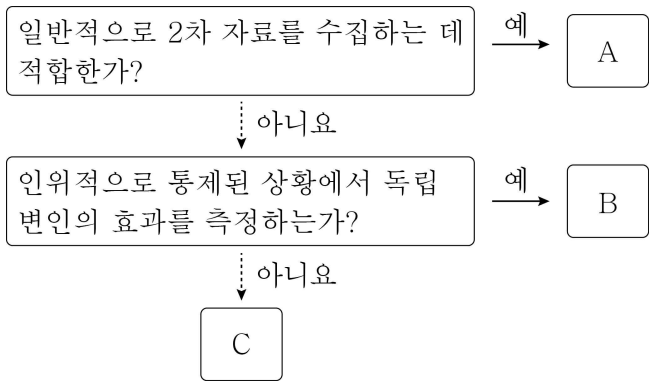
< 보 기 >

ㄱ. A는 B에 비해 시간과 비용 측면에서 효율적이다.  
 ㄴ. B는 C와 달리 경험적인 자료 수집이 가능하다.  
 ㄷ. C는 A에 비해 실제성이 높은 생생한 자료를 확보하기가 용이하다.  
 ㄹ. A, B는 C에 비해 조사 대상자에 대한 감정이입적 이해를 중시한다.

- ① ㄱ, ㄴ    ② ㄱ, ㄷ    ③ ㄴ, ㄷ    ④ ㄴ, ㄹ    ⑤ ㄷ, ㄹ

§ 출전 : 고3 2017년 03월 학력평가 사회문화 15번

009 그림의 자료 수집 방법 A~C에 대한 옳은 설명을 <보기>에서 고른 것은? (단, A~C는 각각 문헌 연구법, 실험법, 질문지법 중 하나이다.) [3점]



< 보 기 >

ㄱ. A는 시간과 장소의 제약이 크다.  
 ㄴ. B는 질적 연구에서 주로 활용한다.  
 ㄷ. C는 다수를 대상으로 자료를 수집하는 데 유용하다.  
 ㄹ. B, C는 구조화된 자료 수집 방법이다.

- ① ㄱ, ㄴ    ② ㄱ, ㄷ    ③ ㄴ, ㄷ    ④ ㄴ, ㄹ    ⑤ ㄷ, ㄹ

## 나의 오답 문항

고3 2019년 06월 평가원 사회문화 15번

이게 바로 핵심이야!

왜 틀렸지?

이것만은 기억하자!

## 문제

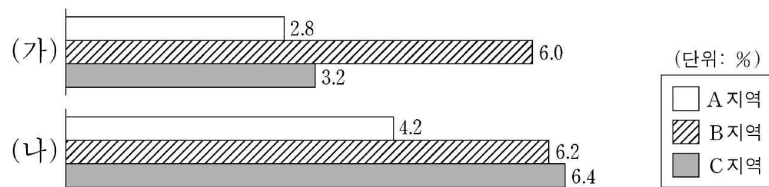
§ 세부단원정보 : 사회계층과 불평등 | 사회복지와 복지제도 | 사회 복지 제도

010 다음 자료에 대한 분석으로 옳은 것은? [3점]

&lt;자료 1&gt; 우리나라 사회 보장 제도

- (가) 가구 소득 인정액이 기준액 이하인 가구의 최저 생활을 보장하고 자활을 지원하기 위해 국가나 지방 자치 단체가 생계, 의료 등 급여를 지급하는 제도
- (나) 노령, 사망, 장애 등으로 인한 소득 상실을 보전하고 기본 생활을 지원하기 위해 가입자와 고용주 등이 부담해서 마련한 기금을 통해 연금 급여를 지급하는 제도

&lt;자료 2&gt; A~C 지역별 전체 인구 중 (가), (나) 수급자 비율



- 상호 부조의 원리가 적용되는 제도의 경우, A 지역 수급자 비율은 2.8%이다.
- 선별적 복지의 성격이 강한 제도의 경우, A~C 지역 중에서 B 지역 수급자 수가 가장 많다.
- 소득 재분배 효과가 더 큰 제도의 경우, A~C 지역 중에서 수급자 비율이 가장 높은 지역의 수급자 비율은 6.0%를 초과한다.
- 수혜자 부담 원칙이 적용되지 않는 제도의 경우, B 지역 수급자 수가 A 지역 수급자 수의 2배보다 많다.
- 강제 가입 원칙이 적용되는 제도의 수급자 수 대비 사후 처방적 성격이 강한 제도의 수급자 수의 비는 A 지역이 C 지역보다 높다.

§ 출전 : 고3 2015년 수능 사회문화 15번

011 다음 자료는 우리나라 사회 보장 제도 (가)~(다)와 ○○시의 수급자 비율이다. 이에 대한 분석으로 옳은 것은? (단, ○○시는 A, B지역으로만 이루어져 있다.) [3점]

(가) 노령, 장애, 사망으로 인한 소득 상실을 보전하기 위해 연금 급여를 지급하는 제도로서, 이를 실행하는 데 드는 비용은 고용주, 가입자 등이 부담한다.  
 (나) 노인에게 안정적인 소득 기반을 제공하여 생활 안정을 돕기 위한 제도로서, 65세 이상 노인 중 소득 인정액이 기준 금액 이하인 사람에게 연금 급여를 지급한다.  
 (다) 생활이 어려운 국민의 최저 생활을 보장하고 자활을 지원하기 위한 제도로서, 국가나 지방 자치 단체가 수급권자로 선정된 사람에게 생계 급여 등을 지급한다.

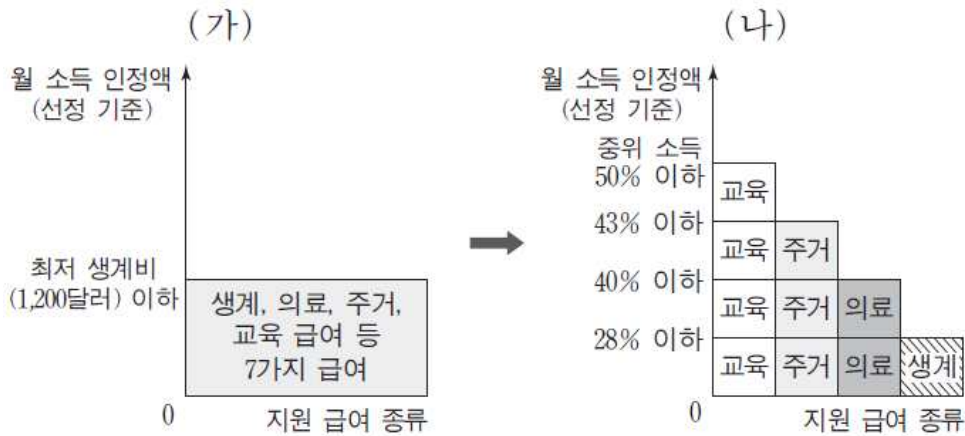
< ○○시 지역별 총인구 대비 수급자 비율 > (단위: %)

지역 \ 제도	(가)	(나)	(다)
A지역	6.7	5.5	1.9
B지역	6.7	7.6	1.6
전체	6.7	6.9	1.7

- ① A지역의 경우, (가)~(다) 중에서 의무 가입 원칙이 적용되는 제도의 수급자 비율은 12.2%이다.
- ② B지역의 경우, (가)~(다) 중에서 사후 처방적 성격이 강한 제도의 수급자 비율은 6.7%이다.
- ③ (가)~(다) 중에서 수혜자 부담 원칙이 적용되지 않는 제도의 수급자 수는 A지역이 B지역보다 많다.
- ④ (가)~(다) 중에서 가입자 간 상호 부조 원리가 적용되는 제도의 수급자 수는 B지역이 A지역보다 많다.
- ⑤ 지역별 총인구 중 65세 이상 노인 인구의 비율은 B지역이 A지역보다 높다.

§ 출전 : 고3 2016년 06월 평가원 사회문화 17번

012 (가), (나)는 갑국의 사회 복지 제도 변화를 나타낸 것이다. 이에 대한 분석으로 옳은 것은? [3점]



- \* 최저 생계비는 중위 소득 40%와 동일함.
- \*\* 개별 가구의 월 소득 인정액 이외의 다른 조건은 모두 동일함.
- \*\*\* 중위 소득: 전체 가구를 소득 순으로 나열했을 때 한가운데 위치한 가구의 소득

- ① (가)는 선별적 복지보다는 보편적 복지의 성격이 강하다.
- ② (나)에서 교육 급여를 받을 수 있는 기준은 월 소득 인정액 1,400달러 이하이다.
- ③ (나)에서 월 소득 인정액 1,000달러인 가구는 의료 급여를 받을 수 있다.
- ④ (가)는 (나)와 달리 상대적 생활수준을 반영한 기준을 적용한다.
- ⑤ 월 소득 인정액 900달러인 가구는 (가)에서는 모든 급여를 받았으나 (나)에서는 교육 급여만 받을 수 있다.

고3 2019년 06월 평가원 사회문화 20번

이게 바로 핵심이야!

왜 틀렸지?

이것만은 기억하자!

문제

§ 세부단원정보 : 사회계층과 불평등 | 사회계층구조와 사회 이동 | 사회 이동

013 다음 자료에 대한 옳은 분석만을 <보기>에서 있는 대로 고른 것은? [3점]

갑국의 계층은 상층, 중층, 하층으로만 구분되며, A~C는 각각 상층, 중층, 하층 중 하나이다. 부모 세대의 계층 구성비는 A : B : C = 3 : 6 : 1이고, 모든 부모의 자녀는 1명씩이다.

<부모 세대와 자녀 세대 간 계층 이동 현황> (단위 : %)

구분	A	B	C
부모 세대 계층 대비 부모 세대와 자녀 세대의 계층 일치 비율	50	25	50
자녀 세대 계층 대비 부모 세대와 자녀 세대의 계층 불일치 비율	25	50	90

\*\*자녀 세대 A는 부모 세대보다 계층이 낮을 수 없다.

\*\*B는 다이아몬드형 계층 구조에서 가장 비율이 높은 계층이다.

<보 기>

- ㄱ. 세대 간 상승 이동 비율이 세대 간 하강 이동 비율보다 낮다.
- ㄴ. 자녀 세대의 계층 구조는 부모 세대의 계층 구조보다 사회 통합에 유리하다.
- ㄷ. 중층 부모를 둔 하층 자녀 인구는 상층 부모를 둔 중층 자녀 인구의 최대 3배이다.
- ㄹ. 중층 대물림 인구 대비 상층 대물림 인구의 비는 하층 대물림 인구 대비 중층 대물림 인구의 비보다 낮다.

① ㄱ, ㄴ

② ㄱ, ㄹ

③ ㄴ, ㄷ

④ ㄱ, ㄷ, ㄹ

⑤ ㄴ, ㄷ, ㄹ

## 유사문제

§ 출전 : 고2 2018년 11월 학력평가 사회문화 20번

014 다음 자료에 대한 분석으로 옳은 것은? [3점]

갑국의 계층은 A ~ C로만 이루어져 있으며, A ~ C는 각각 상층, 중층, 하층 중 하나이다. 부모 세대는 피라미드형 계층 구조이며, A 비율이 B 비율의 1/2, C 비율의 3배이다. 자녀 세대는 B 비율이 A 비율의 1/3이며, C 비율과는 같다. 모든 부모의 자녀는 1명씩이고, 중층 부모를 둔 자녀 중에서 세대 간 상승 이동을 한 사람과 세대 간 하강 이동을 한 사람의 수가 같다.

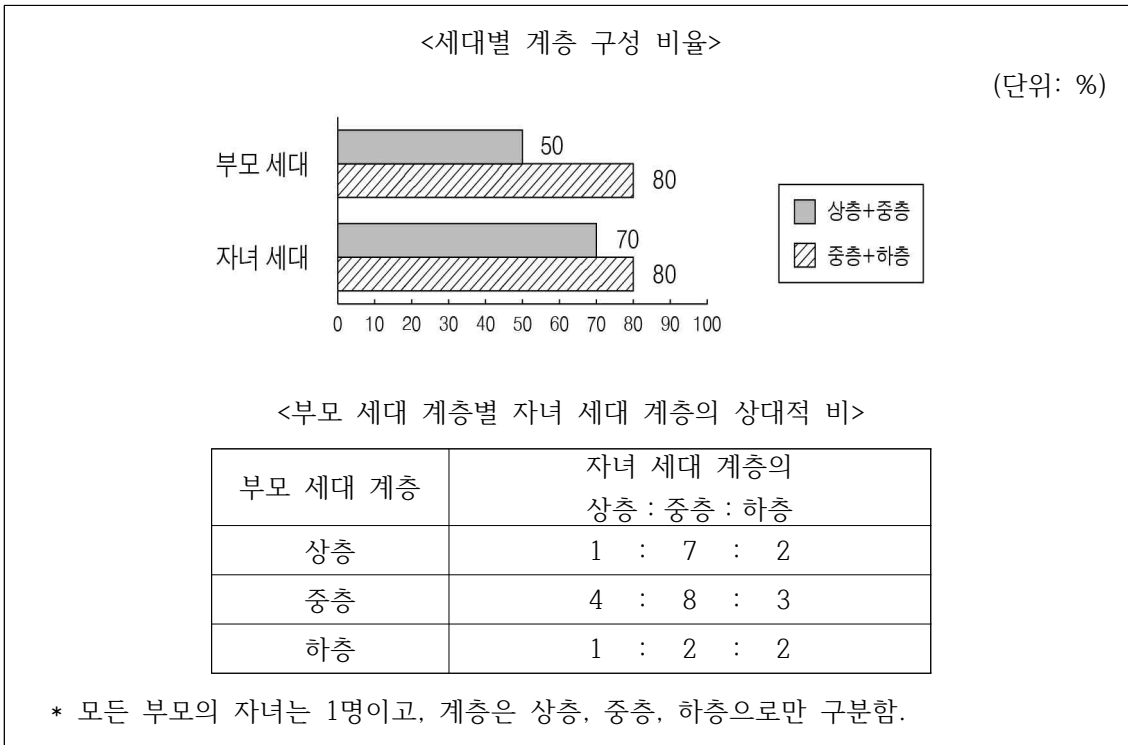
<부모 세대 계층 대비 계층 대물림 비율>

부모 세대 계층	상층	중층	하층
계층 대물림 비율(%)	80	80	25

- ① 자녀 세대의 계층 구조는 모래시계형이다.
- ② 세대 간 하강 이동이 세대 간 상승 이동보다 많다.
- ③ 부모와 계층이 일치하는 자녀가 불일치하는 자녀보다 많다.
- ④ 부모 세대 상층에서 자녀 세대 중층으로의 세대 간 이동은 발생하지 않았다.
- ⑤ 자녀 세대의 계층 중에서 세대 간 이동을 한 사람이 가장 많은 계층은 하층이다.



015 자료에 대한 옳은 분석을 <보기>에서 고른 것은? [3점]



<보 기>

ㄱ. 세대 간 계층 유지 비율이 이동 비율보다 크다.  
 ㄴ. 세대 간 상승 이동한 사람이 하강 이동한 사람보다 많다.  
 ㄷ. 자녀 세대 계층 대비 계층이 대물림된 비율은 하층에서 가장 높다.  
 ㄹ. 부모 세대 계층 구조는 자녀 세대 계층 구조보다 사회 통합에 유리하다.

- ① ㄱ, ㄴ    ② ㄱ, ㄷ    ③ ㄴ, ㄷ    ④ ㄴ, ㄹ    ⑤ ㄷ, ㄹ

NOTEPLY™

# 정답과 해설

응답하라. 나의 수능 - 나를 알아주는 최적의 학습 시스템

[www.noteply.co.kr](http://www.noteply.co.kr)

1 정답 ①

양적 연구에 대한 이해

정답 해설 : ㄱ. 구조화된 도구인 질문지를 통해 자료를 수집하고 있다. ㄴ. 지난 일주일간 하루 평균 스마트폰 사용 시간은 스마트폰 의존도, 지난 일주일간 스포츠 활동 참여 여부는 스포츠 활동 참여, 지난 일주일간 컴퓨터 게임 이용 여부는 컴퓨터 게임 이용이라는 각각의 개념에 대한 조작적 정의에 해당한다.

[오답피하기]

ㄴ. 연구 대상은 청소년이 되어야 하는데, 중·고등학생만을 대상으로 자료를 수집하였다. 중·고등학생이 아닌 청소년이 있다는 점에서, 표본은 대표성을 갖지 못한다.

ㄷ. 스마트폰 사용 시간이 많은 학생의 경우 스포츠 활동 참여와 미참여는 각각 160명과 240명이지만, 스마트폰 사용 시간이 적은 학생의 경우 스포츠 활동 참여와 미참여는 각각 420명과 180명이다. 따라서 <가설 1>은 지지된다. 그리고 스마트폰 사용 시간이 많은 학생의 경우 컴퓨터 게임 이용과 미이용은 각각 204명과 196명이지만, 스마트폰 사용 시간이 적은 학생의 경우 컴퓨터 게임 이용과 미이용은 각각 261명과 339명이다. 따라서 <가설 2>는 지지되지 않는다.

2 [정답] ②

[출제의도] 사회·문화 현상의 연구 사례 분석하기  
제시문에 나타난 값의 연구는 실험법을 활용한 양적 연구의 사례이다. ㄷ. B 집단은 실험 집단이다.

3 정답 ①

사회·문화 현상의 연구에 대한 이해

정답 해설 : ① 부부 간 대화 시간이 적은 집단일수록 부부 간 친밀도의 수치가 높아진 것으로 보아, '부부 간 대화 시간이 많을수록 부부 간 친밀도가 높다.'라는 가설은 기각되었다.

[오답피하기]

- ② ㉠과 ㉡ 모두 독립 변인이다.
- ③ 실험이 아닌 설문 조사를 통해 자료를 수집하였으므로, ㉢은 실험 집단이 아니다.
- ④ 설문 조사를 통해 연구자가 직접 수집한 자료는 1차 자료이다.
- ⑤ ㉢을 통해 검증된 것은 '부부 간 의견 일치 정도가 높을수록 부부 간 친밀도가 높다.'라는 가설이다.

4 정답 ⑤

일탈 이론의 비교

정답 해설 : 일탈 행동 자체보다 일탈 행동에 대한 사회적 반응을 중시하는 것은 낙인 이론이다. 따라서 A는 낙인 이론이고 B와 C는 각각 뒤르켐의 아노미 이론과 차별적 교제 이론 중 하나이다. ⑤ (가)가 '급격한 사회 변

동이 일탈 행동을 야기한다고 보는가?'라면, B는 뒤르켐의 아노미 이론이다. 낙인 이론과 차별적 교제 이론 모두 타인과의 상호 작용이 일탈 행동의 발생 과정에 미치는 영향을 중시한다.

[오답피하기]

- ① 문화적 목표에 도달할 수 있는 제도적 수단의 제공을 일탈 행동의 해결 방안으로 보는 것은 머튼의 아노미 이론이다.
- ② 새로운 가치관의 확립으로 일탈 행동을 줄일 수 있다고 보는 것은 뒤르켐의 아노미 이론이다. 낙인 이론과 달리 뒤르켐의 아노미 이론과 차별적 교제 이론은 일탈 행동을 규정하는 객관적 기준이 존재한다고 본다.
- ③ 일탈 행동을 학습의 산물로 보는 것은 차별적 교제 이론이다. 사회 불평등 구조의 개혁을 통해 일탈 행동을 완화할 수 있다고 보는 것은 갈등론이다.
- ④ 일탈 행동에 우호적인 집단과의 교류 차단을 일탈 행동에 대한 대책으로 제시하는 것은 차별적 교제 이론이므로, C는 뒤르켐의 아노미 이론이다. 그런데 일탈자로서의 자아 정체성 형성이 반복적인 일탈 행동의 원인이라고 보는 것은 낙인 이론이다.

5 정답: ④

일탈 이론의 비교

정답 해설: 일탈자라는 규정과 이에 따른 일탈자라는 자아 개념의 형성에서 (가)는 낙인 이론임을, 경제적 성공을 강조하는 문화를 가진 사회와 제도화된 수단의 부족에서 (나)는 아노미 이론임을, 일탈자와의 상호 작용을 통한 일탈적 가치와 태도 수용에서 (다)는 차별 교제 이론임을 알 수 있다. ④ 낙인 이론은 일탈에 대한 사회적 규정과 그에 대한 부정적 자아 형성에서 일탈 행동의 원인을 찾는다. 즉, 일탈이 행동의 속성에 의해서가 아니라 그에 대한 사회적 반응에 의해 규정된다고 본다.

[오답피하기]

- ① 낙인 이론은 사회의 지배적 가치와 규범이 객관적으로 규정되지 않는다고 보기 때문에, 지배적 가치와 규범을 사회화하지 못해 일탈 행동이 발생한다고 보지 않는다.
- ② 타인과의 상호 작용을 통한 학습 과정을 강조하는 것은 차별 교제 이론이다
- ③ 사회 구조의 영향력을 강조하는 것은 거시적 관점으로 분류되는 아노미 이론이다.
- ⑤ 지배 집단의 기득권 보호를 위한 사회 제도에 주목하는 것은 갈등론이다.

6 [정답] ③

[출제의도] 일탈을 설명하는 이론 비교하기

(가)는 머튼의 아노미 이론, (나)는 갈등 이론, (다)는 낙인 이론이다. ④ 머튼의 아노미 이론과 갈등 이론 모두

사회 구조적 차원에서 일탈을 설명한다. ⑤ 낙인 이론은 일탈을 규정하는 객관적인 기준이 없다고 본다.

7 정답 ②

설문 문항에 대한 평가

정답 해설 : ② '여가 활동에 쓰는 시간은 얼마나 됩니까?'라는 질문의 경우, 하루에 쓰는 여가 활동 시간을 묻는 것인지, 일주일에 쓰는 여가 활동 시간을 묻는 것인지 알 수 없다. 즉, 질문에 응답에 필요한 정보가 빠져 있다.

[오답피하기]

- ① 문항 1의 경우, 특정 응답을 유도하고 있다고 볼 수 없다.
- ③ 문항 3의 선택지를 보면, 동호회 활동으로 여행하는 사람이 있다면 어떤 선택지에 응답을 해야 할지 혼란에 빠질 수 있다. 응답 항목 간에 배타성이 없기 때문이다.
- ④ 문항 1은 문항 4와 달리 두 가지 사항을 묻고 있지 않다.
- ⑤ 문항 2는 조사 대상자가 응답 항목 중에서 하나를 선택할 수 있으므로 포괄적이다. 그러나 문항 3은 등산하는 사람은 선택지를 고를 수 없으므로 포괄적이지 않다.

8 [정답] ②

[출제의도] 자료 수집 방법 비교하기

A는 질문지법, B는 면접법, C는 참여 관찰법이다. ㄱ. 질문지법은 시간과 비용 측면에서 효율적이어서 대규모 집단에 적용하기 용이하다. ㄴ. 면접법과 참여 관찰법 모두 경험적인 자료 수집이 가능하다. ㄷ. 면접법과 참여 관찰법은 감정이입적 이해를 중시한다.

9 [정답] ⑤

[출제의도] 문헌 연구법, 실험법, 질문지법의 특징을 비교한다.

A는 문헌 연구법, B는 실험법, C는 질문지법이다. 실험법과 질문지법은 모두 구조화된 자료 수집 방법에 해당하며, 이 중 질문지법은 다수를 대상으로 대량의 자료를 수집하는 데 유리하다.

10 정답 ⑤

우리나라의 사회 보장 제도에 대한 분석

정답 해설 : (가)는 공공 부조에 해당하는 국민 기초 생활 보장 제도, (나)는 사회 보험에 해당하는 국민 연금 제도이다. ⑤ 강제 가입 원칙이 적용되는 것은 (나), 사후 처방적 성격이 강한 제도는 (가)이다. (나) 수급자 대비 (가) 수급자의 경우 A 지역은 2.8/4.2이고, C 지역은 3.2/6.4이다. 따라서 A 지역이 C 지역보다 높다.

[오답피하기]

- ① 상호 부조의 원리가 적용되는 제도는 (나)이므로,

2.8%가 아니라 4.2%이다.

② 선별적 복지의 성격이 강한 제도는 (가)이지만, A~C 지역의 전체 인구가 주어지지 않기 때문에 B 지역의 수급자 수가 가장 많은지는 알 수 없다.

③ 소득 재분배 효과가 더 큰 제도는 (가)이다. (가)의 수급자 비율이 6.0%를 초과한 지역은 없다.

④ 수혜자 부담 원칙이 적용되지 않는 제도는 (가)이지만, A~C 지역의 전체 인구가 주어지지 않기 때문에 각 지역의 수급자 수의 크기를 비교할 수 없다.

11 정답 ④

국민 연금, 기초 연금, 국민 기초 생활 보장 제도에 대한 분석

정답 해설 : (가)는 국민 연금, (나)는 기초 연금, (다)는 국민 기초 생활 보장 제도이다. 국민 연금은 사회 보험, 기초 연금과 국민 기초 생활 보장 제도는 공공 부조에 해당한다. ④ 가입자 간 상호 부조의 원리가 적용되는 것은 사회 보험이다. A 지역과 B 지역의 국민 연금 수급자 비율은 같다. 그러나 A 지역보다 B 지역의 인구 수가 더 많으므로(기초 연금 수급자 비율의 경우 A 지역은 5.5%이고 B 지역은 7.6%인데 전체는 6.9%이다. 5.5%와 7.6%의 평균값은 6.55%이고 전체 비율인 6.9%는 6.55%보다 크므로, A 지역보다 B 지역의 인구 수가 더 많음을 알 수 있다.), 국민 연금 수급자 수는 B 지역이 A 지역보다 많다.

[오답피하기] ① 의무 가입 원칙이 적용되는 것은 국민 연금이므로, 수급자 비율은 6.7%이다.

② 사후 처방적 성격이 강한 제도는 공공 부조이다. 6.7%는 국민 연금의 수급자 비율이다.

③ 수혜자 부담의 원칙이 적용되지 않는 제도는 기초 연금과 국민 기초 생활 보장 제도이다. B 지역이 A 지역보다 기초 연금 수급자 비율이 더 높을 뿐만 아니라 인구 수도 더 많으므로, B 지역이 A 지역보다 더 많다.

⑤ 지역별 총인구의 크기는 비교할 수 있으나 기초 연금 수급자 비율만 가지고 65세 이상 노인 인구의 크기를 비교할 수는 없다. 따라서 지역별 총인구 중 65세 이상 노인 인구의 비율은 어느 지역이 더 큰지 알 수 없다.

12 [정답] ③

사회 복지 제도의 변화에 대한 분석

정답 해설 : 최저 생계비가 1,200달러인데, 최저 생계비가 중위 소득의 40%와 동일하므로 중위 소득은 3,000달러이다. ③ 중위 소득 40%, 즉 월 소득 인정액이 1,200달러 이하인 가구는 의료 급여를 받을 수 있으므로, 월 소득 인정액이 1,000달러인 가구는 의료 급여를 받을 수 있다.

[오답피하기] ① (가), (나) 모든 국민을 대상으로 하지

않는다는 점에서, 모두 선별적 복지의 성격이 강하다.

② 교육 급여를 받을 수 있는 기준은 월 소득 인정액이 중위 소득 50%, 즉 1,500달러 이하이다.

④ (나)는 가구의 월 소득 인정액이 ‘중위 소득의 얼마가 되느냐’를 파악한다. 즉, (나)에서는 상대적 생활수준을 반영한 기준을 적용하고 있다.

⑤ 월 소득 인정액 900달러는 중위 소득의 30%에 해당한다. (나)에서 중위 소득의 30%인 가구는 교육 급여와 주거 급여, 의료 급여를 받을 수 있다.

13 정답 ②

세대 간 계층 이동에 대한 분석

정답 해설 : 표 아래의 단서 조건에 따라 A는 상층이고 B는 중층이므로, C는 하층이다. 그리고 주어진 자료를 종합하면 아래와 같은 세대 간 계층 이동결과가 나온다.

구분	부모 세대 계층(%)			
	상	중	하	
자녀 세대 계층(%)	상	15	㉠	㉡
	중	a-30	15	㉢
	하	45-a	a	5
계	30	60	10	

ㄱ. 세대 간 상승 이동 비율은 ‘㉠+㉡’이 5이고 ㉢은 가장 클 때가 15이므로, 20%를 넘을 수 없다. 그러나 세대 간 하강 이동 비율은 가장 작을 때가 45%이다.

ㄴ. 중층 대물림 인구 대비 상층 대물림 인구의 비는 15/15로 1이다. 하층 대물림 인구 대비 중층 대물림 인구의 비는 15/5로 3이다.

[오답피하기]

ㄴ. 다이아몬드형을 띠는 부모 세대의 계층 구조가 사회 통합에 유리하다.

ㄷ. 중층 부모를 둔 하층 자녀의 비율이 a라면, 상층 부모를 둔 중층 자녀의 비율은 a-30이다. a 값의 범위는 ‘ $40 \leq a \leq 45$ ’인데, a가 40이면 a-30은 10이고 a가 45이면 a-30은 15이다. 즉, 중층 부모를 둔 하층 자녀 인구는 상층 부모를 둔 중층 자녀 인구의 최소 3배이고 최대 4배가 된다.

14 [정답] ④

[출제의도] 계층 구조와 계층 이동 분석하기

부모 세대는 피라미드형 계층 구조이므로 A는 중층, B는 하층, C는 상층이며 상층, 중층, 하층의 비율은 각각 10%, 30%, 60%이다. 자녀 세대의 경우 상층, 중층, 하층의 비율이 각각 20%, 60%, 20%이므로 다이아몬드형 계층 구조이다. 부모 세대 계층 대비 계층 대물림 비율을 적용하면 다음과 같이 갑국의 세대 간 계층 이동을 나타낼 수 있다.

(단위: %)

구분	부모 세대			계	
	상층	중층	하층		
자녀 세대	상층	8	3	9	20
	중층	0	24	36	60
	하층	2	3	15	20
계	10	30	60	100	

② 세대 간 하강 이동 비율은 5%, 세대 간 상승 이동 비율은 48%이다. ③ 부모와 계층이 일치하는 자녀의 비율은 47%, 불일치하는 자녀의 비율은 53%이다. ⑤ 자녀 세대의 계층 중에서 세대 간 이동을 한 사람이 가장 많은 계층은 중층이다.

15 [정답] ③

[출제의도] 사회 이동과 계층 구조 분석하기

부모 세대와 자녀 세대의 계층 구성 비율은 다

음 표와 같다.

(단위: %)

구분	부모 세대 계층(%)			자녀 세대 계층(%)	상층	중층	하층	계
	상	중	하					
자녀 세대 계층(%)	상	15	㉠	㉡	2	8	10	20
	중	a-30	15	㉢	14	16	20	50
	하	45-a	a	5	4	6	20	30
계	30	60	10	20	30	50	100	

ㄱ. 세대 간 계층 유지 비율은 38%, 이동 비율은 62%이다. ㄴ. 자녀 세대를 100명으로 가정한다면 세대 간 상승 이동한 사람은 38명, 세대 간 하강 이동한 사람은 24명이다. ㄷ. 자녀 세대 계층 대비 계층 대물림 비율은 상층 2/20, 중층 16/50, 하층 20/30이므로 하층에서 가장 높다. ㄹ. 부모 세대 계층 구조는 피라미드형 계층 구조, 자녀 세대 계층 구조는 다이아몬드형 계층 구조이다.

Fit 하는 순간, 오답도 실력이 된다!

---

## 고3 2019년 06월 생활과윤리 오답률 랭킹 5위

---

# 이지오답핏





## 나의 오답 문항

## 고3 2019년 06월 평가원 생활과윤리 5번

이게 바로 핵심이야!

왜 틀렸지?

이것만은 기억하자!

## 문제

§ 세부단원정보 : 사회와 윤리 | 사회 윤리와 사회 정의 | 개인 윤리와 사회 윤리

001 (가)를 주장한 사상가의 입장에서 (나)의 A, B, C의 행위에 대해 제기할 수 있는 적절한 비판만을 <보기>에서 있는 대로 고른 것은? [3점]

(가)	이성적 능력의 향상을 통해 사회 문제를 해결할 수 있다고 믿는 사람들도 있다. 그러나 집단의 이기적 충동의 힘이 이성보다 강력하기 때문에 이성의 힘만으로는 사회 집단 간의 갈등을 해결하기 어렵다. 그러한 갈등을 극복하기 위해서는 정치적인 힘이 필요하다.
(나)	<ul style="list-style-type: none"> <li>○ A는 전제 정치에 비폭력으로 대응하면서 사랑과 평화라는 종교적 이상을 바탕으로 전제 군주의 자비심에 호소하였다.</li> <li>○ B는 봉건 체제를 타파하기 위해서 개인의 양심과 결단에 근거하여 독자적으로 테러를 감행하였다.</li> <li>○ C는 식민 지배에 반대하면서 자국민들과 단결하여 비폭력적으로 지배국의 상품 불매 운동을 전개하였다.</li> </ul>

&lt;보 기&gt;

- ㄱ. A는 정치적인 힘 대신에 양심에만 호소하는 잘못을 범했다.  
 ㄴ. B는 자신의 의도를 조직적인 정치적 저항과 연결시키지 못했다.  
 ㄷ. C는 비폭력적으로 대응하여 정치적인 힘을 활용하지 못했다.  
 ㄹ. A와 B는 집단적 저항이 필요함을 제대로 파악하지 못했다.

① ㄱ, ㄷ

② ㄴ, ㄹ

③ ㄷ, ㄹ

④ ㄱ, ㄴ, ㄷ

⑤ ㄱ, ㄴ, ㄹ



§ 출전 : 고3 2016년 수능 생활과윤리 5번

002 다음 서양사상가가 긍정의 대답을 할 질문으로 옳은 것은? [3점]

집단과 집단 사이의 관계는 항상 윤리적이기보다는 지극히 정치적이다. 모든 도덕주의자들은 인간의 집단행동이 지닌 야수적 성격과 모든 집단적 관계들에 있는 집단적 이기주의의 힘에 대한 이해를 결여하고 있다. 그들은 사회적 갈등이 인류 역사에서 불가피한 것임을 제대로 인식하지 못한다.

- ① 개인 윤리적 이타성과 사회 윤리적 정의는 항상 상호 배타적인가?
- ② 개인들의 자발적 타협이 사회 정의를 실현하는 유일한 방법인가?
- ③ 개인의 도덕적 선의지 함양은 사회 정의 실현의 충분조건인가?
- ④ 개인 간 갈등은 도덕적이고 합리적인 방법으로 조정될 수 있는가?
- ⑤ 개인의 합리적 도덕성은 개인이 속한 집단의 도덕성보다 열등한가?

§ 출전 : 고3 2014년 수능 생활과윤리 19번

003 다음 사상가의 입장에서 <문제 상황> 속 A에게 해 줄 수 있는 적절한 조언만을 <보기>에서 있는 대로 고른 것은? [3점]

인간은 완전히 이성적일 수는 없다. 우리가 개인 생활에서 집단생활로 진행해 갈 경우, 충동을 제어할 수 있는 이성의 비중은 점점 줄어든다. 왜냐하면 집단 간의 공동의 지성은 항상 불완전하고 일시적이며, 집단은 그것을 맹목적이게 만드는 충동에 의지해 있기 때문이다.

<문제 상황>

A는 현대 사회에서 집단 이기주의가 만연하고 집단 간 갈등이 고조되고 있다는 사실을 알게 되었다. 그래서 A는 이런 문제의 발생 원인과 그 해결 방안에 대해 고민하고 있다.

<보 기>

- ㄱ. 선의지의 통제를 받는 비합리적 수단의 필요성을 깨달으렴.
- ㄴ. 사회 갈등이 집단 간 권력 불균형에 의해 지속됨을 깨달으렴.
- ㄷ. 집단이 커질수록 도덕적 목적 실현이 수월해짐을 깨달으렴.
- ㄹ. 도덕적 설득과 정치적 강제력이 병행되어야 함을 깨달으렴.

- ① ㄱ, ㄷ
- ② ㄴ, ㄷ
- ③ ㄴ, ㄹ
- ④ ㄱ, ㄴ, ㄹ
- ⑤ ㄱ, ㄷ, ㄹ

나의 오답 문항

고3 2019년 06월 평가원 생활과윤리 6번

이게 바로 핵심이야!

왜 틀렸지?

이것만은 기억하자!

문제

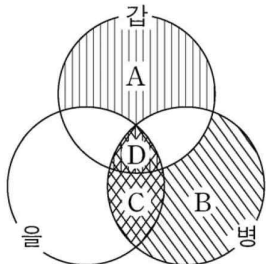
§ 세부단원정보 : 과학과 윤리 | 자연과 윤리 | 인간중심주의와 탈인간중심주의

004 (가)의 갑, 을, 병 사상가들의 입장에서 서로에게 제기할 수 있는 비판을 (나) 그림으로 표현할 때, A~F에 해당하는 내용으로 가장 적절한 것은? [3점]

(가)	<p>갑 : 우리는 인간에 대해서만 직접적인 의무를 지니며, 다른 존재들에 대해서는 그러한 의무를 지니지 않는다. 인간만이 실천 이성을 지닌 자율적 존재이기 때문이다.</p> <p>을 : 목적론적 삶의 중심인 생명체는 내재적 가치를 지닌다. 그러한 생명체는 자신의 고유한 선을 추구하며 일관성과 통일성을 지향하는 존재이다.</p> <p>병 : 흄, 물, 식물, 동물, 인간을 포함하는 생명 공동체는 생명적 성질을 지닌다. 인간은 생명 공동체의 지배자가 아니며, 대지 위의 모든 존재는 평등한 구성원이다.</p>
(나)	<p>〈범례〉          → : 비판의 방향          A~F : 비판의 내용</p> <p>〈예시〉          (갑) →<sup>A</sup> (을)          A는 갑이 을에게 제기할 수 있는 비판임</p>

- ① B : 쾌고 감수 능력을 지닌 존재는 도덕적 지위가 없음을 간과한다.
- ② C : 생태계 안정을 위해 생명체를 해치는 행위 모두는 잘못임을 간과한다.
- ③ A, F : 도덕적인 행위의 주체는 오직 인간뿐이라는 점을 간과한다.
- ④ B, E : 인간은 다른 생명체보다 우월한 지위를 지니지 않음을 간과한다.
- ⑤ D, F : 모든 생명체가 내재적 가치를 지니는 것은 아님을 간과한다.

005 (가)의 갑, 을, 병 사상가들의 입장을 (나) 그림으로 표현할 때, A~D에 해당하는 적절한 진술만을 <보기>에서 있는 대로 고른 것은? [3점]

(가)	<p>갑 : 늙은 말이나 개와 같이 오랫동안 봉사한 동물들에게 감사의 정(情)을 표현하는 것은 직접적으로는 언제나 인간의 자기 자신에 대한 의무일 따름이다.</p> <p>을 : 무당벌레와 진딧물의 관계와 같이 하나의 종(種)을 위한 선은 다른 종을 위한 선이 아닐 수 있다. 모든 생명체는 그 자신의 선을 가지는 목적론적 삶의 중심이다.</p> <p>병 : 식용 송아지의 비참한 모습은 애처롭고 마음 아프게 한다. 도덕적 무능력자이지만 삶의 주체인 동물들의 도덕적 권리를 침해하는 것은 옳지 않다.</p>
(나)	 <div style="border: 1px solid black; padding: 5px; margin-left: 20px;"> <p>〈범례〉</p> <p>A: 갑만의 입장</p> <p>B: 병만의 입장</p> <p>C: 을과 병만의 공통 입장</p> <p>D: 갑, 을, 병의 공통 입장</p> </div>

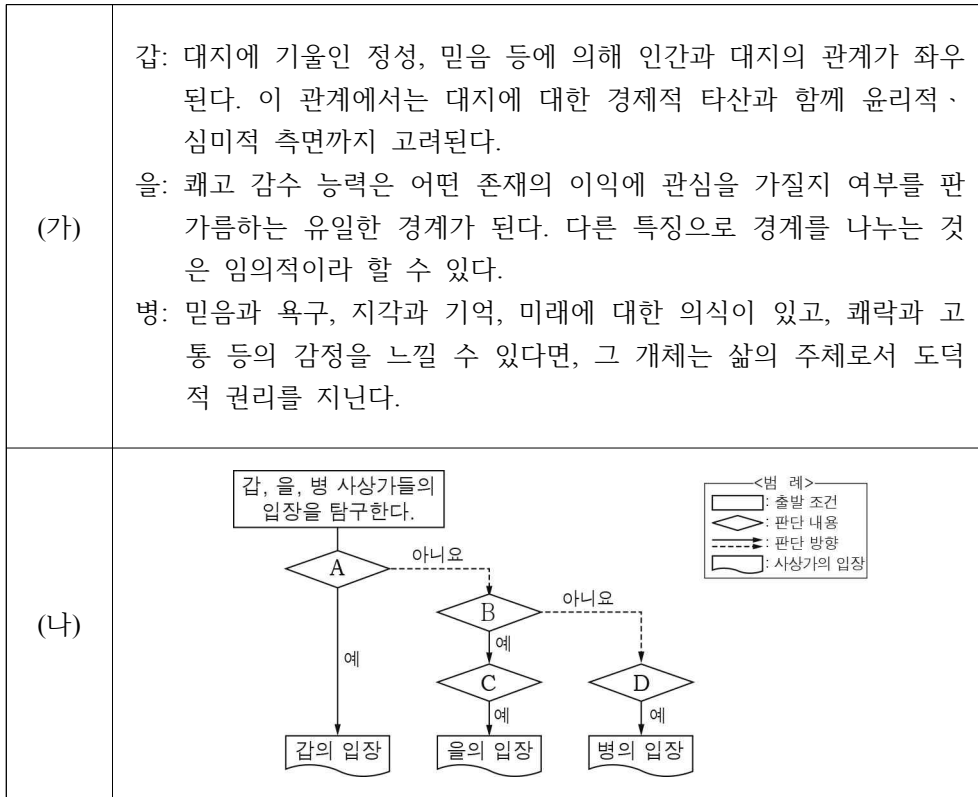
— <보 기> —

<p>ㄱ. A : 인간을 목적이 아닌 수단으로만 대우해서는 안 된다.</p> <p>ㄴ. B : 인간이 동물보다 본래적으로 더 우월한 것은 아니다.</p> <p>ㄷ. C : 내재적 가치를 지니는 비이성적인 개체도 존재한다.</p> <p>ㄹ. D : 생태계 그 자체의 도덕적 지위를 인정할 필요는 없다.</p>
---

- |           |           |        |
|-----------|-----------|--------|
| ① ㄱ, ㄴ    | ② ㄱ, ㄷ    | ③ ㄷ, ㄹ |
| ④ ㄱ, ㄴ, ㄹ | ⑤ ㄴ, ㄷ, ㄹ |        |

§ 출전 : 고3 2018년 04월 학력평가 생활과윤리 10번

006 (가)의 갑, 을, 병 사상가들의 입장을 (나) 그림으로 탐구할 때, A~D에 해당하는 적절한 질문만을 <보기>에서 있는 대로 고른 것은? [3점]



<보 기>

- ㄱ. A: 전체론적 관점에서 생명 공동체의 안정을 추구해야 하는가?
- ㄴ. B: 동물에 대한 도덕적 배려는 인간의 이익관심에 따른 의무인가?
- ㄷ. C: 고통을 느끼는 모든 종(種)은 도덕적 지위에 있어 동등한가?
- ㄹ. D: 도덕적 권리를 갖기 위해서 도덕적 행위 능력이 필요한가?

- ① ㄱ, ㄷ            ② ㄱ, ㄹ            ③ ㄴ, ㄹ
- ④ ㄱ, ㄴ, ㄷ        ⑤ ㄴ, ㄷ, ㄹ

고3 2019년 06월 평가원 생활과윤리 8번

이게 바로 핵심이야!

왜 틀렸지?

이것만은 기억하자!

문제

§ 세부단원정보 : O생명·성·가족 윤리 | 삶과 죽음 | 낙태와 생식 보조술

007 갑, 을의 입장으로 적절한 것만을 <보기>에서 있는 대로 고른 것은? [3점]

태아는 인간 생명체이지만 완전한 인격체는 아니기에 부분적인 도덕적 지위만을 가집니다. 따라서 태아를 함부로 죽이는 것은 안 되지만, 임신부의 질병 등으로 현재 상황이 좋지 않고 나중에 더 좋은 상황에서 임신하려는 경우라면 임신 중절은 허용됩니다.

태아가 잠재적인 인간이라는 사실은 부정될 수 없습니다. 잠재성이 중요한 이유는 태아를 죽이는 것이 미래의 합리적이고 자의식적인 존재를 죽이는 것이기 때문입니다. 따라서 인간으로서의 잠재성을 지닌 태아를 해치는 것은 옳지 않습니다.



갑



을

<보 기>

- ㄱ. 갑 : 태아의 권리와 임신부의 권리를 동등하게 대우해야 한다.
- ㄴ. 을 : 태아는 특별한 방해가 없는 한 하나의 인격체로 자랄 것이다.
- ㄷ. 을 : 태아는 합리적, 자의식적인 존재이기에 해쳐서는 안 된다.
- ㄹ. 갑, 을 : 태아를 단순한 세포 조직처럼 함부로 대우해서는 안 된다.

① ㄱ, ㄷ

② ㄱ, ㄴ

③ ㄴ, ㄹ

④ ㄱ, ㄴ, ㄷ

⑤ ㄴ, ㄷ, ㄹ

유사문제

§ 출전 : 고3 2016년 03월 학력평가 생활과윤리 5번

008 ㉠에 들어갈 내용으로 가장 적절한 것은?

갑 : 당신은 낙태가 허용되어야 한다고 생각하시나요?  
 을 : 저는 그렇게 생각하지 않습니다. 왜냐하면 태아는 성숙한 인간이 될 잠재성을 지니고 있고, 태아와 성인은 유전적으로 동일하여 태아는 온전한 인간으로서의 지위를 지니기 때문입니다.  
 갑 : 그렇다면 당신은  ㉠  (라)고 보는군요.

- ① 태아는 성인과 달리 제한된 지위를 갖는다
- ② 낙태는 태아가 지닌 인간으로서의 존엄성을 침해한다
- ③ 태아의 생명보다는 임신부의 자기 결정권을 존중해야 한다
- ④ 낙태는 법적으로 금지되지만 도덕적으로는 허용될 수 있다
- ⑤ 태아는 완전한 인격체가 아니므로 도덕적 고려 대상이 아니다

§ 출전 : 고2 2013년 11월 학력평가 생활과윤리 19번


009 (가)의 관점에서 대답할 때 A에 들어갈 말로 가장 적절한 것은? [3점]

(가)

도덕적 인격을 규정하는 최소한의 조건은 능력에 관한 것이지 그 실현에 관한 것이 아니다. 즉, 도덕적 인격이 될 잠재성이 도덕 공동체의 구성원이 될 충분조건인 것이다. 현재의 능력은 미래의 현실태이고, 도덕적 행동은 그 결과를 고려하는 행동이기 때문에 우리의 미래의 현실태, 즉 잠재성을 중시해야 한다.

낙태 허용 여부와 관련된 여러 갈등 상황에서 우선적으로 생각해야 할 점은 무엇일까요?

A



- ① 태아가 여성 몸의 일부임을 인정해야 합니다.
- ② 태아가 지닌 도덕적 지위를 고려해야 합니다.
- ③ 태아에 대한 권리가 여성에게 있음을 인정해야 합니다.
- ④ 독자적 생존이 가능해야 인간이 될 수 있음을 이해해야 합니다.
- ⑤ 유전자에 따라 태아의 가치가 달라질 수 있음을 고려해야 합니다.

고3 2019년 06월 평가원 생활과윤리 15번

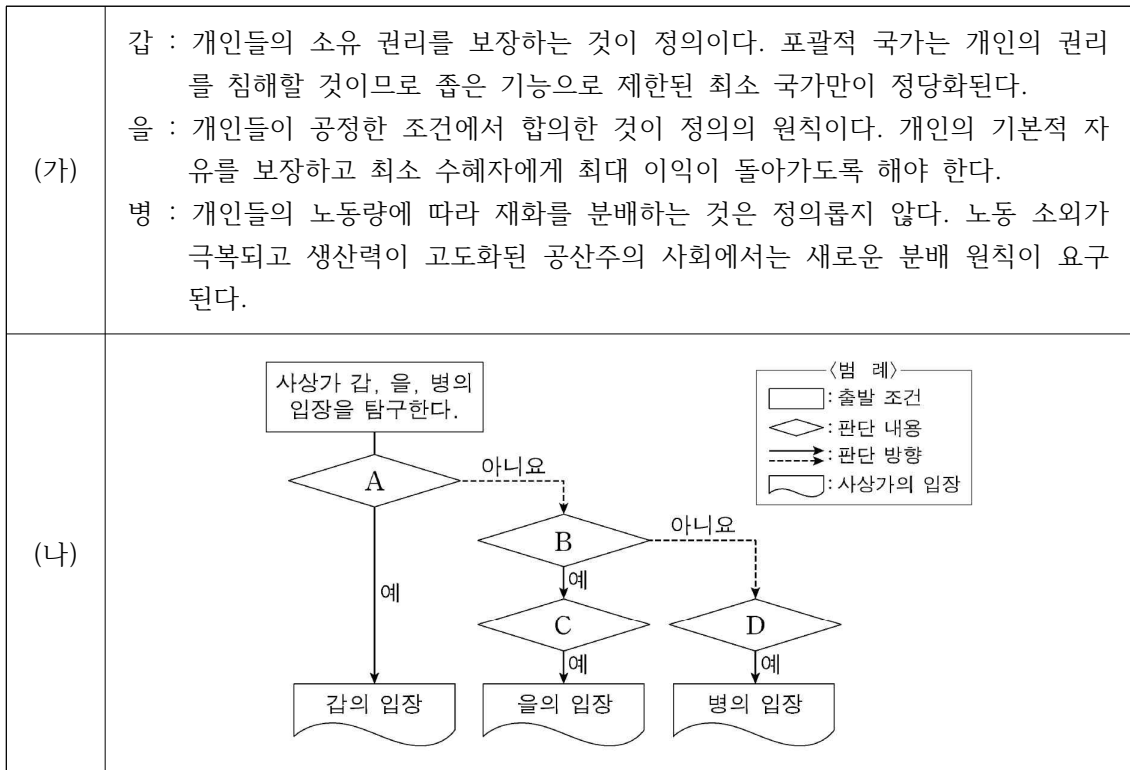
이게 바로 핵심이야!

왜 틀렸지?

이것만은 기억하자!

문제

010 (가)의 갑, 을, 병 사상가들의 입장을 (나) 그림으로 탐구할 때, A~D에 해당하는 적절한 질문만을 <보기>에서 있는 대로 고른 것은?



<보 기>

- ㄱ. A : 정형화된 재화 분배 원칙은 분배적 정의에 위배되는가?
- ㄴ. B : 경제적 불평등의 극복을 위해 기본적인 자유를 제약할 수 있는가?
- ㄷ. C : 분배 절차의 공정성으로 분배 결과의 정의가 보장되는가?
- ㄹ. D : 업적에 따른 분배 원칙은 부당한 경제적 불평등을 초래하는가?

① ㄱ, ㄴ

② ㄴ, ㄹ

③ ㄷ, ㄹ

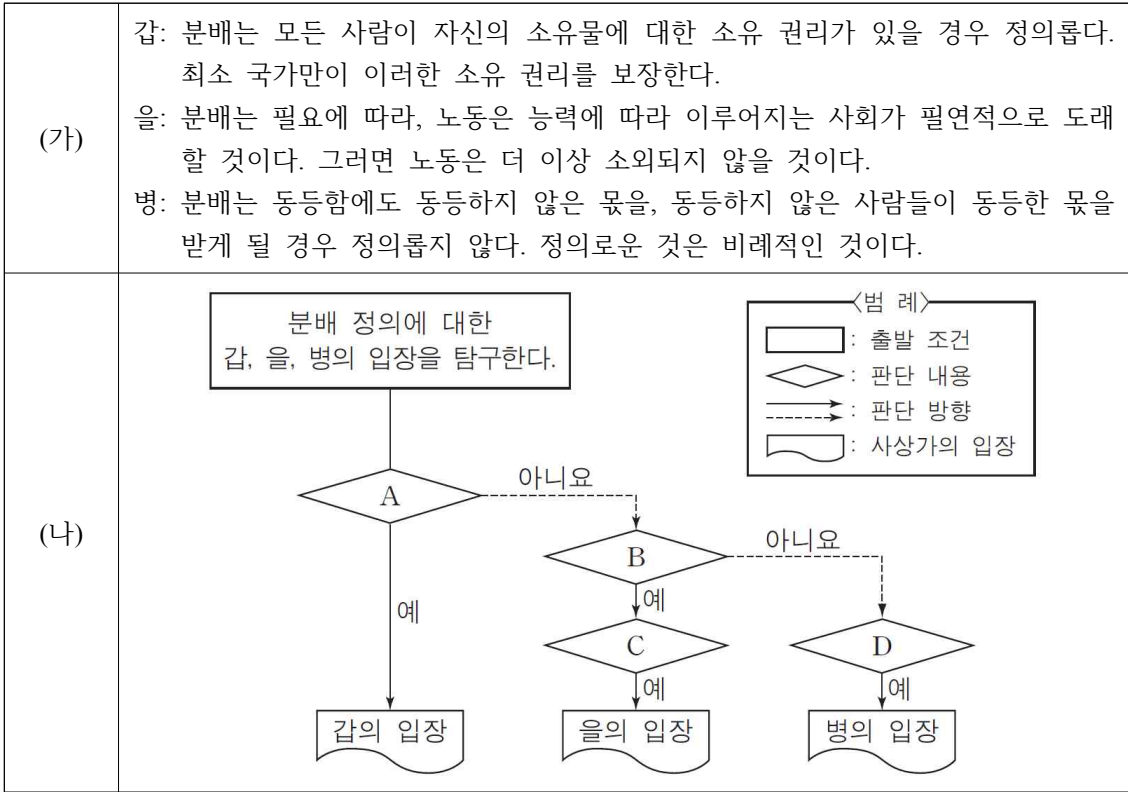
④ ㄱ, ㄴ, ㄷ

⑤ ㄱ, ㄷ, ㄹ





011 (가)의 갑, 을, 병 사상가들의 입장을 (나) 그림으로 탐구하고자 할 때, A~D에 들어갈 적절한 질문만을 <보기>에서 있는 대로 고른 것은? [3점]



- <보 기>
- |   |
|---|
| ㄱ. A: 소유 권리를 침해하지 않는 국가만이 정의로운가?<br>ㄴ. B: 재화의 분배는 개인의 자유로운 선택에 맡겨야 하는가?<br>ㄷ. C: 자본주의의 노동은 자발적인 것이 아니라 강제된 것인가?<br>ㄹ. D: 각자의 가치에 비례하여 각자의 몫이 분배되어야 하는가? |
|---|

- |           |           |        |
|-----------|-----------|--------|
| ① ㄱ, ㄴ    | ② ㄱ, ㄹ    | ③ ㄴ, ㄷ |
| ④ ㄱ, ㄷ, ㄹ | ⑤ ㄴ, ㄷ, ㄹ |        |

§ 출전 : 고3 2017년 07월 학력평가 생활과윤리 11번

012 (가)의 갑, 을, 병 사상가들의 입장을 (나) 그림으로 표현할 때, A~D에 해당하는 적절한 진술만을 <보기>에서 있는 대로 고른 것은? [3점]

(가)	<p>갑: 정부가 시민의 근로 소득에 세금을 부과하는 것은 그 사람에게서 시간을 강탈하고 그에게 다양한 활동을 명령하는 것이나 마찬가지이다.</p> <p>을: 소득과 부의 공정한 분배는 사회적인 지위에 접근할 기회가 동등하게 부여되고 최소 수혜자에게 최대의 혜택이 돌아갈 때 실현된다.</p> <p>병: 능력에 따라 일하고 필요에 따라 분배받는 사회에서 인간 각자는 진정으로 노동의 긍정적 모습에 따라 자아가 실현되는 상황에 이르게 된다.</p>
(나)	<div style="border: 1px solid black; padding: 5px; margin-left: 20px;"> <p>— &lt;범례&gt; —</p> <p>A: 갑만의 입장</p> <p>B: 을만의 입장</p> <p>C: 병만의 입장</p> <p>D: 갑, 을, 병의 공통 입장</p> </div>

— <보 기> —

<p>ㄱ. A: 재화의 취득, 양도, 교정에서 국가의 개입은 배제된다.</p> <p>ㄴ. B: 최소 수혜자를 배려하는 국가 차원의 재분배는 정의롭다.</p> <p>ㄷ. C: 사적 소유권이 폐지된 사회에서 분배의 평등이 실현된다.</p> <p>ㄹ. D: 선천적인 불평등을 조정해야 정의로운 분배가 가능하다.</p>
--

- |           |           |        |
|-----------|-----------|--------|
| ① ㄱ, ㄷ    | ② ㄱ, ㄹ    | ③ ㄴ, ㄷ |
| ④ ㄱ, ㄴ, ㄹ | ⑤ ㄴ, ㄷ, ㄹ |        |

고3 2019년 06월 평가원 생활과윤리 17번

이게 바로 핵심이야!

왜 틀렸지?

이것만은 기억하자!

문제

§ 세부단원정보 : 0평화와 윤리 | 지구촌 윤리 | 전쟁에 대한 입장

013 갑, 을 사상가들의 입장으로 옳은 것은?

갑 : 전쟁 중에는 장래의 평화 시기에 상호 신뢰를 불가능하게 하는 적대 행위를 해서는 안 된다. 영원한 평화를 위해서는 자유로운 국가들이 연합하여 세계 시민 사회로 나아가야 한다.

을 : 전쟁 개시가 정당화되려면 전쟁의 동기와 목표가 정의로워야 한다. 전쟁의 목적은 다른 국가를 섬멸하는 데 있는 것이 아니라 잃어버린 평화를 찾는 것이다.

- ① 갑 : 국가 간 적대 행위 중단이 영구적 평화를 보장하는 것은 아니다.
- ② 갑 : 국가들의 통치 형태와는 상관없이 완전한 영구 평화는 가능하다.
- ③ 을 : 타국의 인권 침해를 막기 위한 전쟁은 모두 부당한 내정 간섭이다.
- ④ 을 : 전쟁 수행의 정당성은 전쟁 개시 명분의 정당성에 따라 결정된다.
- ⑤ 갑, 을 : 국가 간의 분쟁을 해결하기 위해서는 전쟁이 불가피하다.

## 유사문제

§ 출전 : 고3 2018년 수능 생활과윤리 16번

014 갑, 을 사상가들의 입장으로 가장 적절한 것은?

갑 : 전쟁 수행 중 위험에 처한 민간인에 대한 도덕적 배려를 통해 전쟁에 대한 광범위한 지지를 확보하는 것이 ‘도덕의 유용성’이다. 정의롭지 못하다고 생각되는 전쟁을 해서는 안 되며, 전쟁을 시작하면 정의롭게 싸우고 정의롭게 종결해야 한다.

을 : 도덕의 주체인 인간은 타인을 수단으로만 대할 수 없으며, 국가도 한 인격체로서 타국의 한낱 수단이 될 수 없다. 따라서 어떤 독립 국가도 상속, 매매, 증여, 교환에 의해 다른 국가의 소유가 될 수 없다. 이는 영구 평화를 위한 전제조건이다.

- ① 갑 : 평화시와 달리 전시에는 도덕적 제약이 적용되지 않는다.
- ② 갑 : 전쟁 결과가 정의로워야 수행 과정도 정의롭다고 판정될 수 있다.
- ③ 을 : 영구 평화를 위한 진정한 의미의 정치는 도덕에 충실해야 한다.
- ④ 을 : 국가 간 적대 행위가 중지되는 즉시 평화 상태가 보장된다.
- ⑤ 갑, 을 : 타국의 내정에 대한 강제 개입은 평화를 위해서만 허용된다.

§ 출전 : 고3 2017년 수능 생활과윤리 7번

015 그림의 강연자가 지지할 입장으로 가장 적절한 것은? [3점]

정의로운 전쟁을 옹호하는 저의 주장은 두 가지입니다. 전쟁은 때로는 정당화될 수 있다는 것과 전쟁은 언제나 도덕 판단의 대상이 된다는 것입니다. 여기서 도덕 판단의 근거는 효용 계산의 결과가 아니라 인간의 생명과 자유에 대한 권리입니다. 또한 전쟁에 대한 도덕 판단의 영역은 개시, 수행, 종결의 세 가지로 구분됩니다. 어떤 전쟁이 정의로운지를 판단할 때는 전쟁 개시의 영역이 전쟁 수행의 영역보다 우선합니다. 전쟁 개시에서 가장 중요한 것은 정당한 명분입니다.



- ① 전쟁은 어떠한 도덕적 명분으로도 정당화될 수 없다.
- ② 전쟁의 정당한 명분을 사회 전체의 효용에서 찾아야 한다.
- ③ 전쟁의 정당한 명분보다 전쟁 수행의 규범을 중시해야 한다.
- ④ 전쟁은 국가의 주권 사항이므로 도덕적 평가에서 제외되어야 한다.
- ⑤ 전쟁 개시의 정당한 명분만으로 그전쟁이 정의롭다고 단정할 수 없다.

NOTEPLY™

# 정답과 해설

응답하라. 나의 수능 - 나를 알아주는 최적의 학습 시스템

[www.noteply.co.kr](http://www.noteply.co.kr)

## 1 정답 ⑤

## 니부어의 입장 파악

정답 해설 : (가)를 주장한 사상가는 니부어이다. A는 사랑과 평화라는 종교적 이상을 바탕으로 군주의 자비심에 호소하였으므로 정치적인 힘을 활용하지 못했다고 볼 수 있다. B는 개인의 양심과 결단에 의한 테러를 감행했지만, 조직의 힘과 연결시키지는 못했다. 그러므로 A, B는 집단적 저항이 필요함을 제대로 파악하지 못했다고 볼 수 있다.

## [오답피하기]

ㄷ. C는 비폭력적으로 대응하면서도 정치적인 힘을 활용했다고 볼 수 있다.

## 2 정답 ④

## 니부어의 기본 관점 이해

정답 해설 : 제시문은 니부어가 “도덕적 인간과 비도덕적 사회”에서 사회적 도덕 문제를 해석하는 도덕주의자들의 입장을 비판하는 내용이다. 니부어는 개인 간 갈등은 개인의 합리성과 이타적 양심을 통해 조정될 수 있지만, 집단 간 갈등은 본질적으로 사회·정치적 성격의 문제이기 때문에 정치적 강제력이 필요하다고 주장한다.

## [오답피하기]

① 니부어는 개인의 도덕적 이상인 이타심과 사회의 윤리적 이상인 정의가 일치되기는 매우 어렵지만, 상호배타적인 것은 아니라고 주장한다.

② 니부어는 개인적 노력만으로는 사회 정의를 실현할 수 없다고 주장한다. 그에 따르면 ‘사회 집단은 끝없는 이기심을 보이기’ 때문에 사회적 정의를 위해서는 강제력이 필요하다.

③ 니부어는 개인의 도덕적 선의지 함양은 사회 정의 실현의 필요조건은 될 수 있지만 충분조건은 아니라고 본다.

⑤ 니부어는 사회 집단의 도덕성은 개인의 합리적 도덕성보다 그 수준이 떨어진다고 본다.

## 3 [정답] ④

## 니부어의 사회 윤리 사상에 대한 이해

정답 해설 : 제시문은 사회 윤리 사상가인 니부어의 입장이며, <문제 상황> 속의 A는 집단 이기주의와 집단 간 갈등의 원인과 해결 방안에 대해 고민하고 있다. 니부어는 사회 정의를 추구하는 과정에서 선의지의 통제를 받는 비합리적 수단, 즉 이기심, 반항, 강제력 등의 필요성을 인정한다(ㄱ). 그는 사회 갈등의 원인을 집단 간 권력 불균형에서 찾고 있으며(ㄴ), 집단 간 갈등을 해결하기 위해서는 도덕적 설득과 함께 정치적 강제력이 동반되어야 함을 강조한다(ㄷ). 따라서 이러한 점들을 A에게 조언으로 제시할 수 있다.

[오답피하기] ㄷ. 니부어는 집단이 커질수록 그 집단은

이기적으로 되기 쉽고, 공동의 지성을 따르기가 어려워진다고 본다.

## 4 정답 ④

## 환경 윤리의 여러 입장 파악

정답 해설 : 갑은 칸트, 을은 테일러, 병은 레오폴드이다. 테일러와 레오폴드는 칸트와 달리 인간을 생명 공동체의 평범한 구성원으로 본다.

## [오답피하기]

① 테일러는 쾌고 감수 능력을 지닌 존재는 도덕적 지위가 있다고 본다.

② 테일러는 생태계 안정을 위해 생명체를 해치는 행위를 잘못이라고 본다.

③ 칸트와 테일러와 레오폴드는 모두 도덕적 행위의 주체는 인간뿐이라고 본다.

⑤ 테일러는 모든 생명체가 내재적 가치를 지닌다고 본다.

## 5 정답 ③

## 환경 윤리 이해

정답 해설 : 갑은 칸트, 을은 테일러, 병은 레건이다.

ㄷ. 테일러는 비이성적인 생명체도 내재적 가치를 지닌다고 보며, 레건은 삶의 주체인 일부 동물은 비이성적이지만 내재적 가치를 지닌다고 본다.

ㄹ. 생태계 그 자체의 도덕적 지위를 인정하는 사상은 전체론적 입장인 레오폴드이다.

## [오답피하기]

ㄱ. 칸트, 테일러, 레건의 공통된 입장이다.

ㄴ. 레건, 테일러의 공통된 입장이다.

## 6 [정답] ①

## [출제의도] 환경 윤리의 다양한 입장 이해하기

갑은 레오폴드, 을은 싱어, 병은 레건이다. 레오폴드는 전체론적 관점에서 무생물을 포함한 생명 공동체 전체를 도덕적 고려의 대상으로 여기는 대지 윤리를 주장하였다. 싱어는 이익 평등 고려의 원칙에 근거해 쾌고 감수 능력을 지닌 동물을 차별해서는 안 된다고 보았다. 레건은 비록 동물이 도덕적 행위 능력이 없더라도 삶의 주체로서 내재적 가치를 지닐 수 있으며 도덕적으로 존중받을 권리가 있다고 보았다.

## 7 정답 ③

## 태아의 지위에 대한 입장 비교

정답 해설 : 갑은 태아는 완전한 인격체가 아니므로 부분적인 도덕적 지위만을 지닌다고 본다. 이에 비해 을은 태아가 잠재적인 인간이므로 태아를 임신 중절하는 것은 잘못이라고 본다. 을은 태아를 잠재적 인간으로 간주하

므로 태아가 특별한 방해를 받지 않는 한 하나의 인격체로 성장할 것이라고 본다. 갑, 을은 모두 태아가 생명체라는 것을 인정하므로 태아를 단순한 세포 조직처럼 다루는 데 반대한다.

[오답피하기]

- ㄱ. 갑은 임신부의 결정에 의해 임신 중절을 할 수 있다고 본다. 따라서 태아의 권리와 임신부의 권리를 동등하게 대우할 것을 주장한다고 볼 수 없다.
- ㄷ. 을은 태아를 잠재적 인간으로 간주하므로 태아가 현재가 아닌 미래에 합리적이고 자의식적인 존재가 될 수 있다고 본다.

8 [정답] ②

[출제의도] 낙태 문제의 윤리적 쟁점을 파악한다.

제시문에서 을은 태아가 인간이 될 잠재성과 온전한 인간으로서의 지위를 지니고 있기 때문에 태아의 생명을 빼앗는 낙태를 해서는 안 된다고 주장한다.

9 [정답] ②

[출제의도] 태아의 도덕적 지위 이해하기

(가)는 인간으로서의 도덕적 지위는 인간이 될 수 있는 잠재성을 근거로 부여된다고 주장한다. 따라서 태아의 경우 앞으로 도덕 공동체의 구성원이 될 잠재성을 갖추고 있으므로 도덕적 지위를 부여해야 한다.

10 정답 ⑤

노직, 롤스, 마르크스의 정의론 비교 이해

정답 해설 : 갑은 노직, 을은 롤스, 병은 마르크스이다. 노직은 개인의 소유 권리를 보장하는 것이 정의라고 본다. 롤스는 원초적 입장에서 합리적 당사자들은 정의의 원칙에 합의할 수 있다고 본다. 마르크스는 자본주의 사회에서 발생한 노동 소외는 공산주의 사회에서 극복될 수 있다고 본다. 노직은 정형화된 분배 원칙에 따라 재화를 분배하는 것은 소유 권리를 침해한다고 본다. 롤스는 절차적 정의의 관점에서 공정한 절차는 결과의 정당성을 보장한다고 본다. 마르크스는 업적에 따른 분배는 노동자의 노동 소외를 초래한다고 본다.

[오답피하기]

ㄴ. 롤스는 경제적 불평등을 극복한다는 명분으로 기본적 자유를 제약할 수 없다고 본다.

11 정답 ④

노직, 마르크스, 아리스토텔레스의 분배의 정의 파악

정답 해설 : 갑은 노직, 을은 마르크스, 병은 아리스토텔레스이다. 노직은 정당하게 취득한 소유물에 대해서는 그 자신이 소유권을 가지며 어떤 경우라도 그 소유권은 침해되어서는 안 된다고 본다. 마르크스는 능력과 업적을 기준으로 분배하는 자본주의적 분배 기준은 필연적으로

로 소외를 가져오므로 분배는 필요에 따라 이루어져야 한다고 주장한다. 아리스토텔레스는 각자에게 각자의 정당한 몫을 돌려줌으로써 아무도 불만을 제기하지 않는 방식으로 분배해야 한다고 주장한다. ㄱ. 노직은 국가가 개인의 소유권을 침해해서는 안 된다고 본다. ㄷ. 마르크스는 자본주의하에서의 노동은 강제된 것으로서 소외를 가져온다고 주장한다. ㄴ. 아리스토텔레스는 각자에게 각자의 정당한 몫을 분배해야 한다고 주장한다.

[오답피하기] ㄴ. 마르크스는 사회주의자로서 계획 경제 체제를 주장한다. 따라서 생산과 분배가 개인의 선택이 아니라 계획에 의거해야 한다고 본다.

12 [정답] ③

[출제의도] 사회 정의 이해하기

갑은 노직, 을은 롤스, 병은 마르크스이다. 노직은 타인의 기본적인 권리와 자유를 침해하지 않는 한에서, 개인의 소유물에 대한 절대적 권리를 인정한다. 또한 재화의 취득·양도의 원칙을 주장하고 이 원칙에 따르지 않는 부정의의 교정에 국가가 개입할 수 있다고 본다. 롤스는 최소 수혜자를 우선적으로 배려하는 국가에 의한 재분배 정책이 필요하다고 본다. 마르크스는 산업사회의 분업이 노동으로부터 인간을 소외시키지만, 이상사회가 되면 인간은 노동을 통해 자아를 실현할 수 있다고 본다.

13 정답 ①

전쟁에 대한 입장 비교

정답 해설 : 갑은 칸트, 을은 왈처이다. 칸트는 국가 간 적대 행위의 중단이 영구 평화를 보장하는 것은 아니라고 본다.

[오답피하기]

- ② 칸트는 영구 평화를 위해서는 국내적으로 내정 간섭을 받지 않는 공화제를 도입해야 한다고 본다.
- ③ 왈처는 타국의 인권 침해를 막기 위한 전쟁은 정의로운 전쟁이 될 수 있다고 본다.
- ④ 왈처는 전쟁 개시 명분의 정당성만으로는 전쟁 수행의 정당성이 결정될 수 없다고 본다.
- ⑤ 칸트와 왈처 모두 국가 간의 분쟁 해결을 위해 전쟁이 불가피하다고 보지 않는다.

14 정답 ③

왈처의 정의 전쟁론과 칸트의 영구 평화론 이해

정답 해설 : 갑은 왈처, 을은 칸트이다. 칸트는 정치가 도덕 앞에 무릎을 꿇지 않으면 영원한 평화를 위한 진정한 의미의 정치는 실현되지 않는다고 주장한다.

[오답피하기]

- ① 왈처에 따르면 전쟁에는 도덕적 제약이 따라야 한다.
- ② 왈처는 전쟁 개시, 전쟁 수행, 전쟁 종결 모두가 정의롭게 이루어져야 함을 주장한다. 그에 따르면 전쟁 수행의 정의는 전쟁 종결의 정의와 관련 없이 이루어져야 한

다.

④ 칸트에 따르면 국가 간 적대 행위의 중단은 아직 평화 상태에 대한 보증이 아니다.

⑤ 왈처에 따르면 어떤 지역의 사람들에게 가해지는 잔악성과 고통의 정도가 극심하고, 그 지역의 어떤 세력도 문제 해결 능력이 없어 보일 때에는 인도주의적 차원에서 개입이 필요하다. 칸트에 따르면 어떠한 경우에도 타국의 내정에 대한 강제적 개입은 있을 수 없다. 따라서 “타국의 내정에 대한 강제 개입은 평화를 위해서만 허용된다.”라는 진술은 갑, 을의 공통된 입장으로 볼 수 없다.

15 정답: ⑤

왈처의 정의 전쟁론에 대한 입장 파악

정답 해설: 강연자는 정의 전쟁론을 주장한 왈처이다. 그는 전쟁이 정의 실현을 위한 수단이 될 수 있다고 본다. 왈처는 전쟁에 대한 도덕 판단의 영역을 전쟁 개시, 수행, 종결의 세 가지로 구분하고 있다. 따라서 전쟁 개시의 정당한 명분만으로 전쟁이 정의롭다고 판단할 수 없다고 본다.

[오답피하기]

① “전쟁은 때로는 정당화될 수 있다”라는 표현에서 오답임을 알 수 있다

② 왈처는 전쟁의 도덕 판단의 근거를 효용 계산이 아니라 인간의 생명과 자유에 대한 권리에서 찾고 있다.

③ 왈처는 전쟁 개시 영역에서의 정당한 명분이 전쟁 수행의 규범보다 중요하다고 본다.

④ 왈처는 전쟁은 언제나 도덕 판단의 대상이 될 수 있다고 본다.



Fit 하는 순간, 오답도 실력이 된다!

고3 2019년 06월 윤리와사상  
오답률 랭킹 5위

이지오답핏





## 나의 오답 문항

고3 2019년 06월 평가원 윤리와사상 6번

이게 바로 핵심이야!

왜 틀렸지?

이것만은 기억하자!

## 문제

§ 세부단원정보 : 서양 윤리 사상 | 신앙과 윤리 | 교부철학과 스킨라철학

001 그리스도교 사상가 갑, 을의 입장으로 가장 적절한 것은? [3점]

갑 : 인간의 행복은 신에 대한 완전한 인식, 신의 향유, 그리고 신과의 합일 안에서만 가능하다. 이러한 행복을 위해서는 반드시 신의 은총이 필요하다. 우리는 신의 은총을 통해 지상의 나라에서 벗어나 신의 나라로 갈 수 있다.

을 : 교황의 이름으로 된 면벌부를 사게 되면 죄의 형벌을 면하고 구원에 이를 수 있다고 인간에게 가르치는 것은 잘못이다. 인간은 완전한 회개를 통해 사면과 신의 은총을 충분히 누릴 권리를 갖고 있다.

- ① 갑 : 신은 선악을 포함하여 우주 만물을 창조한 절대자이다.
- ② 갑 : 인간은 신을 이성적으로 향유함으로써 완전한 행복에 이른다.
- ③ 을 : 인간은 자유 의지만으로도 원죄로부터 벗어날 수 있다.
- ④ 을 : 성서만이 진리이며, 오직 믿음으로 구원을 얻을 수 있다.
- ⑤ 갑, 을 : 개인의 신앙보다 교회의 종교적 권위가 더 중요하다.

§ 출전 : 고3 2016년 09월 평가원 윤리와사상 6번

002 그림은 중세 서양 사상이자 갑, 근대 서양 사상이자 을의 가상 대화이다. 갑, 을의 입장에 대한 설명으로 가장 적절한 것은? [3점]



- ① 갑은 인간이 죄를 짓는 존재이기 때문에 자유의지가 없다고 본다.
- ② 갑은 인간의 참된 행복이 이성을 통해 현세에서 실현된다고 본다.
- ③ 을은 지적인 관조를 통해 자연의 필연성을 초월할 수 있다고 본다.
- ④ 을은 신의 본성을 인식함으로써 완전한 행복을 얻을 수 있다고 본다.
- ⑤ 갑, 을은 신의 은총에 의해 정념의 방해에서 벗어날 수 있다고 본다.

§ 출전 : 고3 2017년 10월 학력평가 윤리와사상 17번

003 중세 서양 사상이자 갑, 을의 입장을 <보기>에서 고른 것은? [3점]

갑: 신은 모든 것이 나아가야 할 목적을 정하는 최초의 존재이다. 불완전한 존재인 인간은 신의 명령인 영원법에 근거를 둔 자연법을 따라야 한다.  
 을: 신은 이성적 인식을 넘어서 실존을 통해 만나야 할 인격적 존재이다. 불완전한 존재인 인간은 신에게 죄를 고백하고 그와 하나가 되려고 노력해야 구원받을 수 있다.

< 보 기 >

ㄱ. 갑: 자연법을 통해서도 신이 원하는 바를 파악할 수 있다.  
 ㄴ. 을: 신은 선악을 포함한 우주 만물을 창조한 절대자이다.  
 ㄷ. 갑, 을: 최고의 덕인 사랑을 통해 영혼을 정화할 수 있다.  
 ㄹ. 갑, 을: 신이 준 자질을 발휘하면 현세에서 구원받게 된다.

- ① ㄱ, ㄴ      ② ㄱ, ㄷ      ③ ㄴ, ㄷ      ④ ㄴ, ㄹ      ⑤ ㄷ, ㄹ

## 나의 오답 문항

고3 2019년 06월 평가원 윤리와사상 8번

이게 바로 핵심이야!

왜 틀렸지?

이것만은 기억하자!

## 문제

§ 세부단원정보 : 동양과 한국 윤리 사상 | 도덕적 심성 | 실학, 정약용의 사상

004 다음을 주장한 한국 사상가가 갑의 입장에 대해 제기할 수 있는 비판으로 가장 적절한 것은?

사덕(四德)은 사단을 확충한 것이다. 확충하는 데에 이르지 못하면 인의예지라는 이름 [名]은 끝내 성립할 수 없다. 어린 아이가 우물에 빠지려는 것을 보고 측은해 하면서도 가서 구하지 않으면 그의 마음에 인이 있다고 할 수 없다.

- ① 사덕을 모든 사람이 지닌 마음의 기호(嗜好)로 보아야 한다.
- ② 사덕을 사단의 확충 이전에 마음에 있는 것으로 보아야 한다.
- ③ 사단을 사덕이 마음에 있음을 알게 해 주는 단서로 보아야 한다.
- ④ 사단을 일상에서 선을 실천해야 형성되는 것으로 보아야 한다.
- ⑤ 사단을 사덕의 시작[始]이 될 수 있는 선한 마음으로 보아야 한다.

갑, 을은 한국 사상가들이다. 물음에 답하시오.

갑: 맹자는 성선(性善)의 이치를 드러내어 밝히면서 사단(四端)을 가지고 말하였으니, 사단은 이(理)가 발(發)한 것이라 선하다는 것을 알 수 있다. 또한 주자는“사단은 이의 발이고, 칠정(七情)은 기(氣)의 발이다.”라고 말했다. 대개 사단은 이가 발하여 선한 것이므로 이의 발이라 한 것이다.

을: 성인(聖人)은 사단을 인의예지의 근본으로 보고 여기서부터 공부를 일으키고 기초를 닦아 확충하게 하였다. 만약 사단의 이면(靚面)에 인의예지가 잠복해서 주인이 된다면, 이것은 맹자의 확충 공부가 그 근본을 버리고 그 끝을 잡는 격이 될 것이다.

§ 출전 : 고3 2016년 09월 평가원 윤리와사상 11번

005 갑, 을의 입장에 대한 설명으로 옳은 것은?

- ① 갑은 마음 밖의 사덕(四德)을 통해 사단이 발휘된다고 본다.
- ② 갑은 사단이 인간의 본성으로 칠정의 선한 측면일 뿐이라고 본다.
- ③ 을은 선을 좋아하는 마음의 기호(嗜好)가 사덕이라고 본다.
- ④ 을은 일상에서 사단을 부단히 실천함으로써 사덕이 형성된다고 본다.
- ⑤ 갑, 을은 사단의 형성을 위하여 본성을 변화시켜야 한다고 본다.

갑, 을, 병은 조선 시대 사상가들이다. 물음에 답하시오.

갑: 사단(四端)의 ‘단’은 시작을 뜻한다. 백성을 자애롭게 대한 후에 인이라 하고, 자신을 옳게 한 후에 의라 하며, 손님을 맞아 인사한 후에 예라 하고, 사물을 분별한 후에 지라 한다.

을: 사단의 정(情)은 이(理)가 발하여 기(氣)가 그것을 따르는 것이니, 순선하여 악이 없다. 칠정(七情)의 정은 기가 발하여 이가 그것을 타는 것이다.

병: 발하는 것은 기이고, 발하는 원인[所以]은 이이다. 이른바 ‘기가 발함에 이가 탄다.’는 것은 옳다. 다만 칠정만 그런 것이 아니라, 사단 역시 기가 발함에 이가 타는 것이다.

§ 출전 : 고3 2015년 06월 평가원 윤리와사상 8번

006 갑, 을, 병의 입장에 대한 설명으로 옳지 않은 것은? [3점]

- ① 갑은 사덕(四德)을 도덕 실천을 통해 형성되는 것으로 본다.
- ② 을은 사단과 칠정에는 모두 악(惡)의 가능성이 있다고 본다.
- ③ 병은 사단의 선(善)과 칠정의 선은 구분되지 않는다고 본다.
- ④ 갑과 을은 인간만이 사단(四端)을 확충할 수 있다고 본다.
- ⑤ 을과 병은 본성에 천리(天理)인 사덕이 내재되어 있다고 본다.

## 나의 오답 문항

고3 2019년 06월 평가원 윤리와사상 9번

이게 바로 핵심이야!

왜 틀렸지?

이것만은 기억하자!

## 문제

§ 세부단원정보 : 사회사상 | 시민 | 자유주의, 공화주의

007 다음 사회사상가가 지지할 입장만을 &lt;보기&gt;에서 있는 대로 고른 것은?

정치적 자유주의는 개인의 자유로운 사고와 행동을 보장하는 사회를 추구한다. 이 사회는 포괄적인 종교적·철학적·도덕적 교의가 지배하는 공동체와 구별되며, 정의에 대한 합리적 견해가 구성원의 자발적 합의를 통해 수용되는 질서 정연한 사회이다. 안정적인 정치사회를 구축하기 위해서는 다양한 신념들이 중첩되는 지점을 확보하는 것이 중요하다.

&lt;보 기&gt;

- ㄱ. 국가는 다양한 신념체계를 단일한 신념체계로 통합해야 한다.
- ㄴ. 국가는 시민이 다른 사람의 자유를 침해할 때 개입해야 한다.
- ㄷ. 국가는 개인의 정체성을 형성하게 하는 구성적 공동체이다.
- ㄹ. 국가는 공적 의사 결정에서 구성원의 동등한 권리를 보장해야 한다.

- ① ㄱ, ㄴ
- ② ㄱ, ㄷ
- ③ ㄴ, ㄹ
- ④ ㄱ, ㄷ, ㄹ
- ⑤ ㄴ, ㄷ, ㄹ

§ 출전 : 고3 2015년 수능 윤리와사상 7번

008 (가), (나)는 사회사상이다. (가) 사상에 비해 (나) 사상이 갖는 상대적 특징을 그림의 ㉠~㉥ 중에서 고른 것은? [3점]

(가) 자유는 가치를 스스로 선택하는 능력에 달려 있다. 개인은 불가침적인 권리를 지니므로 공동선을 위한다는 명목으로 누구도 타인을 강제할 수 없다. 도덕과 정치를 결합하려는 시도는 강제되지 않을 개인의 권리를 침해하므로 부당하다.

(나) 자유는 ‘함께하는 자치’에 달려 있다. 자치를 공유하는 것은 공동선에 대해 동료 시민들과 숙고하는 것을 의미하며, 자치를 공유하기 위해서는 시민들이 바람직한 품성을 습득해야 한다. 자치에 필수적인 품성을 길러 내는 것이 정치이다.

- X: 개인들의 가치관에 대한 국가의 중립을 강조하는 정도
- Y: 개인적 선이 공동체를 토대로 형성됨을 강조하는 정도
- Z: 개인들의 정치 참여 의무와 유대 의식을 강조하는 정도

- ① ㉠                      ② ㉡                      ③ ㉢                      ④ ㉣                      ⑤ ㉤

§ 출전 : 고3 2016년 06월 평가원 윤리와사상 5번

009 그림은 서술형 평가 문제와 학생 답안이다. 학생 답안의 ㉠~㉥ 중 옳지 않은 것은?

**서술형 평가**

● 문제: 사회사상 (가), (나)의 특징을 비교하여 서술하시오.

(가) 인간은 가치관 형성 능력과 함께 정의감을 가진다. 인간은 자신의 삶의 목적을 스스로 선택하는 자기 삶의 주체이며, 타인과의 공존을 위해 모든 사람이 수용할 수 있는 원칙에 입각하여 행동하려는 존재이다.

(나) 인간은 모두 누군가의 형제이고 사촌이며, 이 마을과 저 부족의 구성원이다. 이런 것들은 각자가 진정한 자아를 발견하고 정체성을 형성하기 위해 필요하며, 각자가 이행해야 할 의무와 책무를 규정해 준다.

● 학생 답안

(가)와 (나)의 특징을 비교하면, (가)는 ㉠국가를 개인의 자유와 권리를 보호하기 위한 조직으로 보며, (나)는 ㉡국가가 개인들의 다양한 가치관에 대해 가능한 한 중립을 유지해야 한다고 본다. 한편 ㉢(가)는 인간을 다른 사람과 독립된 자율적존재로, (나)는 상호 의존적인 연대적 존재로 본다. 또한 ㉣(가)는 정치공동체를 개인의 삶의 목적 달성을 위한 수단으로, (나)는 개인의 정체성 형성의 기반으로 본다. 그러나 ㉤(가)와 (나) 모두 개인적 선과 공동선이 공존할 수 있는 것으로 본다.

- ① ㉠                      ② ㉡                      ③ ㉢                      ④ ㉣                      ⑤ ㉤



나의 오답 문항

고3 2019년 06월 평가원 윤리와사상 12번

이게 바로 핵심이야!


왜 틀렸지?

이것만은 기억하자!

문제

§ 세부단원정보 : 동양과 한국 윤리 사상 | 인의 윤리 | 성리학, 양명학 사상

010 (가)의 중국 유교 사상가 갑, 을의 입장을 (나) 그림으로 표현할 때, A~C에 해당하는 적절한 진술만을 <보기>에서 있는 대로 고른 것은? [3점]

(가)	<p>갑 : 자식과 부모에게는 자식과 부모의 이치[理]가 있고, 신하와 군주에게는 신하와 군주의 이치가 있다. 사람의 양지(良知)는 본래부터 지니고 있는 것이지만 그 이치를 궁구하지 않으면 알지 못한다.</p> <p>을 : 자식이 부모를 섬길 때 효(孝)의 이치를 부모에게서 찾을 수는 없다. 신하가 군주를 섬길 때 충(忠)의 이치를 군주에게서 찾을 수는 없다. 내 마음의 양지를 사물 하나하나에 온전하게 실현해야 한다.</p>
(나)	 <div style="border: 1px solid black; padding: 5px; margin-left: 20px;"> <p>〈범례〉</p> <p>A : 갑만의 입장</p> <p>B : 갑, 을의 공통 입장</p> <p>C : 을만의 입장</p> </div>

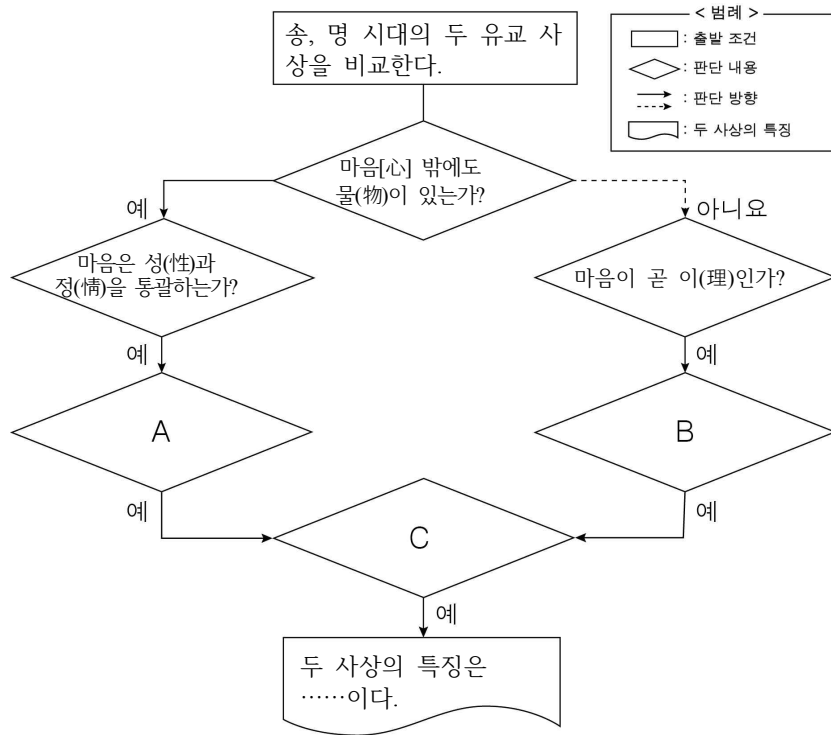
<보기>

- ㄱ. A : 양지는 하늘이 부여한 성(性)이자 내 마음의 본체이다.
- ㄴ. B : 양지는 군자와 소인의 구별 없이 모두 가지고 태어난다.
- ㄷ. B : 양지의 발현을 통해 타고난 성정(性情)을 바로잡는다.
- ㄹ. C : 양지는 실천[行]과 서로 별개가 아니라 본래 하나이다.

- ① ㄱ, ㄷ
- ② ㄱ, ㄹ
- ③ ㄴ, ㄹ
- ④ ㄱ, ㄴ, ㄷ
- ⑤ ㄴ, ㄷ, ㄹ

§ 출전 : 고3 2014년 03월 학력평가 윤리와사상 10번

011 그림의 A ~ C에 들어갈 질문으로 옳은 것은? [3점]



- ① A : 만물은 마음으로부터 생겨나는가?
- ② A : 지(知)와 행(行)은 본래 하나인가?
- ③ B : 지식 확충과 도덕 실천을 병행해야만 하는가?
- ④ B : 격물(格物)은 사물에 나아가 그 이치를 궁구하는 것인가?
- ⑤ C : 천리(天理)를 보존하고 인욕(人欲)을 제거해야 하는가?

§ 출전 : 고3 2013년 07월 학력평가 윤리와사상 15번

012 중국 사상가 갑, 을의 입장에 대한 설명으로 옳은 것은? [3점]

갑: 지(知)와 행(行)은 언제나 서로 의존한다. 마치 눈만 있고 발이 없으면 나아가지 못하고, 발만 있고 눈이 없으면 볼 수 없는 관계이다. 선후(先後)를 말하면 지가 먼저이고 경중(輕重)을 말하면 행이 더 중요하다.

을: 지가 진실되고 정성스러우며 독실한 것이 곧 행이며, 행의 의미가 밝게 드러나고 세밀히 검토되는 것이 바로 지이다. 지와 행은 본래 분리될 수 있는 것이 아니다.

- ① 갑은 격물(格物)의 의미를 마음을 바로 잡는 것으로 보았다.
- ② 갑은 앎은 행함의 시작이고 행함은 앎의 완성이라고 보았다.
- ③ 을은 마음 밖에 어떠한 이치도 존재하지 않는다고 보았다.
- ④ 을은 세계의 참모습을 이론적으로 탐구해야 한다고 보았다.
- ⑤ 갑은 마음과 이치를 하나로, 을은 둘로 나누어 보았다.

## 나의 오답 문항

고3 2019년 06월 평가원 윤리와사상 18번

이게 바로 핵심이야!

왜 틀렸지?

이것만은 기억하자!

## 문제

§ 세부단원정보 : 서양 윤리 사상 | 옳고 그름의 기준 | 공리주의

013 근대 서양 사상이자 갑, 을의 입장으로 옳은 것만을 &lt;보기&gt;에서 고른 것은?

갑 : 최대 다수의 최대 행복이 도덕과 입법의 기본 원리이다. 이러한 원리는 이성과 법의 손길로 더없이 행복한 구조를 세우려는 목적을 지닌 체계의 토대가 된다.

을 : 행복의 원리가 준칙들을 제공할 수는 있지만, 결코 의지의 법칙들로 쓰일 준칙들을 제공할 수는 없다. 행위의 도덕성은 오직 보편적 도덕 법칙에 의해서만 확보될 수 있다.

&lt;보 기&gt;

ㄱ. 갑 : 도덕은 행복한 삶을 실현하기 위한 수단이 될 수 없다.

ㄴ. 을 : 도덕의 목적은 모든 이성적 존재들의 행복 증진이다.

ㄷ. 을 : 의무가 문제일 때는 자신의 행복을 고려하지 말아야 한다.

ㄹ. 갑, 을 : 보편적 도덕 원리를 따라야 도덕적 행위가 된다.

① ㄱ, ㄴ

② ㄱ, ㄷ

③ ㄴ, ㄷ

④ ㄴ, ㄹ

⑤ ㄷ, ㄹ

§ 출전 : 고3 2015년 수능 윤리와사상 9번

014 서양 사상가 갑, 을의 주장으로 옳은 것은? [3점]

갑: 선의지에 스스로의 의도를 성취할 만한 능력이 전혀 없다 해도, 또한 이 의지가 아무리 노력을 해도 이루는 것이 아예 없다 해도, 선의지는 마치 보석과도 같이 그 자체로 빛나며 스스로의 모든 가치를 그 자체에 간직한다.

을: 강렬하고 지속적이며 확실하고 근접해 있으며 생산적이고 순수한 것. 쾌락과 고통에도 이와 같은 성향이 있으니, 그와 같은 것이 쾌락이라면 당연히 추구해야 하는 법. 사적이라면 당신의 목표로 삼고, 공적이라면 널리 전파하라.

- ① 갑: 선의지는 인간의 일반적인 자연적 경향성에 근거해야 한다.
- ② 갑: 무조건적 선은 이성적 존재의 의지 안에서 발견될 수 있다.
- ③ 을: 개인이 갖는 쾌락과 사회 전체의 선은 양립이 불가능하다.
- ④ 을: 고급 쾌락들을 경험한 전문가의 식견에 따라 행동해야 한다.
- ⑤ 갑, 을: 행위자의 품성을 배제하고 행위의 도덕성을 판단할 수 없다.

§ 출전 : 고3 2014년 수능 윤리와사상 9번

015 (가)를 주장한 근대 서양 사상가의 관점에서 (나) 퍼즐 속 세로 낱말 (A)에 대해 제시할 설명으로 가장 적절한 것은? [3점]

(가)	행복을 가져오는 행위는 승인되고 불행을 가져오는 행위는 부인된다. 쾌락이나 이익을 가져오는 행위는 행복으로, 고통이나 손해를 가져오는 행위는 불행으로 이어진다. 쾌락의 양은 계산될 수 있으며, 그 기준은 강도, 지속성, 확실성 등이다.																								
(나)	<table border="1" style="margin: 0 auto; border-collapse: collapse; text-align: center;"> <tr><td style="width: 20px; height: 20px;"></td><td style="width: 20px; height: 20px;"></td><td style="width: 20px; height: 20px;"></td><td style="width: 20px; height: 20px;"></td><td style="width: 20px; height: 20px;"></td><td style="width: 20px; height: 20px;"></td></tr> <tr><td style="width: 20px; height: 20px;"></td><td style="width: 20px; height: 20px;"></td><td style="width: 20px; height: 20px;">(A)</td><td style="width: 20px; height: 20px;"></td><td style="width: 20px; height: 20px;"></td><td style="width: 20px; height: 20px;"></td></tr> <tr><td style="width: 20px; height: 20px;"></td><td style="width: 20px; height: 20px;">(B)</td><td style="width: 20px; height: 20px;"></td><td style="width: 20px; height: 20px;"></td><td style="width: 20px; height: 20px;"></td><td style="width: 20px; height: 20px;"></td></tr> <tr><td style="width: 20px; height: 20px;"></td><td style="width: 20px; height: 20px;"></td><td style="width: 20px; height: 20px;"></td><td style="width: 20px; height: 20px;"></td><td style="width: 20px; height: 20px;"></td><td style="width: 20px; height: 20px;"></td></tr> </table> <p>[가로 열쇠]                  (A): 도교(道敎) 권선서(勸善書)의 일종으로 일상적인 행위에서 잘한 점[功]과 잘 못한 점[過]을 점수로 기록하는 책                  (B): 어떤 일을 자기의 마음대로 행할 수 있는 정당한 힘이나 자격을 일컫는 말.                  예) 천부인권은 하늘이 부여한 인간의 □□이다. □□와 의무</p> <p>[세로 열쇠]                  (A): …… 개념</p>									(A)					(B)										
		(A)																							
	(B)																								

- ① 보편적 도덕 원리가 존재하지 않음을 입증하는 근거이다.
- ② 행위 결과와 무관하게 행위자의 동기의 선악을 판별하는 기준이다.
- ③ 행위를 규제하는 법률을 제정하는 데 근거로 삼아야 하는 것이다.
- ④ 쾌락의 질(質)을 결정하기 위해 쾌락의 양(量)을 계산하는 척도이다.
- ⑤ 개인들의 이익의 총합을 넘어서는 공익이 있음을 보여주는 것이다.

NOTEPLY™

# 정답과 해설

응답하라. 나의 수능 - 나를 알아주는 최적의 학습 시스템

[www.noteply.co.kr](http://www.noteply.co.kr)

1 정답 ④

아우구스티누스와 루터 사상의 비교 이해

정답 해설 : 같은 아우구스티누스이고, 율은 루터이다. 아우구스티누스에 따르면 인간의 완전한 행복은 신의 은총이 있어야만 실현될 수 있다. 루터는 당시 가톨릭의 '오직 교회로만'이라는 입장을 비판하고 신앙주의, 성서주의, 만인사제주의를 주장하였다. 그에 따르면 성서만이 진리이며, 오직 믿음으로 구원을 얻을 수 있다.

[오답피하기]

- ① 아우구스티누스에 따르면 악은 신이 창조한 것이 아니라 인간이 자유 의지를 남용함으로써 생겨난 것이다.
- ② 아우구스티누스에 따르면 신은 이성적 인식을 넘어서 실존적으로 만나야 할 인격적 존재, 즉 신앙적 체험의 대상이다.
- ③ 루터에 따르면 인간은 신의 은총을 받아야 원죄에서 벗어날 수 있다.
- ⑤ 루터에 따르면 교회의 종교적 권위보다 개인의 신앙이 더 중요하다.

2 [정답] ④

아우구스티누스와 스피노자 사상의 비교 이해

정답 해설 : 같은 아우구스티누스이고, 율은 스피노자이다. 스피노자에 따르면 신 또는 자연이 유일한 실체이며, 인간은 그러한 신 또는 자연을 이성적으로 인식할 때 행복을 누릴 수 있다. 신 또는 자연을 이성적으로 인식하는 것은 자연의 필연적인 법칙을 파악하는 것이기도 하다.

[오답피하기]

- ① 아우구스티누스에 따르면 인간에게는 자유의지가 있다.
- ② 아우구스티누스에 따르면 인간의 참된 행복은 신의 은총에 의해 내세에서 실현된다.
- ③ 스피노자에 따르면 인간은 자연의 필연성을 초월할 수 없다.
- ⑤ 아우구스티누스와 스피노자 중에서 신의 은총에 의해 정념의 방해에서 벗어날 수 있다고 본 사상가는 아우구스티누스뿐이다.

3 [정답] ②

[출제의도] 아퀴나스와 아우구스티누스의 사상적 입장을 비교하여 이해한다.

같은 아퀴나스, 율은 아우구스티누스이다. 아퀴나스는 인간이 자연법을 통해서도 신이 우리에게 원하는 것이 무엇인지 깨달을 수 있다고 보았다.

[오답풀이] 나. 아우구스티누스는 악은 신이 창조한 것이 아니라 선이 결핍된 것이라고 보았다.

4 정답 ⑤

정약용의 인성론과 덕론 이해

정답 해설 : 제시문은 정약용의 주장이다. 정약용은 사단을 사덕의 단서[緒(서)]로 보는 성리학의 단서설(端緒說)을 비판하면서 단시설(端始說)을 제시하였다. 그에 따르면 사단은 사덕의 시작[始(시)]이 될 수 있는 선한 마음이다.

[오답피하기]

- ① 정약용에 따르면 사덕은 마음의 기호가 아니라 사단을 실천해야 형성되는 덕이다.
- ② 정약용에 따르면 사단을 확충하기 이전에는 마음에 사덕이 존재하지 않는다.
- ③ 정약용에 따르면 사단은 사덕의 존재를 알 수 있게 해주는 단서가 아니라 사덕으로 자라날 수 있는 싹과 같은 것이다.
- ④ 정약용에 따르면 사단은 형성되는 것이 아니라 인간이 본래 지니고 있는 것이다.

5 [정답] ④

이황과 정약용 사상의 비교 이해

정답 해설 : 같은 이황이고, 율은 정약용이다. 이황은 사단은 이가 발한 것이고 칠정은 기가 발한 것이라는 이기호발설(理氣互發說)을 제시하였다. 정약용은 이황을 비롯한 성리학자들과 달리 사덕(四德)을 인간에게 선천적으로 부여되어 있는 이치가 아니라 사단(四端)을 일상에서 부단히 실천함으로써 형성되는 덕으로 보았다.

[오답피하기]

- ① 이황을 비롯한 성리학자들은 사덕을 마음에 부여되어 있는 이치로 본다.
- ② 이황은 사단을 본성이 아니라 감정으로 보았다. 사단을 칠정의 선한 측면일 뿐이라고 주장한 사상가는 이이다.
- ③ 정약용은 선을 좋아하는 마음의 기호를 성(性)으로 보았다. 그에 따르면 사덕은 타고난 성이 아니다.
- ⑤ 이황은 사단을 선천적인 선한 감정으로 보았으며, 정약용은 사단을 선천적인 선한 마음으로 보았다.

6 정답 ②

이황, 이이, 정약용 사상의 비교 이해

정답 해설 : 같은 정약용이고, 율은 이황이며, 병은 이이다. 이황은 사단은 이가 발하여 기가 따른 것이고 칠정은 기가 발하여 이가 탄 것이라는 이기호발설(理氣互發說)을 제시하였다. 이에 비해 이이는 사단과 칠정은 모두 기가 발하여 이가 탄 것이라는 기발이승일도설(氣發理乘一途說)을 주장하였다. 정약용은 사단의 '단'을 '실마리'로 보는 성리학의 단서설(端緒說)을 부정하고 '시작'을 뜻하는 것으로 보는 단시설(端始說)을 제시하였다. 이황에 따르면 사단은 순수하게 선한 것이고 칠정은 선하게 될 수도 있고 악으로 흐를 수도 있는 것이다.

[오답피하기] ① 정약용은 사덕(四德)을 선천적인 것으로 보는 성리학자들과 달리 일상에서의 도덕적 실천을 통해 형성되는 것으로 보았다. ③ 이이는 사단을 칠정의 순전한 측면을 가리키는 것으로 보았다. 그러므로 사단의 선과 칠정의 선은 구분되지 않는다. ④ 정약용과 이항에 따르면 인간만이 사단을 확충할 수 있다. ⑤ 이항과 이이는 인간의 본성[性]에 천리(天理)인 사덕이 내재되어 있다고 보았다.

## 7 정답 ③

정치적 자유주의의 기본 입장 파악

정답 해설 : 제시문은 정치적 자유주의를 추구한 롤스의 주장이다. 정치적 자유주의는 자유주의의 기본 입장을 수용한다. 자유주의에 따르면 국가는 개인의 자유를 보장하기 위해 존재한다. 그러므로 한 시민이 다른 사람의 자유를 침해할 경우 개입해야 한다(L). 또한 국가는 공적 의사 결정을 할 때에 구성원의 동등한 권리를 보장해야 한다(R).

[오답피하기]

ㄱ. 자유주의에 따르면 국가는 다양한 신념체계를 허용해야 한다.

ㄷ. 자유주의에서는 국가를 개인의 자유와 권리를 실현하기 위한 도구적 공동체로 본다. 국가를 구성적 공동체로 보는 것은 공동체주의의 입장이다.

## 8 정답 ①

자유주의와 공동체주의의 특징 파악

정답 해설 : (가)는 자유주의의 입장이고, (나)는 공동체주의의 입장이다. 공동체주의는 정치를 ‘자치에 필수적인 품성을 길러내는 것’으로 본다는 점에서, 개인들의 가치관에 대한 국가의 중립을 강조하는 정도(X)가 개인주의에 비해 낮다고 할 수 있으며, ‘시민들의 바람직한 품성 습득’의 목적이 자치 공유에 있다고 본다는 점에서, 개인적선이 공동체를 토대로 형성됨을 강조하는 정도(Y)가 개인주의에 비해 높다고 할 수 있다. 또한 ‘공동선에 대해 동료 시민들과 숙고하는 것’을 강조한다는 점에서 개인들의 정치 참여 의무와 유대 의식을 강조하는 정도(Z)도 개인주의에 비해 높다고 볼 수 있다.

[오답피하기] ②, ③, ④, ⑤ 자유주의에 비해 공동체주의가 갖는 상대적 특징이라고 할 수 없다.

## 9 [정답] ②

자유주의와 공동체주의의 비교 이해

정답 해설 : (가)는 자유주의의, (나)는 공동체주의의 기본 입장이다. 자유주의는 개인의 자유와 권리를 최고의 가치로 보고 그것들을 최대한 잘 보호해 주는 사회 체제

를 추구한다. 공동체주의는 공동선이 개인적 선보다 우선하며, 개인의 좋은 삶은 공동체의 가치에 의해 안내된다고 주장한다. 국가가 개인들의 다양한 가치관에 대해 가능한 한 중립을 유지해야 한다고 보는 것은 자유주의의 입장이다.

[오답피하기] ① 자유주의는 국가를 개인의 자유와 권리를 보호하기 위한 조직으로 본다.

③ 자유주의는 인간을 다른 사람과 독립된 자율적 존재로 보지만, 공동체주의는 인간을 상호 의존적인 연대적 존재로 본다.

④ 자유주의가 정치 공동체를 개인의 삶의 목적 달성을 위한 수단으로 보는데 비해 공동체주의는 개인의 정체성 형성의 기반으로 본다.

⑤ 자유주의와 공동체주의는 모두 개인적 선과 공동선이 공존할 수 있다고 본다.

## 10 정답 ③

주희와 왕수인 사상의 비교 이해

정답 해설 : (가)의 갑은 주희이고, 을은 왕수인이다. 주희와 왕수인에 따르면 인간은 누구나 양지(良知)를 가지고 태어난다(L). 그리고 왕수인에 따르면 타고난 참된 앎인 양지는 본래 실천과 별개가 아니라 하나이다(R).

[오답피하기]

ㄱ. 양지를 하늘이 부여한 성이자 마음의 본체로 본 사상가는 주희가 아닌 왕수인이다.

ㄷ. 주희와 왕수인은 모두 성선설을 지지하였다. 그러므로 그들에 따르면 성(性)은 바로잡아야 할 대상이 아니라 보존하고 함양해야 할 것이다.

## 11 [정답] ⑤

[출제의도] 성리학과 양명학의 특징을 비교한다.

그림의 왼쪽은 성리학, 오른쪽은 양명학이다. 두 사상은 천리를 보존하고 인욕을 제거함으로써 도덕적인 인간이 될 수 있다고 강조하였다.

[오답풀이] ② 그림의 B에 해당하는 질문이다. ③, ④ 그림의 A에 해당하는 질문이다.

## 12 [정답] ③

[출제의도] 성리학과 양명학 비교하기

갑은 주자, 을은 왕양명이다. 왕양명은 『전습록』에서 지행합일(知行合一), 주자는 『주자어류』에서 선지후행(先知後行)을 주장하고 있다. 왕양명은 마음이 곧 이치라는 심즉리설(心即理說)과 사욕을 극복하고 본래의 참된 앎을 따르라는 치양지설(致良知說)을 주장한다. 주자와 왕양명은 모두 성인(聖人)이 되는 것을 목표로, 천리를 보존하고 인욕을 제거할 것을 강조한다. 그러나 격물치지(格物致知)에 대해서는 서로 다른 해석을 하고 있다. 성리학에서는 사물의 이

치를 철저히 궁구하여 우주의 이치를 밝히는 것으로 보고 있고, 양명학에서는 마음 밖에 어떠한 이치도 존재하지 않는다고 보았다.

### 13 정답 ⑤

벤담과 칸트 사상의 비교 이해

정답 해설 : 갑은 벤담이고, 을은 칸트이다. 벤담은 '최대 다수의 최대 행복'을 도덕과 입법의 기본 원리로 보았다. 칸트는 도덕과 행복은 양립 가능하지만 의무가 문제일 때에는 자신의 행복을 고려하지 말아야 한다고 주장하였다(ㄷ). 벤담과 칸트는 모두 보편적 도덕 원리를 따르는 행위를 도덕적 행위로 보았다(ㄹ).

[오답피하기]

- ㄱ. 벤담에 따르면 도덕은 행복한 삶을 실현하기 위한 수단이 될 수 있다.
- ㄴ. 칸트에 따르면 도덕은 다른 무엇의 수단이 아니라 그 자체가 목적이다.

### 14 정답 ②

칸트와 벤담의 기본 관점 파악

정답 해설 : (갑)은 칸트이고, (을)을 벤담이다. 칸트에게 있어 선의지는 이성을 통해 자명한 것으로 드러나는 도덕 법칙을 따르려는 의지로서, 이 세상에서나 세상 밖에서 조차도 그 자체로 선한 유일한 것이다.

[오답피하기] ① 칸트에게 있어서 자연적 경향성은 도덕 법칙을 따르려는 선의지에 장애가 되는 것으로서 극복해야 할 대상이다.

- ③ 벤담에 따르면 사회는 개인의 집합체이며, 개개인의 쾌락은 사회 전체의 행복과 연결된다.
- ④ 벤담은 모든 쾌락이 질적으로 동일하다고 주장하였다. 고급 쾌락과 저급 쾌락을 구분한 사상가는 밀이다.
- ⑤ 행위자의 품성을 강조하는 사상은 근대 법칙 윤리를 비판하는 현대 덕 윤리이다.

### 15 [정답] ③

벤담의 공리주의 사상 이해

정답 해설 : (가)는 공리주의 사상가인 벤담의 기본 입장이다. (나)의 가로 열쇠(A)는 '공과격(功過格)'이고 (B)는 '권리(權利)'이므로, 세로 열쇠 (A)는 '공리(功利)'이다. 공리의 원리는 어떤 행위가 행복을 증진시키는가 아니면 그렇지 않은가에 따라 그 행위를 판단하는 것이다. 벤담에 따르면 이러한 공리의 원리가 바로 도덕과 입법의 기본 원리이다. 그러므로 공리는 행위를 규제하는 도덕규범이나 법률을 제정할 때 그 근거로 삼아야 하는 것이라고 할 수 있다.

[오답피하기] ① 벤담은 공리의 원리를 보편적 도덕 원리

로 보았다.

- ② 벤담은 행위의 동기가 아니라 그 결과를 중시하였다.
- ④ 벤담은 쾌락은 한 종류뿐이고 양적인 차이만 있다고 보았다.
- ⑤ 벤담에 따르면 공동체의 이익은 그 구성원들의 이익의 총합일 뿐이다.